

# Mengenal Lingkungan Sekitar

Ilmu Pengetahuan Sosial untuk Kelas VI  
Sekolah Dasar/Madrasah Ibtidaiyah

Nurhadi

Hartitik Fitria Rahmawati



PUSAT PERBUKUAN  
Departemen Pendidikan Nasional

6

# Mengenal Lingkungan Sekitar

Ilmu Pengetahuan Sosial untuk Kelas VI  
Sekolah Dasar/Madrasah Ibtidaiyah

**Nurhadi**

**Hartitik Fitria Rahmawati**



**PUSAT PERBUKUAN**  
Departemen Pendidikan Nasional



Hak Cipta pada Departemen Pendidikan Nasional  
dilindungi oleh Undang-Undang

**Ilmu Pengetahuan Sosial:  
Mengenal Lingkungan Sekitar**  
untuk Kelas VI Sekolah Dasar/Madrasah Ibtidaiyah

Penulis : Nurhadi  
Hartitik Fitria Rahmawati  
Editor : Ika Armasari  
Yogie Nugraha Aryasetia  
Layouter : Johan Sugianto  
Diky Muharam  
Desainer Sampul : Herry Heriyanto  
Jayadi  
Ukuran Buku : 17,6 x 25 cm

372.8

NUR NURHADI  
m

Mengenal Lingkungan Sekitar Ilmu Pengetahuan Sosial 5 : untuk Kelas VI  
Sekolah Dasar/ Madrasah Ibtidaiyah / penulis, Nurhadi, Hartitik Fitria Rahmawati  
; editor, Ika Armasari, Yogie Nugraha Aryasetia  
. -- Jakarta : Pusat Perbukuan, Departemen Pendidikan Nasional, 2009  
vii, 122 hlm. : ilus. ; 25 cm

Bibliografi : hlm. 121

Indeks

ISBN 978-979-068-618-2 (nomor jilid lengkap)

ISBN 978-979-068-624-3

1. Ilmu Sosial-Studi dan Pengajaran

2. Ilmu-ilmu Sosial-Pendidikan Dasar I. Judul

II. Hartitik Fitria Rahmawati III. Ika Armasari IV. Yogie Nugraha Aryasetia

Hak Cipta Buku ini dibeli oleh Departemen Pendidikan Nasional  
dari Penerbit CV. Citra Praya

Diterbitkan oleh Pusat Perbukuan  
Departemen Pendidikan Nasional Tahun 2009

Diperbanyak oleh ....



# Kata Sambutan

Puji syukur kami panjatkan ke hadirat Allah SWT, berkat rahmat dan karunia-Nya, Pemerintah, dalam hal ini, Departemen Pendidikan Nasional, pada tahun 2009, telah membeli hak cipta buku teks pelajaran ini dari penulis/penerbit untuk disebarluaskan kepada masyarakat melalui situs internet (*website*) Jaringan Pendidikan Nasional.

Buku teks pelajaran ini telah dinilai oleh Badan Standar Nasional Pendidikan dan telah ditetapkan sebagai buku teks pelajaran yang memenuhi syarat kelayakan untuk digunakan dalam proses pembelajaran melalui Peraturan Menteri Pendidikan Nasional Nomor 69 Tahun 2008.

Kami menyampaikan penghargaan yang setinggi-tingginya kepada para penulis/penerbit yang telah berkenan mengalihkan hak cipta karyanya kepada Departemen Pendidikan Nasional untuk digunakan secara luas oleh para siswa dan guru di seluruh Indonesia.

Buku-buku teks pelajaran yang telah dialihkan hak ciptanya kepada Departemen Pendidikan Nasional ini, dapat diunduh (*download*), digandakan, dicetak, dialihmediakan, atau difotokopi oleh masyarakat. Namun, untuk penggandaan yang bersifat komersial harga penjualannya harus memenuhi ketentuan yang ditetapkan oleh Pemerintah. Diharapkan bahwa buku teks pelajaran ini akan lebih mudah diakses sehingga siswa dan guru di seluruh Indonesia maupun sekolah Indonesia yang berada di luar negeri dapat memanfaatkan sumber belajar ini.

Kami berharap, semua pihak dapat mendukung kebijakan ini. Kepada para siswa kami ucapkan selamat belajar dan manfaatkanlah buku ini sebaik-baiknya. Kami menyadari bahwa buku ini masih perlu ditingkatkan mutunya. Oleh karena itu, saran dan kritik sangat kami harapkan.

Jakarta, Juni 2009  
Kepala Pusat Perbukuan



# Kata Pengantar

Selamat, kamu telah berhasil masuk di Kelas VI Sekolah Dasar. Buku yang sedang kamu baca ini berjudul *Mengenal Lingkungan Sekitar* Jilid 6 yang merupakan buku teks pelajaran Ilmu Pengetahuan Sosial untuk Kelas VI jenjang SD/MI.

Materi-materi pembelajaran pada buku ini disajikan secara sistematis, komunikatif, dan integratif. Di setiap awal bab, disajikan Apa Manfaat Bagiku? dan Kata Kunci. Selain itu, terdapat pendahuluan pada awal bab yang dilengkapi gambar, bertujuan memberikan gambaran dan manfaat dari materi yang dipelajari.

Buku ini juga ditata dengan format yang menarik dan didukung dengan foto dan ilustrasi yang representatif. Penggunaan bahasa yang sederhana, sesuai dengan tingkatan kognitif siswa membuat pembaca lebih mudah memahaminya.

Buku *Mengenal Lingkungan Sekitar* untuk Kelas VI ini terdiri atas enam bab, yaitu Perkembangan Wilayah Indonesia, Ketampakan Alam dan Keadaan Sosial Negara-Negara Tetangga, Benua-Benua di Dunia, Gejala Alam di Indonesia dan Negara Tetangga, Peran Indonesia di Era Globalisasi, dan Kegiatan Ekonomi Antarbangsa. Buku ini juga dilengkapi dengan beberapa materi pengayaan, yaitu Ayo Jawab, **Tokoh Kita**, Sumber Ilmu, **Let's Learn** (Belajar Bahasa Inggris), **Kegiatan Individu**, dan **Kegiatan Bersama**.

Untuk menguji dan mengukur pemahaman siswa terhadap materi yang telah dipelajari, pada setiap akhir bab disajikan **Evaluasi Bab**, yang terdiri atas soal pilihan ganda, soal uraian, dan tugas. Di setiap akhir semester disajikan **Evaluasi Semester**. Adapun di akhir buku disajikan **Evaluasi Akhir Tahun** sebagai sarana menguji pemahaman kamu terhadap semua materi yang telah dipelajari. Selain itu, dicantumkan juga **Senarai** dengan tujuan memudahkan kamu dalam memahami istilah-istilah yang terdapat dalam teks materi pembelajaran.

Terima kasih kami sampaikan kepada siswa, guru, dan pihak lain yang telah membantu dalam terselesaikannya buku ini. Akhir kata, semoga buku *Mengenal Lingkungan Sekitar* untuk Kelas VI ini, benar-benar merupakan teman yang setia dalam meningkatkan semangat belajar menuju masa depan yang lebih baik.

Penerbit

# Petunjuk Penggunaan Buku

Materi-materi pembelajaran dalam buku ini disajikan secara sistematis, komunikatif, dan interaktif. Berikut ini cara cerdas yang kami tawarkan kepada Kamu untuk membaca dan memahami isi buku ini.

Buku Mengetahui Lingkungan Sekitar untuk kelas VI ditata dengan format yang menarik dan didukung dengan foto dan ilustrasi yang representatif. Berikut ini panduan membaca yang kami susun agar mempermudah Kamu membaca dan memahami isi buku ini: **Judul Bab (1)** dicantumkan agar siswa mengetahui materi-materi yang akan dipelajari. **Apa Manfaat Bagiku? (2)** berisi tujuan yang diharapkan dari proses pembelajaran kepada siswa. **Kata Kunci (3)** berisi kata-kata penting dalam materi pembelajaran yang harus diketahui dan dipahami siswa. **Pendahuluan (4)** merupakan pengantar untuk masuk ke materi yang akan dipelajari dalam bab yang bersangkutan. **Let's Learn (Belajar Bahasa Inggris) (5)** berisi pengayaan kosa kata dwibahasa untuk menambah kemampuan siswa dalam berbahasa Inggris. **Ayo, Jawab (6)** berisi pertanyaan untuk menguji pemahaman siswa tentang materi yang tengah dipelajari. **Kegiatan (7)** disajikan dalam bentuk kegiatan Individu dan bersama yang dapat menuntun siswa untuk memahami materi yang diajarkan. **Sumber Ilmu (8)** berisikan informasi yang berasal dari internet, surat kabar, buku, atau sumber lain yang berhubungan dengan materi yang dipelajari. **Tokoh Kita (9)** menyajikan tokoh yang berhubungan dengan materi yang dibahas. **Evaluasi (10)** berisi soal-soal latihan dalam setiap bab, semester, dan akhir tahun yang berhubungan dengan materi yang telah dipelajari. **Daftar Pustaka (11)** berisikan sumber-sumber materi yang terdapat dalam buku. **Glosarium (12)** berisikan istilah-istilah penting yang terdapat dimateri.

**6** Bab

**1** Kegiatan Antarbab  
**1** Apa Manfaat Bagiku?  
Dengan mempelajari/baca buku ini, kamu dapat mengetahui kegiatan ekspor dan impor sebagai berikut.  
**2** Kata Kunci  
Kata kunci yang berkaitan dengan materi ini adalah ekspor, impor, perdagangan internasional, ekspor, dan impor.  
**3** Pendahuluan  
Di zaman modern, kebutuhan manusia semakin banyak dan beragam. Tidak hanya kebutuhan sandang, tetapi juga kebutuhan pangan dan papan. Kamu mungkin pernah melihat di televisi iklan kapal-kapal yang membawa berbagai barang dari luar negeri. Bagaimana kamu, untuk apa barang-barang tersebut harus dikirim? Apakah keuntungan yang diperoleh dari kegiatan tersebut? Kemudian, apa dampak dari adanya kegiatan ekonomi tersebut? Pertanyaan-pertanyaan tersebut akan kamu temukan dalam bab ini.  
**4** Perdagangan Internasional  
**5** Ekspor  
**6** Impor  
**7** Dampak Kegiatan Ekspor dan Impor

**5** Let's Learn  
Debita = Perjanjian  
Kredit = Hutang  
Kredit = Hutang  
Mata Uang  
Pemasukan  
Gedung

**6** Apa yang bisa kamu lakukan dalam menanggapi kegiatan ekspor?  
Tulis jawabanmu dalam buku tugas.

**7** Kegiatan 1  
Urutlah melati kemampuan dalam berpikir kritis, jawablah pertanyaan berikut.  
1. Apa yang dimaksud dengan ekspor dan impor?  
2. Apa yang dimaksud dengan impor dan ekspor?  
3. Urutkan manfaat ekspor bagi suatu negara.

**8** Sumber Ilmu  
Cina Kuno Produk Industri...  
Badan Pusat Statistik (BPS) mencatat nilai ekspor Indonesia pada tahun 2006, produk impor dari Cina menguasai 12,86% atau mayoritas pangsa pasar Indonesia.

**9** Tokoh Kita  
Aburizal Bakrie  
I. H. Aburizal Bakrie atau akrab dipanggil Ical salah seorang pengusaha sukses asal Indonesia. Ia lahir di Jakarta pada 14 November 1947. Ia menjadi Komisaris Utama (Chairman) PT Garuda Indonesia, PT Usaha Bakrie, Pada Kabinet Indonesia Bersatu, ia juga pernah menjadi Ketua Dewan Pengarah PT Garuda Indonesia.  
Sumber: www.wikipedia.com

**10** Evaluasi Bab  
**Ayo, Kerjakan pada buku tugas.**  
**A. Pilihlah jawaban yang paling tepat.**  
1. Kegiatan jual beli barang atau jasa antara dua negara atau lebih disebut perdagangan internasional.  
a. lokal  
b. domestik  
c. internasional  
d. pasar  
2. Berikut bukan pendongkrak terjadinya kegiatan perdagangan internasional, yaitu...  
a. liberalisasi perdagangan internasional  
b. liberalisasi perdagangan internasional  
c. liberalisasi perdagangan internasional  
d. liberalisasi perdagangan internasional

**11** Daftar Pustaka  
Belen, S. 2003. *Portofolio dan F... dan Pelaksanaan KIK*. Jakarta: Tingkat Pasar.  
Badan Standar Nasional Pendidikan. *Standar Isi Kompetensi Dasar Mata Pelajaran Ilmu Pengetahuan Sosial XI/II*. Jakarta: Depdiknas.

**12** Glosarium  
Bencana geologis : bencana alam yang disebabkan oleh faktor-faktor di dalam bumi.  
Danau : genangan air yang luas, dikelilingi daratan.

Kegiatan Ekonomi Antarbangsa 109

# Daftar Isi

<b>Kata Sambutan</b> .....	<b>iii</b>
<b>Kata Pengantar</b> .....	<b>iv</b>
<b>Petunjuk Penggunaan Buku</b> .....	<b>v</b>
<b>Bab 1 Perkembangan Wilayah Indonesia</b> .....	<b>1</b>
A. Perkembangan Provinsi di Indonesia .....	3
B. Provinsi dan Potensi Daerah di Indonesia .....	6
C. Perkembangan Wilayah Laut Indonesia .....	13
D. Menjaga Kelestarian Laut .....	15
Evaluasi Bab 1 .....	18
Ayo, Kerjakan .....	20
<b>Bab 2 Ketampakan Alam dan Keadaan Sosial     Negara-Negara Tetangga</b> .....	<b>21</b>
A. Ketampakan Alam Wilayah Asia Tenggara .....	23
B. Keadaan Alam dan Sosial Asia Tenggara .....	26
C. Kerja Sama Indonesia dan Negara Tetangga .....	37
Evaluasi Bab 2 .....	40
Ayo, Kerjakan .....	42
<b>Bab 3 Benua-Benua di Dunia</b> .....	<b>43</b>
A. Benua Asia .....	45
B. Benua Amerika .....	48
C. Benua Afrika .....	52
D. Benua Eropa .....	55
E. Benua Australia .....	58
Evaluasi Bab 3 .....	61
Ayo, Kerjakan .....	63
<b>Evaluasi Semester 1</b> .....	<b>64</b>

<b>Bab 4 Gejala Alam di Indonesia dan Negara Tetangga .....</b>	<b>67</b>
A. Jenis-Jenis Bencana Alam .....	69
B. Penyebab dan Akibat Bencana Alam .....	71
C. Upaya Menghadapi Bencana Alam .....	77
Evaluasi Bab 4 .....	80
Ayo, Kerjakan .....	82
<b>Bab 5 Peran Indonesia di Era Globalisasi .....</b>	<b>83</b>
A. Pengertian Globalisasi .....	85
B. Dampak Globalisasi .....	88
C. Bukti Globalisasi .....	90
D. Sikap Menghadapi Globalisasi .....	93
E. Indonesia di Era Globalisasi .....	94
Evaluasi Bab 5 .....	96
Ayo, Kerjakan .....	98
<b>Bab 6 Kegiatan Ekonomi Antarbangsa .....</b>	<b>99</b>
A. Perdagangan Internasional .....	101
B. Ekspor .....	102
C. Impor .....	106
D. Dampak Kegiatan Ekspor dan Impor .....	107
Evaluasi Bab 6 .....	111
Ayo, Kerjakan .....	113
<b>Evaluasi Semester 2 .....</b>	<b>114</b>
<b>Evaluasi Akhir Tahun .....</b>	<b>117</b>
<b>Daftar Pustaka .....</b>	<b>121</b>
<b>Senarai .....</b>	<b>122</b>





# 1

## BAB



Sumber: Atlas Indonesia Baru, 2000

## Perkembangan Wilayah Indonesia

### Apa Manfaat Bagiku?

Dengan mempelajari bab ini, kamu dapat menjelaskan perkembangan jumlah wilayah provinsi di Indonesia, perubahan wilayah laut Indonesia, dan upaya untuk menjaga kelestarian laut.

### Kata Kunci

Perkembangan wilayah, provinsi, batas laut, ZEE, laut teritorial, dan Deklarasi Djuanda.

### Pendahuluan

Indonesia merupakan salah satu negara terluas di kawasan Asia Tenggara. Selain itu, Indonesia adalah negara kepulauan terbanyak di dunia. Sebagai negara kepulauan, Indonesia memiliki wilayah laut yang luas. Saat ini, negara kita memiliki 33 provinsi, mulai dari Sabang sampai Merauke. Tahukah kalian, berapa jumlah provinsi di Indonesia pada awal kemerdekaan? Mengapa sekarang jumlah provinsi bertambah menjadi 33? Apakah batas laut kita juga mengalami perubahan? Hal ini, dapat kamu ketahui setelah mempelajari materi tentang perkembangan wilayah Indonesia.

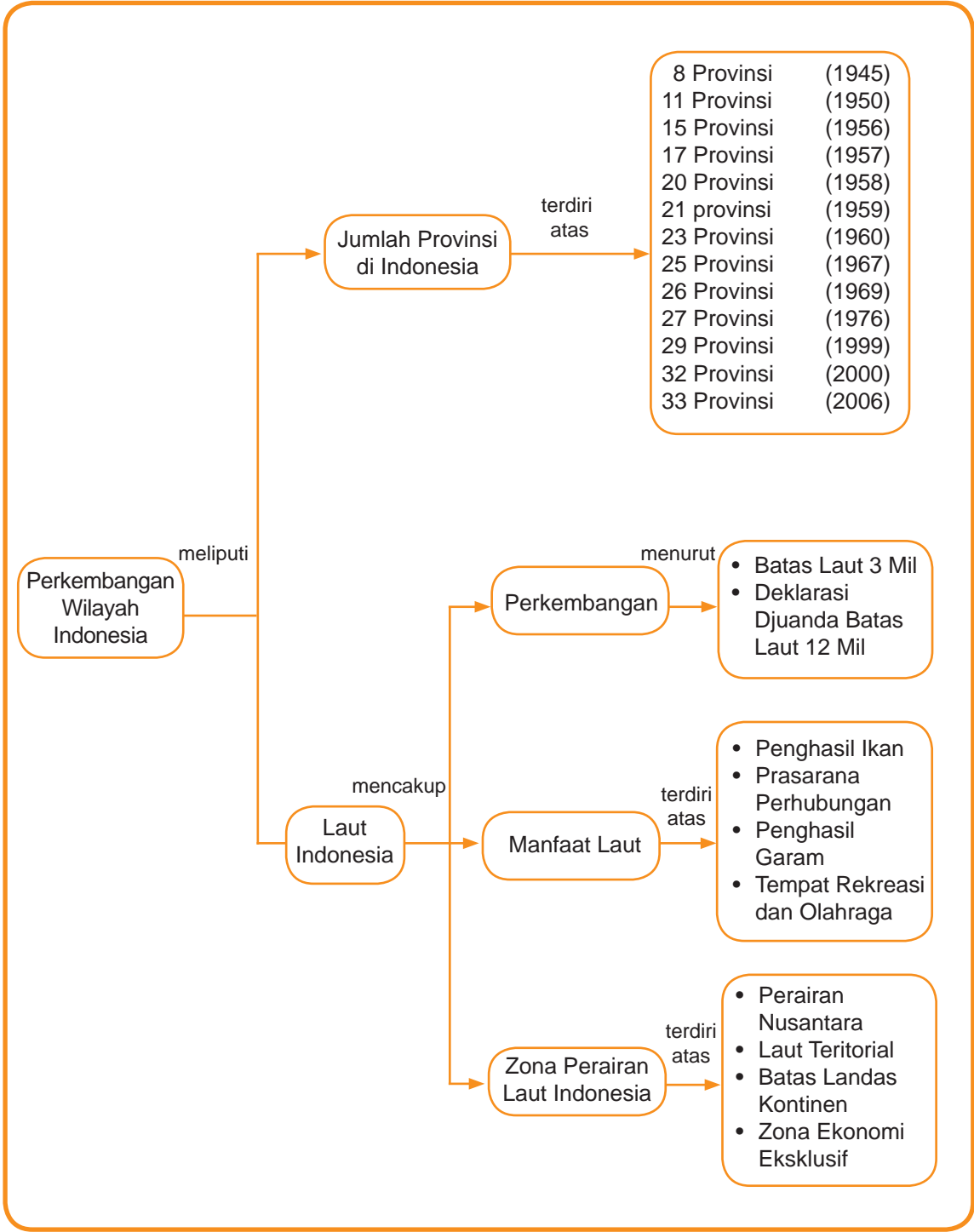
**A** Perkembangan Provinsi di Indonesia

**B** Provinsi dan Potensi Daerah di Indonesia

**C** Perkembangan Wilayah Laut Indonesia

**D** Menjaga Kelestarian Laut

# Peta Konsep





## Perkembangan Provinsi di Indonesia

Indonesia merupakan negara terluas di kawasan Asia Tenggara, luas wilayahnya  $\pm 5.193.252 \text{ km}^2$ . Sebagai negara kepulauan, Indonesia memiliki  $\pm 17.508$  pulau. Jumlah pulau yang banyak ini menjadi potensi jika dimanfaatkan dengan baik. Pada Desember 2002, Indonesia harus kehilangan Pulau Sipadan dan Pulau Ligitan di Kalimantan Timur karena Indonesia kurang memerhatikan kedua pulau tersebut.

Mahkamah Internasional di Den Haag memutuskan, Malaysia berhak memiliki kedua pulau tersebut. Mahkamah menganggap bahwa Malaysia akan lebih mengembangkan sumber daya pulau-pulau tersebut. Oleh karena itulah, diperlukan kesatuan dan persatuan dari seluruh bangsa Indonesia untuk menjaga keutuhan wilayah Negara Kesatuan Republik Indonesia (NKRI).



Ayo,  
Jawab

Untuk mengembangkan wawasan kebangsaanmu, upaya apa yang sebaiknya dilakukan pemerintah dan kita sebagai warga negara untuk menjaga keutuhan Negara Kesatuan Republik Indonesia?



Sumber: Atlas Indonesia Baru, 2000

Untuk mengatur kelancaran jalannya pemerintahan, Indonesia dibagi menjadi beberapa provinsi. Pada 19 Agustus 1945, Panitia Persiapan Kemerdekaan Indonesia (PPKI) melaksanakan sidang ke-2. Salah satu hasilnya adalah menetapkan pembagian wilayah Indonesia menjadi 8 provinsi, yaitu sebagai berikut.

1. Provinsi Sumatra
2. Provinsi Jawa Barat
3. Provinsi Jawa Tengah
4. Provinsi Jawa Timur
5. Provinsi Sunda Kecil
6. Provinsi Kalimantan

### Peta 1.1

Perkembangan Provinsi di Indonesia



7. Provinsi Sulawesi

8. Provinsi Maluku

Pada 1950, jumlah provinsi di Indonesia mengalami pemekaran menjadi 11 provinsi. Pada 1956, terjadi pemekaran kembali sehingga jumlah provinsi di Indonesia bertambah menjadi 15 provinsi. Pada 1956, terjadi pemekaran kembali sehingga jumlah provinsi di Indonesia bertambah menjadi 15 provinsi. Kemudian pada 1957, jumlah provinsi kembali bertambah menjadi 17 provinsi, yaitu sebagai berikut.

**Tabel 1.1**  
**Provinsi Hasil Pemekaran pada 1950-1957**

No.	Provinsi	No.	Provinsi
1.	DI Aceh	10.	Jawa Timur
2.	Sumatra Utara	11.	Sunda Kecil
3.	Sumatra Barat	12.	Kalimantan Selatan
4.	Riau dan Jambi	13.	Kalimantan Timur
5.	Sumatra Selatan	14.	Kalimantan Barat
6.	Jawa Barat	15.	Kalimantan Tengah
7.	DKI Jakarta Raya	16.	Sulawesi
8.	Jawa Tengah	17.	Maluku
9.	DI Yogyakarta		

Sumber: *Buku Pintar Indonesia*, 2007

Pada 1958, provinsi di Indonesia kembali mengalami pemekaran sehingga bertambah menjadi 20 provinsi, yaitu sebagai berikut.

**Tabel 1.2**  
**Provinsi Hasil Pemekaran pada 1958**

No.	Provinsi	No.	Provinsi
1.	DI Aceh	11.	Jawa Timur
2.	Sumatra Utara	12.	Bali
3.	Sumatra Barat	13.	Nusa Tenggara Barat
4.	Riau	14.	Nusa Tenggara Timur
5.	Jambi	15.	Kalimantan Selatan
6.	Sumatra Selatan	16.	Kalimantan Timur
7.	Jawa Barat	17.	Kalimantan Barat
8.	DKI Jakarta Raya	18.	Kalimantan Tengah
9.	Jawa Tengah	19.	Sulawesi
10.	DI Yogyakarta	20.	Maluku

Sumber: *Buku Pintar Indonesia*, 2007

Pada 1959, Provinsi Sumatra Selatan dimekarkan menjadi Sumatra Selatan dan Lampung. Kemudian pada 1960, Provinsi Sulawesi dimekarkan dan DKI Jakarta Raya diganti namanya menjadi DKI Jakarta. Pada 1967, Sumatra Selatan mengalami pemekaran.

**Tabel 1.3**  
**Provinsi Hasil Pemekaran pada 1959-1967**

No.	Provinsi	No.	Provinsi
1.	DI Aceh	14.	Bali
2.	Sumatra Utara	15.	Nusa Tenggara Barat
3.	Sumatra Barat	16.	Nusa Tenggara Timur
4.	Riau	17.	Kalimantan Selatan
5.	Jambi	18.	Kalimantan Timur
6.	<i>Sumatra Selatan</i>	19.	Kalimantan Barat
7.	<i>Lampung</i>	20.	Kalimantan Tengah
8.	<i>Bengkulu</i>	21.	<i>Sulawesi Utara</i>
9.	Jawa Barat	22.	<i>Sulawesi Tengah</i>
10.	<i>DKI Jakarta</i>	23.	<i>Sulawesi Selatan</i>
11.	Jawa Tengah	24.	<i>Sulawesi Tenggara</i>
12.	DI Yogyakarta	25.	Maluku
13.	Jawa Timur		

Sumber: Buku Pintar Indonesia, 2007

Pada 1956, Indonesia berjuang kembali untuk merebut Irian Barat dari tangan Belanda. Setelah perjanjian Konferensi Meja Bundar (KMB), Belanda tidak menepati janjinya untuk menyerahkan Irian Barat ke Indonesia. Pada 1969, atas prakarsa PBB dilaksanakan Penentuan Pendapat Rakyat (PEPERA) untuk mengetahui pilihan rakyat Irian Barat. Hasilnya, rakyat Irian Barat ingin bergabung dengan Indonesia. Akhirnya, pada 1969 Irian Barat resmi menjadi provinsi ke-26.

Pada 1976, Timor Timur yang semula dijajah Portugis bergabung dengan Indonesia dan menjadi provinsi ke-27. Namun pada 1999, Timor Timur memisahkan diri dari Indonesia. Timor Timur membentuk negara sendiri menjadi Negara Timor Leste.

Pada era Reformasi, sistem pemerintahan Indonesia berubah dari sentralisasi menjadi desentralisasi. Perubahan ini berdasarkan pada UU No. 22 Tahun



Sumber: National Geographic, 2005

### Gambar 1.1

Gunung Bromo dengan pesona keindahan alamnya.



## Let's Learn

Laut = Sea  
 Negara = Country  
 Provinsi = Province  
 Pulau = Island  
 Samudra = Ocean

1999 tentang Otonomi Daerah yang kemudian disempurnakan menjadi UU No. 32 Tahun 2004. Dengan adanya undang-undang otonomi daerah, munculah provinsi-provinsi baru. Provinsi tersebut merupakan hasil pemekaran dari provinsi-provinsi yang sudah ada. Jumlah provinsi di Indonesia sampai tahun 2006 sebanyak 33 provinsi.



## B Provinsi dan Potensi Daerah di Indonesia

Setiap provinsi di Indonesia memiliki kemampuan (potensi) dan kekayaan sumber daya alam yang berbeda. Semua sumber daya alam tersebut akan berguna jika dimanfaatkan dengan baik. Pemanfaatan sumber daya alam dapat dilakukan dengan menjaga keseimbangan lingkungan. Berikut merupakan potensi sumber daya yang dimiliki setiap provinsi di Indonesia.

**Tabel 1.4**  
**Potensi Sumber Daya Alam Provinsi di Indonesia**

No.	Provinsi	Ibu Kota	Potensi Daerah
1.	Nanggroe Aceh Darussalam	Banda Aceh	Nanggroe Aceh Darussalam memiliki luas wilayah 57.365,57 km <sup>2</sup> dan memiliki 21 kabupaten/kota. Potensi Daerah: a. Pertanian: padi, cengkih, pala, pinang, kopi, karet, kopra, kapuk, tembakau, getah damar, kelapa sawit, kacang tanah, tebu, dan jagung. b. Industri dan tambang: minyak bumi, pupuk, gas alam, emas, kayu lapis, dan minyak kelapa. c. Pariwisata: Taman Laut Sabang, Taman Buru Lingge Isaq, Hutan Wisata Gunung Leuseur, dan Danau Laut Tawar.
2.	Sumatra Utara	Medan	Provinsi Sumatra Utara memiliki luas wilayah 71.680 km <sup>2</sup> dan memiliki 25 kabupaten/kota.



			<p>Potensi Daerah:</p> <ol style="list-style-type: none"> <li>Pertanian: karet, kopra, tembakau, kapuk, kelapa sawit, jagung teh, kopi, buah-buahan, dan sayur-sayuran.</li> <li>Industri dan tambang: minyak bumi, pengolahan bauksit, industri kayu, ban mobil, dan pabrik kertas.</li> <li>Pariwisata: Danau Toba, Tomok Samosir, Brastagi, dan Nias.</li> </ol>
3.	Sumatra Barat	Padang	<p>Sumatra Barat memiliki luas wilayah 42.297 km<sup>2</sup> dan memiliki 19 kota/kabupaten</p> <p>Potensi Daerah:</p> <ol style="list-style-type: none"> <li>Pertanian: padi, karet, kelapa, buah-buahan, dan sayur sayuran.</li> <li>Industri dan tambang: semen, batu bara, dan pabrik tenun.</li> <li>Pariwisata: Ngarai Sianok, Danau Singkarak, dan Danau Maninjau.</li> </ol>
4.	Riau	Pekan Baru	<p>Riau memiliki luas wilayah 94,561km<sup>2</sup> dan memiliki 11 kabupaten/kota.</p> <p>Potensi Daerah:</p> <ol style="list-style-type: none"> <li>Pertanian: kelapa sawit, karet, perikanan, dan hasil hutan.</li> <li>Industri dan tambang: minyak bumi, kayu lapis, pabrik kertas, dan bauksit.</li> <li>Pariwisata: Istana Sultan Melayu.</li> </ol>
5.	Kepulauan Riau	Tanjung Pinang	<p>Kepulauan Riau memiliki luas wilayah 11,195,52 km<sup>2</sup> dan memiliki 6 kota/kabupaten.</p> <p>Potensi Daerah:</p> <ol style="list-style-type: none"> <li>Agro: hasil laut.</li> <li>Industri dan tambang: bauksit, minyak bumi, pasir laut, dan pusat industri elektronika.</li> <li>Pariwisata: wisata industri dan olahraga.</li> </ol>
6.	Jambi	Jambi	<p>Provinsi Jambi memiliki luas wilayah 54.436 km<sup>2</sup> dan memiliki 10 kota/kabupaten.</p> <p>Potensi Daerah:</p> <ol style="list-style-type: none"> <li>Pertanian: kelapa sawit, cengkih, coklat, dan kelapa.</li> </ol>





			<ul style="list-style-type: none"> <li>b. Industri dan tambang: minyak bumi, batu bara, emas, dan kayu lapis.</li> <li>c. Pariwisata: Candi Muara Takus dan Taman Nasional Kerinci.</li> </ul>
7.	Sumatra Barat	Padang	<p>Bengkulu memiliki luas wilayah 19.788 km<sup>2</sup> dan memiliki 9 kota/kabupaten.</p> <p>Potensi Daerah:</p> <ul style="list-style-type: none"> <li>a. Pertanian: kopi, kemiri, kapuk, lada, cengkih, cokelat, kopi, dan hasil hutan.</li> <li>b. Industri dan tambang: emas, batu bara, perak, dan pabrik botol.</li> <li>c. Pariwisata: Pulau Enggano dan Taman Nasional Rafflesia.</li> </ul>
8.	Sumatra Selatan	Palembang	<p>Provinsi Sumatra Selatan memiliki luas wilayah 113,339,07km<sup>2</sup> dan memiliki 7 kabupaten/kota.</p> <p>Potensi Daerah:</p> <ul style="list-style-type: none"> <li>a. Pertanian: hasil laut, cengkih, dan lada.</li> <li>b. Industri dan tambang: timah dan pasir kwarsa.</li> <li>c. Pariwisata: wisata laut.</li> </ul>
9.	Bangka Belitung	Pangkal Pinang	<p>Bangka Belitung memiliki luas wilayah 95,1 km<sup>2</sup> dan memiliki 7 kabupaten/kota.</p> <p>Potensi Daerah:</p> <ul style="list-style-type: none"> <li>a. Pertanian: cengkih, lada, dan hasil laut.</li> <li>b. Industri dan tambang: timah dan pasir kwarsa.</li> <li>c. Pariwisata: wisata laut.</li> </ul>
10.	Lampung	Bandar Lampung	<p>Provinsi Lampung memiliki luas wilayah 35.376,84 km<sup>2</sup> dan memiliki 10 kabupaten/kota.</p> <p>Potensi Daerah:</p> <ul style="list-style-type: none"> <li>a. Pertanian: kelapa sawit, kopi, lada, kelapa, cengkih, pisang, tembakau, dan hasil hutan.</li> <li>b. Industri dan tambang: kawasan industri, industri gula, dan emas.</li> <li>c. Pariwisata: Pelestarian Gajah Way Kambas dan Taman Hutan Nasional.</li> </ul>



11.	DKI Jakarta	Jakarta	DKI Jakarta memiliki luas wilayah 661,62 km <sup>2</sup> dan memiliki 6 kabupaten/kota. Potensi Daerah: a. Pertanian: peternakan ayam. b. Industri dan tambang: pabrik tekstil, kawasan industri, pabrik pengolahan pangan, dan pabrik pengolahan perikanan. c. Pariwisata: TMII, MONAS, Dunia Fantasi, dan Istana Presiden.
12.	Banten	Serang	Banten memiliki luas wilayah 8.234,69 km <sup>2</sup> dan memiliki 6 kabupaten/kota. Potensi Daerah: a. Pertanian: padi, cengkih, kelapa, melinjo, durian, dan perikanan. b. Industri dan tambang: minyak bumi, pabrik baja, emas, tekstil, dan kawasan industri. c. Pariwisata: Taman Wisata Ujung Kulon dan wisata pantai.
13.	Jawa Barat	Bandung	Jawa Barat memiliki luas wilayah 44.176 km <sup>2</sup> dan memiliki 24 kota/kabupaten. Potensi Daerah: a. Pertanian: buah-buahan, karet, teh, palawija, dan padi. b. Industri dan tambang: minyak bumi, gas alam, emas, mangan, industri tekstil, industri semen, dan industri perikanan darat. c. Pariwisata: Kebun Raya Bogor, Taman Safari, Tangkuban Parahu, dan Pantai Pangandaran.
14.	Jawa Tengah	Semarang	Jawa Tengah memiliki luas wilayah 33.171,88 km <sup>2</sup> dan memiliki 35 kota/kabupaten. Potensi Daerah: a. Pertanian: perikanan, tembakau, karet, teh, kayu jati, kelapa, jagung, jambu mete, vanili, sayur mayur, buah-buahan, tebu, dan padi. b. Industri dan tambang: minyak bumi, industri kerajinan, industri rokok, semen, kawasan industri, dan tekstil.

			c. Pariwisata: wisata budaya, wisata pantai, Candi Prambanan, dan Candi Borobudur.
15.	DI Yogyakarta	Yogyakarta	DI Yogyakarta memiliki luas wilayah 3.142 km <sup>2</sup> dan memiliki 5 kabupaten/kota. Potensi Daerah: a. Pertanian: kelapa, jagung, ubi kayu, jambu mete, dan melinjo. b. Industri dan tambang: industri batik, industri perak, keramik, dan kerajinan tangan. c. Pariwisata: Pantai Parangtritis dan Keraton.
16.	Jawa Timur	Surabaya	Jawa Timur memiliki luas wilayah 47.921,98 km <sup>2</sup> dan memiliki 38 kota/kabupaten. Potensi Daerah: a. Pertanian: cengkih, tembakau, jambu mete, jagung, tebu, buah-buahan, padi, dan sayur mayur. b. Industri dan tambang: industri perikanan, industri rokok, minyak bumi, dan marmer. c. Pariwisata: Wisata Alam Bromo, Karapan sapi, dan Margasatwa Meru Betiri.
17.	Bali	Denpasar	Bali memiliki luas wilayah 5.632,86 km <sup>2</sup> , dan memiliki 9 kabupaten/kota. Potensi Daerah: a. Pertanian: padi, kelapa, jagung, pisang, tembakau, buah-buahan, dan peternakan. b. Industri dan tambang: pengolahan hasil perikanan, peternakan, dan hasil seni. c. Pariwisata: wisata alam, wisata pantai, Istana Tapak Siring, Pantai Kuta, dan Pura Besakih.
18.	Nusa Tenggara Barat	Mataram	Nusa Tenggara Barat memiliki luas wilayah 20.153,15 km <sup>2</sup> dan memiliki 9 kabupaten/kota. Potensi Daerah: a. Pertanian: cengkih, jambu mete, kapas, pisang, coklat, tembakau, dan tebu.

			<ul style="list-style-type: none"> <li>b. Industri dan tambang: emas, perak, dan kerang mutiara.</li> <li>c. Pariwisata: Pantai Senggigi, Taman Wisata Cakranegara, dan Suaka Alam Moyo.</li> </ul>
19.	Nusa Tenggara Timur	Kupang	<p>Nusa Tenggara Timur memiliki luas wilayah 47.394 km<sup>2</sup> dan memiliki 16 kabupaten/kota.</p> <p>Potensi Daerah:</p> <ul style="list-style-type: none"> <li>a. Pertanian: cengkih, jambu mete, kopi, kemiri, kayu cendana, coklat, tembakau, peternakan lembu, dan kuda.</li> <li>b. Industri dan tambang: semen dan mangan.</li> <li>c. Pariwisata: Wisata Alam Pulau Komodo, Danau Kelimutu, dan Ende.</li> </ul>
20.	Kalimantan Barat	Pontianak	<p>Provinsi Kalimantan Barat memiliki luas wilayah 14.680,70 km<sup>2</sup> dan memiliki 12 kabupaten/kota.</p> <p>Potensi Daerah:</p> <ul style="list-style-type: none"> <li>a. Pertanian: cokelat, karet, dan kopi.</li> <li>b. Industri dan tambang: kayu lapis, emas, dan minyak bumi.</li> <li>c. Pariwisata: Taman Anggrek Pontianak.</li> </ul>
21.	Kalimantan Tengah	Palangkaraya	<p>Kalimantan Tengah memiliki luas wilayah 153.800 km<sup>2</sup> dan memiliki 14 kabupaten/kota.</p> <p>Potensi Daerah:</p> <ul style="list-style-type: none"> <li>a. Pertanian: kelapa sawit, karet, kopi, lada, dan cengkih.</li> <li>b. Industri dan tambang: kayu lapis, batu bara, emas, dan perak.</li> <li>c. Pariwisata: Wisata Alam Parawan.</li> </ul>
22.	Kalimantan Timur	Samarinda	<p>Provinsi Kalimantan Timur memiliki luas wilayah 211.440 km<sup>2</sup> dan memiliki 14 kabupaten/kota.</p> <p>Potensi Daerah:</p> <ul style="list-style-type: none"> <li>a. Pertanian: kelapa, cengkih, lada, kelapa sawit, dan kopi.</li> <li>b. Industri dan tambang: minyak bumi, gas alam, dan perikanan.</li> </ul>



			<ul style="list-style-type: none"> <li>b. Industri dan tambang: minyak bumi, gas alam, dan perikanan.</li> <li>c. Pariwisata: Taman Anggrek Kresik dan Luway Kutai.</li> </ul>
23.	Kalimantan Selatan	Banjarmasin	<p>Provinsi Kalimantan Selatan memiliki luas wilayah 37.377,53 km<sup>2</sup> dan memiliki 13 kabupaten/kota.</p> <p>Potensi Daerah:</p> <ul style="list-style-type: none"> <li>a. Pertanian: kelapa sawit, cengkih, kelapa sawit, dan karet.</li> <li>b. Industri dan tambang: kayu lapis, minyak bumi, dan intan.</li> <li>c. Pariwisata: Suaka margasatwa Tanah Laut dan Padang Lauwi.</li> </ul>
24.	Sulawesi Utara	Manado	<p>Sulawesi Utara memiliki luas wilayah 25.768 km<sup>2</sup> dan memiliki 9 kabupaten/kota.</p> <p>Potensi Daerah:</p> <ul style="list-style-type: none"> <li>a. Pertanian: cengkih, kelapa, coklat, dan kopi.</li> <li>b. Industri dan tambang: emas dan perikanan laut.</li> <li>c. Pariwisata: Taman Laut Bunaken.</li> </ul>
25.	Gorontalo	Gorontalo	<p>Gorontalo memiliki luas wilayah 10.804 km<sup>2</sup> dan memiliki 5 kabupaten/kota.</p> <p>Potensi Daerah:</p> <ul style="list-style-type: none"> <li>a. Pertanian: cengkih, kelapa, coklat, kopi, dan perikanan.</li> <li>b. Industri dan tambang: emas</li> <li>c. Pariwisata: Wisata Alam Pantai.</li> </ul>
26.	Sulawesi Tengah	Palu	<p>Sulawesi Tengah memiliki luas wilayah 68.033 km<sup>2</sup> dan memiliki 10 kabupaten/kota.</p> <p>Potensi Daerah:</p> <ul style="list-style-type: none"> <li>a. Pertanian: cengkih, kelapa, karet, lada, hasil perikanan, dan tebu.</li> <li>b. Industri dan tambang: emas, bijih besi, dan peternakan.</li> <li>c. Pariwisata: Suaka Margasatwa dan Suaka Alam.</li> </ul>

Sumber: *Buku Pintar Indonesia, 2007*





## Kegiatan Bersama

Bentuk kelompok yang terdiri atas anak laki-laki dan anak perempuan. Untuk menumbuhkan sikap kebhinnekaan dan kebangsaanmu, cari keterangan (ibu kota provinsi dan luas wilayah) dari buku sumber lain atau atlas mengenai provinsi dan potensi daerah yang dimiliki. Adapun keterangan yang harus dicari adalah mengenai Provinsi Sulawesi Barat, Sulawesi Selatan, Sulawesi Tenggara, Maluku, Maluku Utara, Papua, dan Papua Barat.



## Perkembangan Wilayah Laut Indonesia

Sebagai negara kepulauan, Negara Indonesia memiliki banyak wilayah laut. Bahkan, wilayah laut kita lebih luas dari daratan.

Pada 1939, *Territoriale Zee en Maritime Kringen Ordonnantie*/TZMKO (Peraturan tentang laut teritorial zaman Belanda) menerangkan batas laut teritorial Indonesia hanya sebatas 3 mil. Akibatnya, banyak wilayah laut lepas di sekitar kepulauan Nusantara, seperti Laut Jawa. Laut lepas ini memungkinkan siapa saja memanfaatkan ruangnya maupun mengambil kekayaan di dalamnya. Hal ini dapat mengancam persatuan dan kesatuan bangsa. Oleh karena itu, pada 13 Desember 1957, pemerintah Indonesia mengeluarkan Deklarasi Djuanda.

Inti dari Deklarasi Djuanda, yaitu sebagai berikut.

- Laut dan perairan di antara pulau-pulau menjadi pemersatu karena menghubungkan pulau yang satu dengan yang lain.
- Penarikan garis lurus pada titik terluar dari pulau terluar untuk menentukan wilayah perairan Indonesia.
- Batas-batas wilayah Indonesia diukur sejauh 12 mil dari garis dasar pantai pulau terluar.

Deklarasi Djuanda mendapat pengakuan dari dunia internasional pada Konvensi Hukum Laut Internasional PBB (*United Nations Convention on the Law of the Sea/UNCLOS*). Konvensi ini diselenggarakan pada 10 Desember 1982 dan dihadiri 119 peserta, terdiri atas 117 negara serta 2 organisasi internasional. Hasil dari Konvensi menetapkan zona perairan laut Indonesia, yaitu sebagai berikut.

- a. Perairan Nusantara, yaitu semua laut yang terletak pada sisi dalam dari garis dasar atau garis pangkal. Garis dasar terdiri atas teluk dan selat yang menghubungkan pulau-pulau di Nusantara.
- b. Laut Teritorial, yaitu laut yang ditetapkan berjarak 12 mil dari garis dasar ke arah laut lepas. Negara berdaulat atas perairan, isi dasar laut, dan tanah di bawahnya maupun ruang di atasnya, serta kekayaan alam di dalamnya.
- c. Batas Landas Kontinen, yaitu garis batas yang merupakan kelanjutan dari daratan suatu benua yang terendam hingga 200 m di bawah permukaan laut. Pada 12 Februari 1969, Pemerintah RI mengeluarkan pengumuman mengenai landas kontinen Indonesia. Isinya menetapkan, sumber kekayaan alam yang berada di landas kontinen merupakan milik pemerintah. Untuk itu, di wilayah ini dapat dilakukan pengelolaan dan pengolahan sumber kekayaan alam.
- d. Batas Zona Ekonomi Eksklusif (ZEE), yaitu jalur laut Indonesia seluas 200 mil, diukur dari garis pangkal laut Indonesia. Pada zona ini, negara berhak melakukan eksploitasi, eksplorasi, pengelolaan, dan pelestarian sumber daya hayati. Negara lain bebas berlayar atau terbang di atas wilayah ini, serta bebas pula memasang kabel dan pipa bawah lautan. Negara berhak menangkap nelayan asing yang kedapatan menangkap ikan dalam Zona Ekonomi Eksklusifnya.



### Ayo, Jawab

Apa yang harus dilakukan pemerintah Indonesia, jika ada kapal asing yang melintas di perairan Indonesia yang berjarak sekitar seratus mil dari pantai?

## Tokoh Kita

### Ir. R. Djuanda Kartawidjaja

Ir. R. Djuanda Kartawidjaja, lahir pada 14 Januari 1911 Tasikmalaya, Jawa Barat. Beliau ialah Perdana Menteri Indonesia ke-11 sekaligus yang terakhir. Ia menjabat dari 9 April 1957 sampai 9 Juli 1959. Setelah itu, ia menjabat sebagai Menteri Keuangan dalam Kabinet Kerja I.

Sumbangannya terbesar dalam masa jabatannya adalah Deklarasi Djuanda tahun 1957. Inti dari deklarasi ini menyatakan, laut Indonesia adalah termasuk laut sekitar, di antara dan di dalam kepulauan Indonesia menjadi satu kesatuan wilayah NKRI.

Selain itu, namanya diabadikan sebagai nama lapangan terbang di Surabaya, yaitu Bandara Djuanda. Beliau wafat pada 7 November 1963 dan dimakamkan di TMP Kalibata, Jakarta.



Sumber: [www.wikipedia.co.id](http://www.wikipedia.co.id)



## Kegiatan Individu

Indonesia memiliki wilayah laut yang luas. Indonesia kaya akan sumber ikan dan potensi lainnya. Namun akhir-akhir ini, diwilayah laut Indonesia banyak pencurian ikan oleh nelayan asing. Menurutmu, sikap apa yang dapat dilakukan untuk menjaga wilayah laut Indonesia?

## D Menjaga Kelestarian Laut

Laut memberikan banyak manfaat bagi manusia. Laut menyimpan banyak sumber daya alam, seperti ikan, kerang, terumbu karang, rumput laut, dan mutiara. Laut juga merupakan objek wisata yang indah. Kita mengenalnya dengan istilah Wisata Bahari. Menyelam (*diving*) merupakan salah satu wisata bawah laut yang digemari para wisatawan.

Pada umumnya, wisatawan ingin menikmati keindahan bawah laut. Pantai-pantai di Indonesia terkenal keindahannya dan merupakan objek wisata yang banyak digemari wisatawan domestik maupun asing. Selain sebagai jalur transportasi, laut menjadi sumber daya mineral, seperti minyak bumi.

 **Gambar 1.2**

Terumbu karang berguna untuk menjaga ekosistem (lingkungan hidup) di dalam laut.



Sumber: [www.kalevatravel.com](http://www.kalevatravel.com)

Banyak sekali manfaat yang diberikan laut kepada manusia. Oleh karena itu, pemerintah dan seluruh masyarakat harus menjaga kelestarian laut. Usaha-usaha yang dapat dilakukan untuk menjaga kelestarian laut, yaitu sebagai berikut.

1. Peraturan Pemerintah Nomor 17 Tahun 1974 tentang pengawasan pelaksanaan eksplorasi (penyelidikan demi ilmu pengetahuan) dan eksploitasi (pemanfaatan) minyak dan gas bumi di daerah lepas pantai.
2. Melarang penangkapan ikan dengan alat yang dapat merusak ekosistem laut, seperti pukat harimau dan bahan peledak.
3. Mencegah pencemaran laut dengan pelarangan pembuangan limbah berbahaya ke laut dan melakukan budidaya ikan.
4. Perlindungan terhadap hewan-hewan langka.
5. Menanam pohon bakau untuk mencegah abrasi (pengikisan batuan oleh air) pantai.
6. Membuat terumbu karang sebagai tempat berkembangbiakan hewan-hewan laut.



## Sumber Ilmu

Laut merupakan bagian permukaan bumi yang berupa genangan air. Luas dan terletak di antara pulau-pulau. Sekitar 70% wilayah perairan Indonesia adalah laut dan lautan. Laut yang ada di Indonesia, antara lain:

- Laut Jawa;
- Laut Banda;
- Laut Flores.
- Laut Arafuru
- Laut Timor
- Laut Maluku



## Ringkasan

1. Indonesia merupakan negara terluas di Asia Tenggara dengan luas wilayah  $\pm 5.193.252 \text{ km}^2$ .
2. Pada awal kemerdekaan, provinsi di Indonesia berjumlah 8, yaitu Sumatra, Jawa Barat, Jawa Tengah, Jawa Timur, Kalimantan, Sulawesi, Sunda Kecil, dan Maluku.
3. Saat ini, provinsi di Indonesia sebanyak 33 provinsi.
4. Pada zaman penjajahan Belanda, wilayah perairan Indonesia ditetapkan 3 mil atau 5,5 km dihitung dari garis laut saat laut surut.
5. Pada 13 Desember 1957, dicetuskan Deklarasi Djuanda tentang konsep laut Indonesia. Berdasarkan Deklarasi Djuanda batas hukum laut internasional Indonesia adalah 12 mil dari garis dasar ke arah laut bebas.
6. Zona perairan laut Indonesia terdiri atas:
  - a. perairan Nusantara;
  - b. laut teritorial;
  - c. batas landas kontinen;
  - d. batas zona ekonomi eksklusif.

## Ayo, Renungkan

Setelah mempelajari perkembangan wilayah di Indonesia, masih adakah materi yang belum kamu pahami? Jika ada, diskusikan materi tersebut bersama teman-teman dengan bimbingan guru. Manfaat apa yang dapat kamu petik dari pelajaran ini?. Sebagai warga negara yang baik, upaya apa yang telah kamu lakukan untuk menjaga keutuhan wilayah Negara Kesatuan Republik Indonesia (NKRI)?

# Evaluasi Bab 1

**Ayo, Kerjakan pada buku tugasmu.**

## **A. Pilihlah jawaban yang paling tepat.**

- Deklarasi Djuanda kali pertama di-cetuskan pada ....
  - 13 Januari 1957
  - 15 Januari 1957
  - 13 Desember 1957
  - 15 Desember 1957
- Jumlah provinsi Indonesia pada 1960 adalah ... provinsi
  - 20
  - 21
  - 22
  - 23
- Batas laut yang ditetapkan sejauh 12 mil dari garis dasar ke arah laut lepas disebut ....
  - perairan Nusantara
  - laut teritorial
  - batas landas kontinen
  - batas zona ekonomi eksklusif
- Nama provinsi yang memisahkan diri dari NKRI dan menjadi sebuah negara adalah ....
  - Timor Leste
  - Papua
  - Nanggroe Aceh Darussalam
  - Maluku
- Timor-Timur menjadi provinsi ke-27 Indonesia pada ....
  - 1975
  - 1976
  - 1977
  - 1978
- Pada 1969, Irian Barat bergabung dengan Indonesia dan menjadi provinsi ke ....
  - 24
  - 25
  - 26
  - 27
- Pada awal kemerdekaan, jumlah provinsi di Indonesia ... provinsi
  - 7
  - 8
  - 9
  - 10
- Provinsi Bangka Belitung merupakan pemekaran dari Provinsi ....
  - Sumatra Barat
  - Riau
  - Lampung
  - Sumatra Selatan
- Provinsi termuda di Pulau Jawa adalah ....
  - Banten
  - Jawa Barat
  - Jawa Tengah
  - Jawa Timur
- Pekan Baru merupakan ibu kota Provinsi ....
  - Kepulauan Riau
  - Riau
  - Bangka Belitung
  - Sumatra Barat
- Provinsi di Indonesia sekarang berjumlah ... provinsi.
  - 27
  - 28
  - 30
  - 33



12. Ibukota Provinsi Maluku adalah ....
  - a. Palembang
  - b. Ambon
  - c. Sofifi
  - d. Manado
13. Potensi daerah pariwisata berupa Taman Nasional Rafflesia berada di Provinsi ....
  - a. Sumatra Barat
  - b. Sumatra Selatan
  - c. Bengkulu
  - d. Jambi
14. Berikut bukan manfaat laut bagi kehidupan manusia, yaitu ....
  - a. penghasil ikan
  - b. prasarana perhubungan
  - c. penghasil garam
  - d. penghasil pasir
15. Garis batas yang merupakan kelanjutan dari daratan suatu benua yang terendam hingga 200 m di bawah permukaan air laut disebut ....
  - a. perairan Nusantara
  - b. zona ekonomi eksklusif
  - c. batas landas kontinen
  - d. laut teritorial
16. Pada zaman Hindia-Belanda batas laut hanya ... dari garis dasar.
  - a. 12 mil
  - b. 3 mil
  - c. 10 mil
  - d. 200 mil
17. Ibu kota Provinsi Sulawesi Tengah adalah ....
  - a. Ujung Pandang
  - b. Kendari
  - c. Manado
  - d. Palu
18. Wilayah terluas di Pulau Jawa berada di Provinsi ....
  - a. Jawa Barat
  - b. Jawa Tengah
  - c. Jawa Timur
  - d. Jakarta
19. Irian Barat bergabung ke dalam wilayah Indonesia pada ....
  - a. 1956
  - b. 1969
  - c. 1976
  - d. 1984
20. Eksplorasi dan eksploitasi minyak dan gas bumi di daerah lepas pantai diatur dalam ....
  - a. PP No. 17 tahun 1974
  - b. PP No. 18 tahun 1974
  - c. PP No. 22 tahun 1974
  - d. PP No. 22 tahun 1999

## B. Isilah titik-titik berikut dengan benar.

1. Jumlah provinsi di Indonesia saat ini adalah ....
2. Potensi daerah yang dimiliki Provinsi Jawa Barat antara lain ....
3. Ibu kota Provinsi Kalimantan Timur, yaitu ....
4. Luas wilayah Negara Indonesia ....
5. Deklarasi Djuanda dicetuskan tanggal ....
6. Hasil sidang PPKI yang ke-2 Indonesia menetapkan ... provinsi
7. Potensi-potensi daerah yang dihasilkan Provinsi Sumatra Selatan di bidang pertanian ....

8. Laut yang telah ditetapkan berjarak 12 mil, yaitu ....
9. Batas zona ekonomi eksklusif diukur berdasarkan ....
10. Batas landas kontinen adalah ....

### C. Jawablah pertanyaan berikut.

1. Terangkan tiga usaha untuk melestarikan laut.
2. Berapa jumlah provinsi di Indonesia pada awal kemerdekaan? Tuliskan.
3. Apakah manfaat pohon bakau?
4. Tuliskan nama-nama provinsi yang ada di Pulau Jawa.
5. Apakah manfaat terumbu karang?
6. Apa yang dimaksud dengan perairan Nusantara?
7. Tuliskan isi dari Deklarasi Djuanda.
8. Mengapa potensi-potensi daerah yang dimiliki setiap provinsi berbeda?
9. Bagaimana pendapatmu tentang pemekaran provinsi yang terjadi di Indonesia?
10. Tuliskan manfaat laut bagi kehidupan manusia.




## Ayo, Kerjakan

Diskusikan dengan kelompok kamu dampak positif dan negatif luasnya wilayah Indonesia.

No.	Dampak Positif	No.	Dampak Negatif
1.		1.	
2.		2.	
3.		3.	
4.		4.	
5.		5.	

# BAB 2



Sumber: *Ensiklopedia Geografi*, 2007

## Ketampakan Alam dan Keadaan Sosial Negara-Negara Tetangga

### Apa Manfaat Bagiku?

Dengan mempelajari bab ini, kamu dapat menemukan ketampakan alam dan keadaan sosial negara-negara tetangga serta dapat menjelaskan hubungan kerja sama antarnegara-negara tetangga.

### Kata Kunci

Asia Tenggara, letak wilayah, letak astronomis, gunung, dan laut.

### Pendahuluan

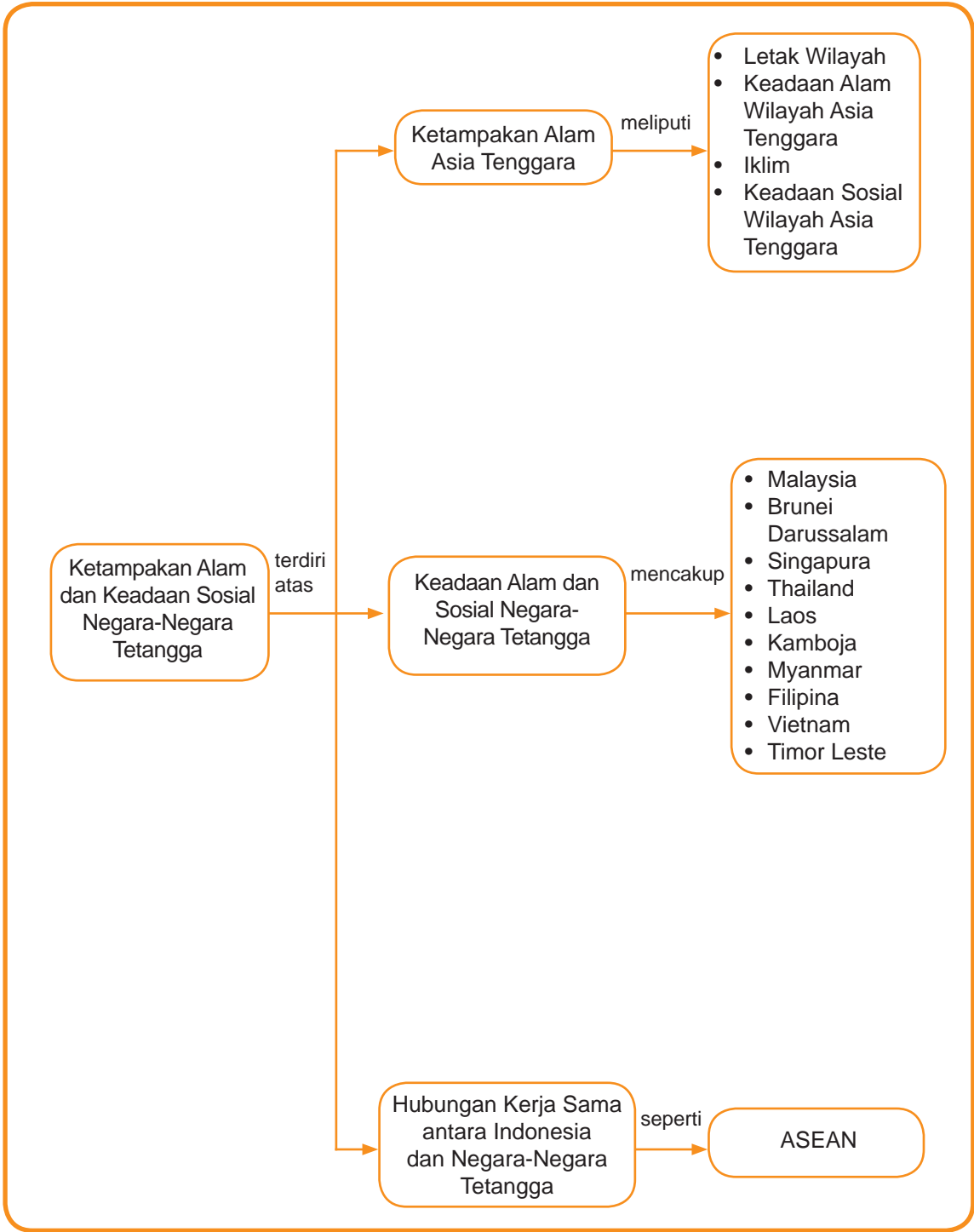
Pada bab ini, kamu akan mempelajari mengenai ketampakan alam dan keadaan sosial negara-negara tetangga. Tentunya, kamu pernah mendengar istilah tetangga, bukan? Tetangga berarti orang sebelah rumah kita. Negara tetangga berarti negara-negara yang letaknya berdekatan dengan wilayah negara kita. Kemudian, siapa saja negara tetangga kita? Apa benar negara kita memiliki tetangga? Mau tahu jawabannya? Tentunya, kamu harus mempelajari pembahasan pada bab ini.

**A** Ketampakan Alam Wilayah Asia Tenggara

**B** Keadaan Alam dan Sosial Asia Tenggara

**C** Kerja Sama Indonesia dan Negara Tetangga

# Peta Konsep





# Ketampakan Alam Wilayah Asia Tenggara

## 1. Letak Wilayah

Indonesia adalah salah satu negara yang berada di Benua Asia, tepatnya di kawasan Asia Tenggara. Luas daratan Asia Tenggara ± 2.257.784 juta km<sup>2</sup>. Secara astronomis, Asia Tenggara terletak antara 11° LS-21° LU dan 92° BT-141° BT. Secara geografis, Asia Tenggara terletak di antara Samudra Pasifik dan Samudra Hindia, serta di antara Benua Asia dan Benua Australia.

Di kawasan Asia Tenggara terdapat 11 negara, yaitu Indonesia, Malaysia, Brunei Darussalam, Singapura, Thailand, Laos, Kamboja, Myanmar, Filipina, Vietnam, dan Timor Leste. Negara-negara tersebut merupakan negara tetangga karena berada di dalam satu kawasan. Berikut peta wilayah negara-negara yang berada di kawasan Asia Tenggara. Selain itu ada juga negara Australia dan Papua Nugini.



Ayo,  
Jawab

Sebagai negara berdaulat, Indonesia memiliki wilayah yang luas dan harus dijaga. Namun, Indonesia juga hidup bertetangga yang harus saling menghormati. Bagaimana cara kamu menjaga keutuhan Negara kita dengan tetap menghormati negara lain?

Peta 2.1

Kawasan negara Asia Tenggara



Sumber: Atlas Indonesia Baru, 2000

## 2. Keadaan Alam Wilayah Asia Tenggara

Asia Tenggara terletak pada deretan Pegunungan Mediterania dan Pegunungan Sirkum Pasifik. Asia Tenggara banyak memiliki pegunungan dan dataran rendah. Oleh karena itu, kawasan Asia Tenggara bergunung-gunung dan berbukit-bukit. Di kawasan Asia Tenggara juga menghampar dataran rendah dan lembah-lembah sungai.



Sumber: [www.wikipedia.org](http://www.wikipedia.org)

### Gambar 2.1

Sungai-sungai yang ada di kawasan Asia Tenggara sering digunakan untuk kegiatan perdagangan.

Sungai-sungai besar, di antaranya Sungai Mekong yang mengalir di Laos dan Kamboja, Sungai Menom di Thailand, serta Sungai Saiwen dan Sungai Irawadi di Myanmar. Curah hujan yang tinggi menyebabkan Asia Tenggara memiliki banyak hutan hujan tropis. Pada umumnya, tanah di wilayah Asia Tenggara memiliki tingkat kesuburan yang baik.

## 3. Iklim

Iklim di Asia Tenggara dipengaruhi angin muson. Angin ini bertiup secara bergantian arah setiap setengah tahun sekali. Adanya angin muson menyebabkan terjadinya musim kemarau (April-Oktober) dan musim hujan (Oktober-April).

Selain dipengaruhi angin muson, iklim Asia Tenggara juga dipengaruhi angin laut. Akibatnya, curah hujan di wilayah ini cukup tinggi. Curah hujan yang terjadi rata-rata di atas 2000 mm per tahun.

## 4. Keadaan Sosial Asia Tenggara

Pada umumnya, penduduk Asia Tenggara keturunan bangsa Mongoloid yang berkulit cokelat. Wilayah Asia Tenggara dihuni berbagai macam etnik yang terdiri atas penduduk asli (Melayu) dan penduduk pendatang (Cina, India, Eropa, dan Arab).

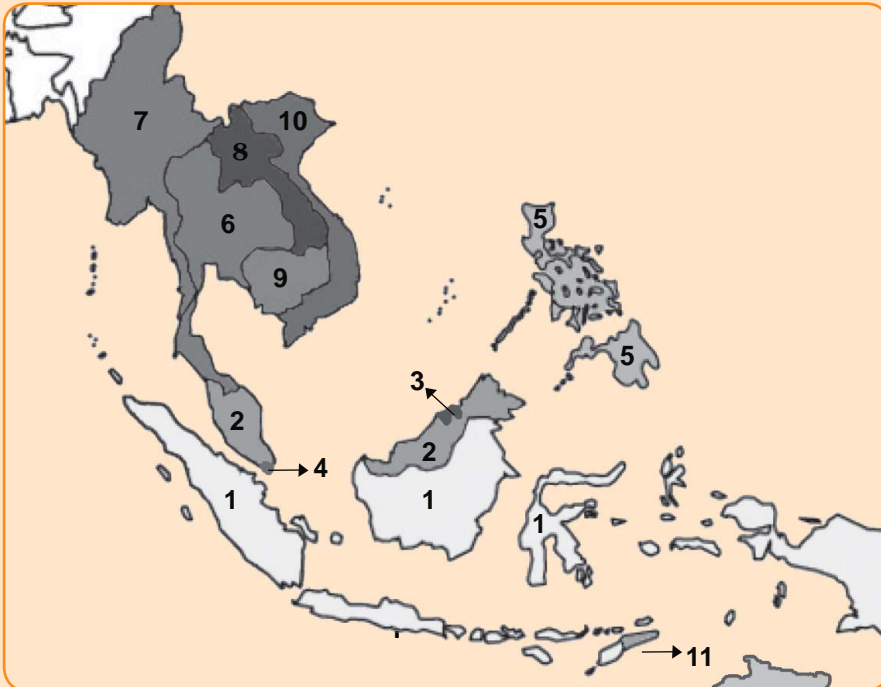
Berkat kesuburan tanahnya, penduduk Asia Tenggara melaksanakan kegiatan pertanian dan perkebunan. Hutan-hutan di wilayah Asia Tenggara memiliki banyak sumber daya alam, terutama hasil kayu. Kayu-kayu yang telah diolah digunakan untuk bahan bangunan maupun bahan baku industri.



Kegiatan industri di Asia Tenggara terbatas hanya kepada industri pengolahan hasil-hasil pertanian. Misalnya, industri gula, industri rokok, dan industri bahan makanan.



## Kegiatan Bersama



Perhatikan peta tersebut. Carilah sebelas negara tetangga Indonesia beserta Australia dan Papua Nugini. Sekarang, ajak teman sebangkumu untuk bermain “Lacak Peta”. Kalian harus menemukan negara-negara tetangga dengan cepat. Orang yang paling cepat dan paling banyak menemukan negara-negara tersebut, dialah pemenangnya. Hal ini dilakukan untuk mengembangkan wawasan kontekstualmu terhadap wilayah negara-negara di Asia Tenggara. Baiklah kita mulai!

1. Coba tunjukkan Negara Filipina. (Siapa pemenangnya? .... )
2. Coba tunjukkan Negara Brunei Darussalam. (Siapa pemenangnya? .... )
3. Coba tunjukkan negara Australia. (Siapa pemenangnya? .... )

Baiklah, silakan lanjutkan permainannya. Silakan bergantian menyebutkan nama negara untuk ditemukan. Bagaimana seru tidak permainannya? Sekarang mari kita lanjutkan lagi pelajaran kita.





# Keadaan Alam dan Sosial Asia Tenggara

## 1. Indonesia

Indonesia adalah Negara Kepulauan dan merupakan negara terluas di kawasan Asia Tenggara. Luas daratan mencapai ± 1.919.443 km<sup>2</sup> dan luas perairan ± 3.272.100 km<sup>2</sup>.



Peta 2.2

Sumber: Atlas Indonesia Baru, 2000

Kawasan Indonesia



Sumber: www.wikipedia.co.id

Gambar 2.2

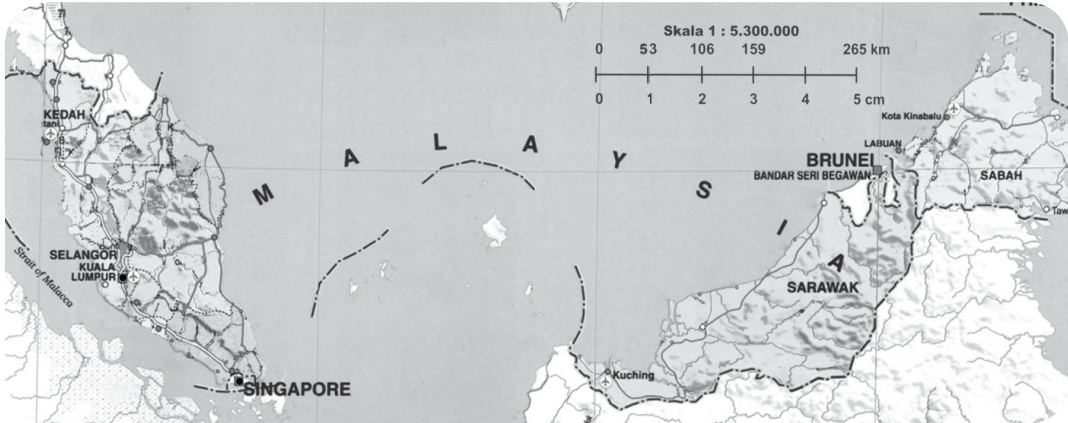
Monumen Nasional (Monas) yang mejadi salah satu ikon Negara Indonesia.

Secara astronomis, Indonesia terletak antara 95<sup>0</sup> BT-141<sup>0</sup> BT dan 6<sup>0</sup> LU-11<sup>0</sup> LS. Indonesia mempunyai tiga jenis iklim, yaitu iklim musim (muson), iklim tropika (panas), dan iklim laut. Iklim musim disebabkan angin muson timur dan angin muson barat. Iklim tropika disebabkan Indonesia terletak di wilayah khatulistiwa. Adapun iklim laut disebabkan sebagian besar daratan Indonesia dikelilingi laut.

Nama Negara	: Republik Indonesia
Ibu kota	: Jakarta
Tanggal Merdeka	: 17 Agustus 1945
Bahasa Resmi	: Indonesia
Lagu Kebangsaan	: Indonesia Raya
Bentuk Pemerintahan	: Republik
Kepala Negara	: Presiden
Kepala Pemerintahan	: Presiden
Mata Uang	: Rupiah

## 2. Malaysia

Malaysia adalah negara kerajaan federal. Malaysia terbagi menjadi dua wilayah, yaitu wilayah Malaysia Timur dan Malaysia Barat. Luas wilayah Malaysia secara keseluruhan mencapai 329.758 km<sup>2</sup>.



Sumber: Atlas Indonesia dan Dunia, 2006

Secara astronomis, Malaysia terletak di antara 99<sup>o</sup> BT-119<sup>o</sup> BT dan 1<sup>o</sup> LU-7<sup>o</sup> LU. Malaysia beriklim laut khatulistiwa dengan hujan lebat dan suhu tinggi.

Malaysia Timur terdiri atas Sabah dan Sarawak terletak di bagian utara Pulau Kalimantan. Gunung tertinggi di Malaysia adalah Gunung Kinabalu yang terdapat di Negara Bagian Sabah. Sungai terpanjang adalah Sungai Pahang dan Sungai Perak. Adapun pegunungan tertinggi, yaitu Pegunungan Crocker.

Nama Negara	: Malaysia
Ibu kota	: Kuala Lumpur
Tanggal Merdeka	: 31 Agustus 1957
Bahasa Resmi	: Melayu
Lagu Kebangsaan	: Negaraku
Bentuk Pemerintahan	: Kerajaan Konstitusional
Kepala Negara	: Sultan (Yang Dipertuan Agung)
Kepala Pemerintahan	: Perdana Menteri
Mata Uang	: Ringgit

### Peta 2.3

Kawasan Malaysia



Sumber: [www.cutti.com](http://www.cutti.com)

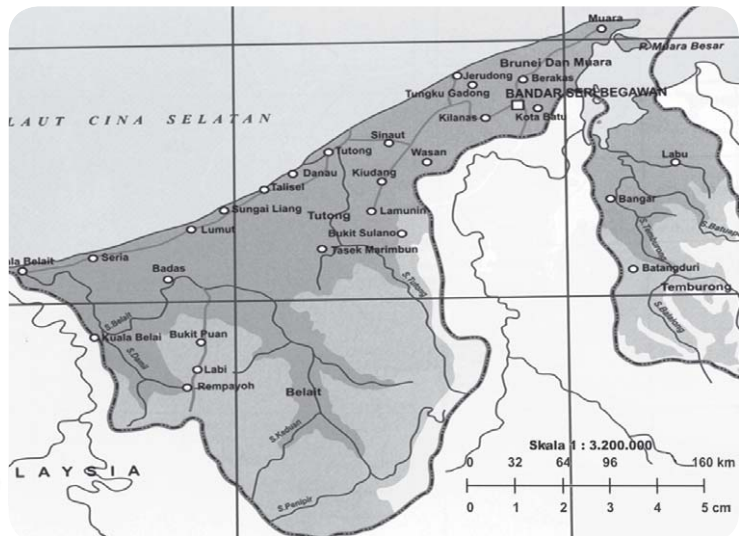
### Gambar 2.3

Gedung Petronas menjadi salah satu kebanggaan warga Malaysia.

## 3. Brunei Darussalam

Brunei Darussalam adalah negara dengan jumlah penduduk paling sedikit di Asia Tenggara. Selain itu, Brunei Darussalam merupakan negara paling kaya di

kawasan Asia Tenggara. Luas wilayah Brunei mencapai 5.765 km<sup>2</sup>. Negara ini terletak di Pulau Kalimantan dan berbatasan langsung dengan Malaysia.



**Peta 2.4**  
Kawasan Brunei Darussalam

Sumber: Atlas Indonesia dan Dunia, 2006

Secara astronomis, Brunei Darussalam terletak pada 114<sup>0</sup> BT-115<sup>0</sup> 3<sup>0</sup> BT dan 4<sup>0</sup> LU-5<sup>0</sup>15 LU. Brunei Darussalam beriklim tropis. Minyak dan gas bumi merupakan hasil utama dan sumber devisa terbesar bagi Brunei Darussalam.



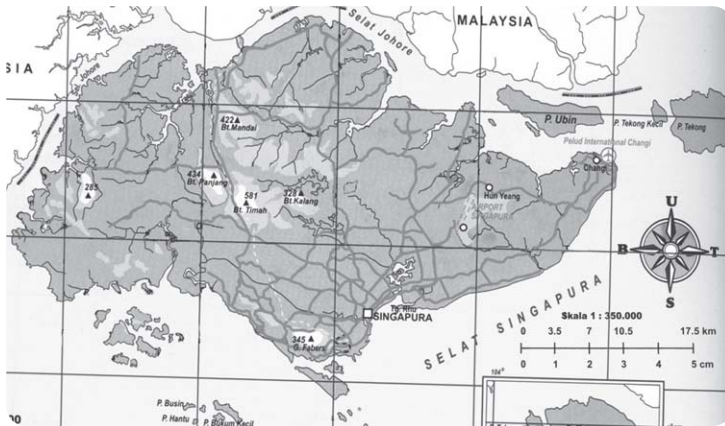
Sumber: www.worldnomads.com

**Gambar 2.4**  
Salah satu masjid di Brunei Darussalam yang memiliki kubah emas.

Nama Negara	: Brunei Darussalam
Ibu kota	: Bandar Seri Begawan
Tanggal Merdeka	: 1 Januari 1984
Bahasa Resmi	: Melayu
Lagu Kebangsaan	: Pujian Untuk Sultan
Bentuk Pemerintahan	: Monarki (kesultanan)
Kepala Negara	: Sultan
Kepala Pemerintahan	: Sultan
Mata Uang	: Dolar Brunei

#### 4. Singapura

Singapura terletak pada 103<sup>0</sup>35' BT-104<sup>0</sup> BT dan 1<sup>0</sup>10' LU-1<sup>0</sup>30' LU. Singapura merupakan salah satu negara kepulauan. Pulau terbesarnya adalah Pulau Singapura, luasnya tidak lebih luas dari Kota Jakarta. Luas wilayah Negara Singapura adalah 660 km<sup>2</sup>.



Sumber: Atlas Indonesia dan Dunia, 2006

Singapura merupakan negara industri termaju di kawasan Asia Tenggara. Letaknya yang strategis, menjadikan Singapura merupakan jalur singgah kapal laut tujuan negara-negara Asia Tenggara, Asia Timur, dan Australia, serta berbagai kawasan di dunia. Kegiatan yang menopang perekonomian Singapura adalah perdagangan, industri, dan pariwisata. Singapura memiliki tiga musim, yaitu musim hujan yang sejuk, musim kemarau yang panas, dan musim pancaroba.

Nama Negara	: Singapura
Ibu kota	: Singapura
Tanggal Merdeka	: 9 Agustus 1965
Bahasa Resmi	: Inggris
Lagu Kebangsaan	: Majulah Singapura
Bentuk Pemerintahan	: Republik
Kepala Negara	: Presiden
Kepala Pemerintahan	: Perdana Menteri
Mata Uang	: Dolar Singapura



Sumber: [www.wordpress.com](http://www.wordpress.com)

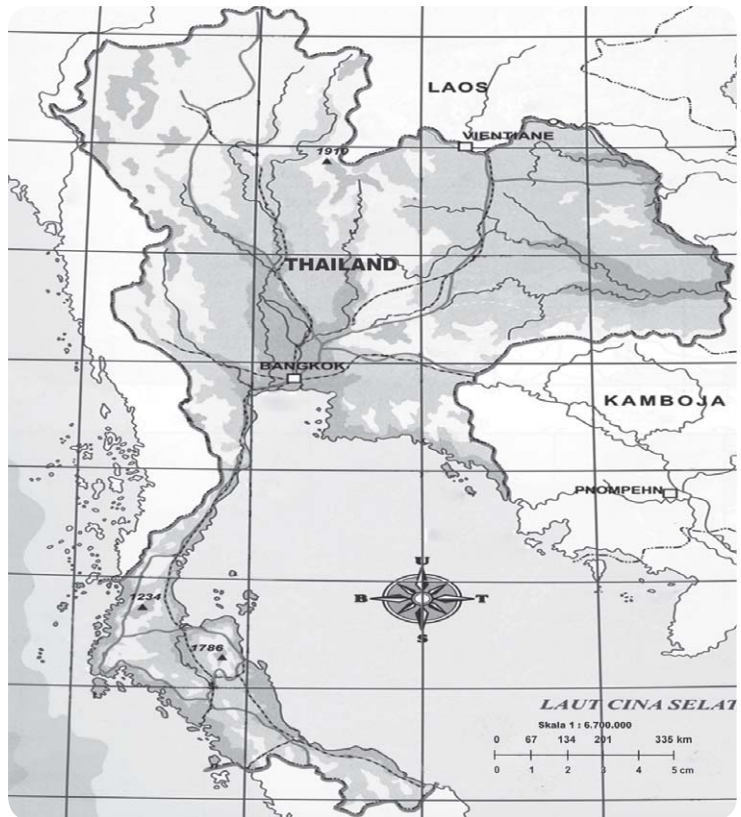
Gambar 2.5 Patung Merlion yang menjadi simbol bagi Negara Singapura.

## 5. Thailand

Thailand adalah satu-satunya negara di kawasan Asia Tenggara yang tidak pernah dijajah. Oleh karena itu, negara ini dijuluki Tanah Merdeka. Thailand terletak pada  $98^{\circ}$  BT- $106^{\circ}$  BT dan  $5^{\circ}$  LU- $21^{\circ}$  LU, dengan luas wilayah sekitar  $513.115 \text{ km}^2$ . Thailand beriklim tropis dengan dua musim, yaitu musim panas (Maret-April) dan musim dingin (Oktober-Februari).



**Peta 2.6**  
Kawasan Thailand



Sumber: Atlas Indonesia dan Dunia, 2006



Sumber: DusitHallwww.richard-seaman.com

**Gambar 2.6**  
Salah satu sudut kota Bangkok, Thailand.

Nama Negara	: Thailand
Ibu kota	: Bangkok
Tanggal Merdeka	: -
Bahasa Resmi	: Thai
Lagu Kebangsaan	: Pleng Chard
Bentuk Pemerintahan	: Kerajaan Konstitusi
Kepala Negara	: Raja
Kepala Pemerintahan	: Perdana Menteri
Mata Uang	: Bath Thailand

Thailand merupakan lumbung padi di Asia Tenggara karena hasil pertanian terbesar negara Thailand adalah beras. Thailand merupakan negara kerajaan dengan kepala negaranya seorang raja.

## 6. Laos

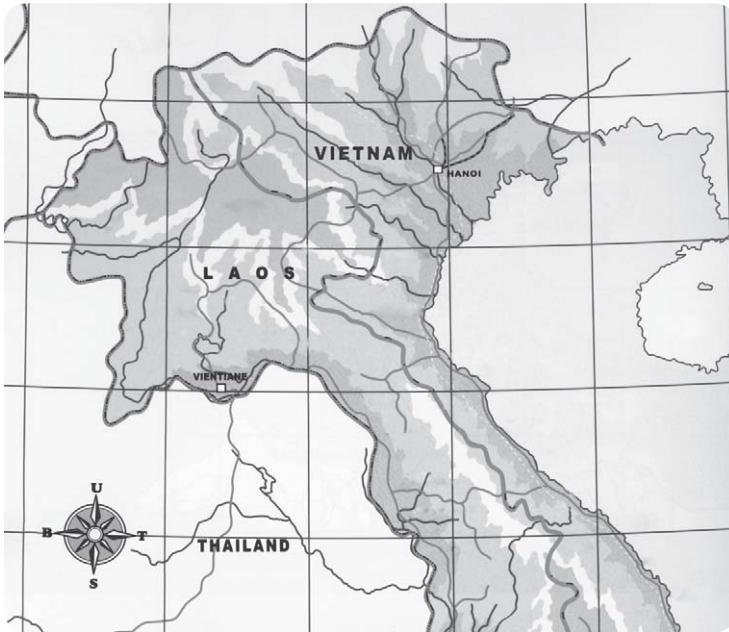
Laos adalah negara yang terletak di antara Negara Myanmar (Barat), Cina (Utara), Vietnam (Timur), Thailand, dan Kamboja (Selatan). Keadaan

ini menyebabkan Laos menjadi satu-satunya negara di Asia Tenggara yang tidak memiliki pantai dan wilayah laut. Sungai Mekong merupakan sungai penting di negara ini. Sungai Mekong dimanfaatkan penduduk untuk kegiatan pertanian dan transportasi.



Let's  
Learn

Iklim = *Climate*  
 Kerja sama = *Cooperation*  
 Tetangga = *Neighbour*  
 Wilayah = *Region*  
 Asia Tenggara = *South East Asia*



Sumber: Atlas Indonesia dan Dunia, 2006

Secara astronomis, Laos terletak pada 100<sup>o</sup> BT-108<sup>o</sup> BT dan 14<sup>o</sup> LU-22<sup>o</sup> LU. Luas Negara Laos sekitar 236.800 km<sup>2</sup>. Ibu kota Laos adalah Vientiane. Laos adalah negara termiskin di wilayah Asia Tenggara. Mata pencaharian utama penduduk Laos adalah di sektor pertanian.

Nama Negara	: Laos
Ibu kota	: Vientiane
Tanggal Merdeka	: 14 September 1949
Bahasa Resmi	: Inggris
Lagu Kebangsaan	: Sad Lao Tang Te Deun Ma'khan Sulu Sa You Nei Asie
Bentuk Pemerintahan	: Republik
Kepala Negara	: Presiden
Kepala Pemerintahan	: Perdana Menteri
Mata Uang	: New Kip

Peta 2.7

Kawasan Laos



Sumber: www.photobucket.com

Gambar 2.7

Salah satu bangunan yang terdapat di Negara Laos.



Sumber: *Ensiklopedia Geografi*, 2007

### Gambar 2.8

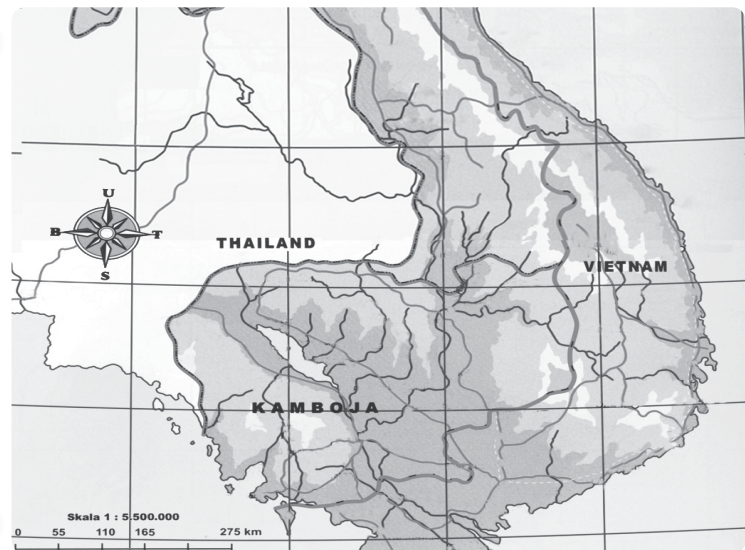
Candi Angkor Wat, merupakan candi yang terkenal di Kamboja.

### Peta 2.8

Kawasan Kamboja

## 7. Kamboja

Secara astronomis, Kamboja berada pada  $102^{\circ}$  BT- $108^{\circ}$  BT dan  $6^{\circ}$  LU- $15^{\circ}$  LU, dengan luas wilayah  $181.035 \text{ km}^2$ . Kamboja termasuk negara miskin di Asia Tenggara karena sering dilanda perang. Saat ini, Kamboja mulai membangun perekonomiannya. Kamboja memiliki iklim tropis, dengan musim hujan (November-Mei), dan musim hujan (Juni-Oktober). Mata pencarian utama penduduknya adalah di sektor pertanian.



Sumber: *Atlas Indonesia dan Dunia*, 2006

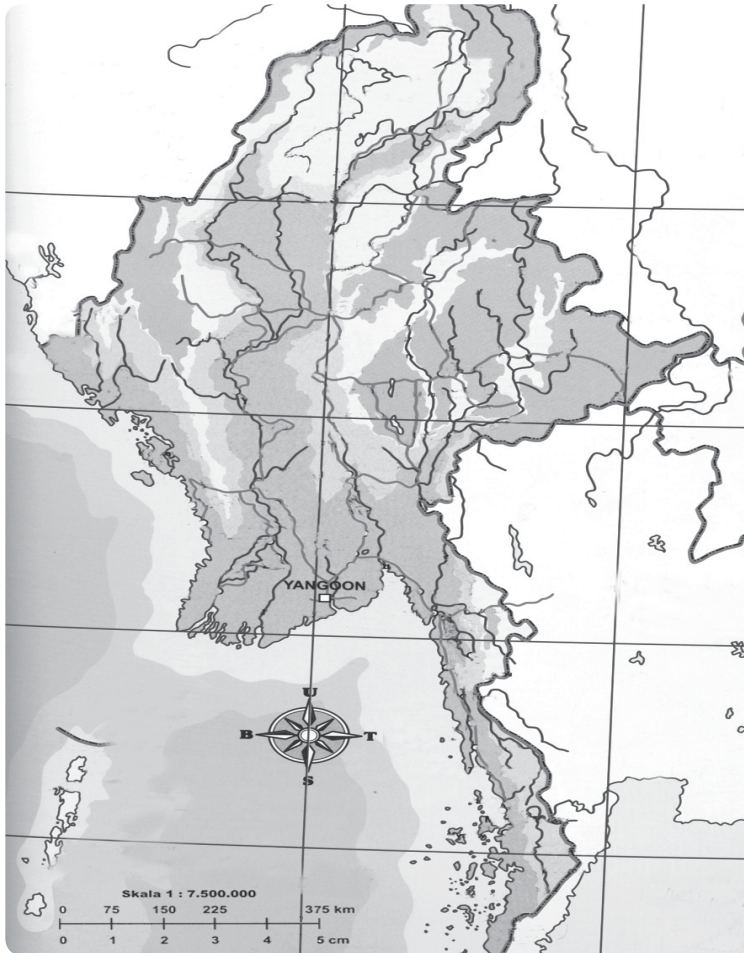
Kamboja adalah negara kerajaan. Kepala negaranya seorang raja dan kepala pemerintahannya seorang perdana menteri. Ibu kota Kamboja adalah Phnom Phenh.

Nama Negara	: Kamboja
Ibu kota	: Phnom Phenh
Tanggal Merdeka	: 17 April 1953
Bahasa Resmi	: Khmer
Lagu Kebangsaan	: Our Country
Bentuk Pemerintahan	: Kerajaan
Kepala Negara	: Raja
Kepala Pemerintahan	: Perdana Menteri
Mata Uang	: Riel Kamboja



## 8. Myanmar

Secara astronomis, Myanmar terletak pada  $92^{\circ}$  BT- $102^{\circ}$  BT dan  $9^{\circ}$  LU- $29^{\circ}$  LU, dengan luas wilayah  $676.577 \text{ km}^2$ . Menurut penduduknya, Myanmar berarti Tanah Emas.



Sumber: Atlas Indonesia dan Dunia, 2006

Pertanian merupakan mata pencarian utama penduduk Myanmar. Selain itu, pertambangan dan industri juga merupakan penopang perekonomian Myanmar. Negara ini memiliki iklim tropis dengan tiga musim, yaitu musim hujan, musim kemarau yang sejuk, dan musim kemarau yang panas.

Peta 2.9

Kawasan Myanmar



Sumber: *baganphotos.igougo.com*.

**Gambar 2.9**  
Bangun tua di Negara Laos.

Nama Negara	: Myanmar
Ibu kota	: Rangoon
Tanggal Merdeka	: 4 Januari 1948
Bahasa Resmi	: Birma
Lagu Kebangsaan	: Our Free Homeland
Bentuk Pemerintahan	: Republik
Kepala Negara	: Presiden
Kepala Pemerintahan	: Perdana Menteri
Mata Uang	: Kyat

## 9. Filipina

Filipina adalah negara kepulauan yang memiliki kurang lebih 7.100 pulau. Dua pulau terbesar adalah Pulau Luzon dan Pulau Mindanao. Filipina memiliki Palung Laut Mindanao yang merupakan palung laut terdalam di Asia Tenggara.



**Peta 2.10**  
Kawasan Filipina

Sumber: *Atlas Indonesia dan Dunia, 2006*

Letak astronomis Filipina  $116^{\circ}$  BT- $128^{\circ}$  BT dan  $4^{\circ}$  LU- $20^{\circ}$  LU, dengan luas wilayah  $14.874 \text{ km}^2$ . Kepulauan Filipina didominasi oleh pegunungan. Gunung tertinggi di Filipina adalah Gunung Apo ( $2.954 \text{ m}$ ) yang terletak di Pulau Mindanao.

Nama Negara	: Filipina
Ibu kota	: Manila
Tanggal Merdeka	: 12 Juni 1946
Bahasa Resmi	: Tagalog
Lagu Kebangsaan	: Tierra Adorada
Bentuk Pemerintahan	: Republik
Kepala Negara	: Presiden
Kepala Pemerintahan	: Presiden
Mata Uang	: Peso



Sumber: [www.travel-images.com](http://www.travel-images.com)

Gambar 2.10

Salah satu sudut Kota Manila, Filipina.

## 10. Vietnam

Secara astronomis, Vietnam terletak pada  $102^{\circ}$  BT- $110^{\circ}$  BT dan  $8^{\circ}$  LU- $23^{\circ}$  LU, dengan luas wilayah  $331.041 \text{ km}^2$ . Vietnam merupakan negara di Asia Tenggara yang mengalami masa perang terlama. Vietnam terletak di daratan Indocina.



Sumber: *Atlas Indonesia dan Dunia*, 2006

Peta 2.11

Kawasan Vietnam





Sumber: [www.wikimedia.com](http://www.wikimedia.com)

**Gambar 2.11**

Istana Ho Chi Minh di Hanoi, Vietnam.

Vietnam memiliki iklim tropis dengan musim panas dan dingin. Mata pencarian utama penduduknya adalah bertani. Kegiatan perekonomian Vietnam penting lainnya adalah industri dan pertambangan.

Nama Negara	: Vietnam
Ibu kota	: Hanoi
Tanggal Merdeka	: 21 Juli 1954
Bahasa Resmi	: Vietnam
Lagu Kebangsaan	: Tien Quan Ca
Bentuk Pemerintahan	: Republik Sosialis
Kepala Negara	: Presiden
Kepala Pemerintahan	: Perdana Menteri
Mata Uang	: Dong

### 11. East Timor (Timor Leste)

Timor Leste adalah negara paling baru di Asia Tenggara. Pada abad ke-16, Timor Leste dijajah oleh Portugis. Pada 1975, Timor Leste (Timor Timur) bergabung dengan Indonesia dan menjadi provinsi ke-27. Timor Leste memisahkan diri dari Indonesia pada 1999. Luas wilayah negara ini ± 14.874 km<sup>2</sup>.



**Peta 2.12**

Kawasan Timor Leste

Sumber: Atlas Indonesia dan Dunia, 2006



Nama Negara	:	The Democratic Republic of East Timor
Ibu kota	:	Dili
Tanggal Merdeka	:	-
Bahasa Resmi	:	Tetum, Portuguese
Lagu Kebangsaan	:	Pátria
Bentuk Pemerintahan	:	Republik
Kepala Negara	:	Presiden
Kepala Pemerintahan	:	Perdana Menteri
Mata Uang	:	Dolar Amerika



Sumber: [www.mysticplanet.com](http://www.mysticplanet.com)

### Gambar 2.12

Salah satu patung yang menjadi simbol Kota Dili, Timor Leste.

## Kerja Sama Indonesia dan Negara Tetangga

Sejak abad ke-15, bangsa-bangsa Eropa mulai menjajah negara-negara di kawasan Asia Tenggara. Kemudian, negara-negara ini mulai dapat melepaskan diri dari penjajahan. Berdasarkan persamaan nasib ini, negara-negara Asia Tenggara menggalang kekuatan membentuk organisasi kerja sama antarnegara Asia Tenggara.

Pada 5–8 Agustus 1967 diadakan pertemuan yang dihadiri lima orang tokoh dari lima negara, yaitu sebagai berikut.

1. Adam Malik, menteri luar negeri Indonesia.
2. Thanat Koman, menteri luar negeri Thailand.
3. S. Rajaratnam, menteri luar negeri Singapura.
4. Tun Abdul Razak, perdana menteri Malaysia.
5. Narsisco Ramos, menteri luar negeri Filipina.

Pada 8 Agustus 1967, dihasilkan kesepakatan yang dinamakan Deklarasi Bangkok. Deklarasi ini sebagai awal terbentuknya organisasi *Association of South East Asian Nations* (ASEAN).

Tujuan ASEAN yang tercantum dalam Deklarasi Bangkok, yaitu sebagai berikut.

1. Mempercepat pertumbuhan ekonomi, kemajuan sosial, dan perkembangan kebudayaan di kawasan Asia Tenggara.
2. Meningkatkan perdamaian dan stabilitas regional.



Sumber: [logo-aseanweblog.iidenuniv.gif](http://logo-aseanweblog.iidenuniv.gif)

### Gambar 2.13

Logo ASEAN yang menjadi lambang kerja sama negara-negara di Asia Tenggara.



## Ayo, Jawab

Diskusikan dengan teman sekelasmu. Bagaimana dampak adanya kerja sama antarnegara yang ada di kawasan Asia Tenggara?

3. Meningkatkan kerja sama di bidang ekonomi, sosial, teknik, iptek, dan administrasi.
4. Meningkatkan kerja sama di bidang pertanian, industri, transportasi, dan komunikasi, serta taraf hidup.

Indonesia selalu berpartisipasi dan berperan aktif dalam setiap pertemuan ASEAN. Peran Indonesia, di antaranya sebagai tuan rumah dalam penyelenggaraan KTT maupun pertemuan-pertemuan ASEAN.

Pada Desember 1997, anggota ASEAN mengadakan pertemuan di Kuala Lumpur, Malaysia. Dalam pertemuan tersebut, menghasilkan Visi ASEAN 2020, yaitu sebagai berikut.

1. Keinginan ASEAN sebagai kawasan Asia Tenggara yang bersatu.
2. Melihat keluar, hidup dalam perdamaian, stabilitas dan kesejahteraan.
3. Terikat bersama-sama dalam satu kemitraan pembangunan.
4. Dinamis dalam satu komunitas yang saling peduli.

## Tokoh Kita

### Adam Malik

Adam Malik dilahirkan di Pematang Siantar, Sumatra Utara, pada 22 Juli 1917. Beliau adalah tokoh wartawan terkemuka di Indonesia. Pada 1946-1958, ia mendirikan Partai Murba. Beliau pernah menjabat sebagai menteri ekonomi, menteri luar negeri, dan ketua majelis umum PBB Ke-26 di New York. Beliau pernah pula menjabat sebagai Wakil Presiden RI ke-3. Beliau juga merupakan delegasi Indonesia dalam memelopori berdirinya ASEAN. Beliau meninggal pada 5 September 1984 di Bandung.



Sumber: [www.wikipedia.co.id](http://www.wikipedia.co.id)



## Ringkasan

1. Secara astronomis, Asia Tenggara terletak di antara  $11^{\circ}$  LS- $21^{\circ}$  LU dan  $92^{\circ}$  BT- $141^{\circ}$  BT.
2. Secara geografis, Asia Tenggara terletak di antara Benua Asia dan Benua Australia serta di antara Samudra Hindia dan Samudra Pasifik.
3. Letak Asia Tenggara sangat strategis karena terletak di jalur pelayaran internasional.
4. Negara-negara yang terletak di Asia Tenggara adalah sebagai berikut.
  - a. Indonesia, ibu kotanya Jakarta.
  - b. Malaysia, ibu kotanya Kuala Lumpur.
  - c. Singapura, ibu kotanya Singapura.
  - d. Brunei Darussalam, ibu kotanya Bandar Seri Begawan.
  - e. Thailand, ibu kotanya Bangkok.
  - f. Kamboja, ibu kotanya Phnom Phenh
  - g. Laos ibu kotanya, Vientiane.
  - h. Myanmar, ibu kotanya Rangoon.
  - i. Vietnam, ibu kotanya Hanoi.
  - j. Filipina, ibu kotanya Manila.
  - k. Timor Leste, ibu kotanya Dili.
5. Negara-negara di Asia Tenggara membentuk organisasi sosial bernama *Association of South East of Asia Nations* (ASEAN).
6. ASEAN berdiri pada 8 Agustus 1967, yang diawali dengan adanya penandatanganan Deklarasi Bangkok.
7. Tokoh-tokoh yang menandatangani Deklarasi Bangkok, yaitu sebagai berikut.
  - a. Adam Malik, menteri luar negeri Indonesia.
  - b. Thanat Koman, menteri luar negeri Thailand.
  - c. S. Rajaratnam, menteri luar negeri Singapura.
  - d. Tun Abdul Razak, perdana menteri Malaysia.
  - e. Narsisco Ramos, menteri luar negeri Filipina.

## Ayo, Renungkan

Setelah mempelajari ketampakan alam dan keadaan sosial negara-negara tetangga, masih adakah materi yang belum kamu pahami? Sekarang, sudahkah kamu mengenal ketampakan alam dan keadaan sosial yang ada di setiap negara? Sikap apa yang akan kamu tunjukkan setelah mengenal keragaman alam dan sosial negara-negara tetangga?



## Evaluasi Bab 2

**Ayo, Kerjakan pada buku tugasmu.**

### **A. Pilihlah jawaban yang paling tepat.**

1. Negara di Asia Tenggara yang memiliki pelabuhan laut teramai adalah ....
  - a. Indonesia
  - b. Malaysia
  - c. Singapura
  - d. Filipina
2. Negara berikut ini yang memiliki bentuk pemerintahan kerajaan adalah ....
  - a. Malaysia
  - b. Vietnam
  - c. Laos
  - d. Myanmar
3. Bahasa resmi yang digunakan Negara Filipina adalah ....
  - a. Melayu
  - b. Tagalog
  - c. Thai
  - d. Birma
4. Negara Singapura merdeka pada ....
  - a. 17 Agustus 1945
  - b. 31 Agustus 1957
  - c. 9 Agustus 1965
  - d. 1 Januari 1984
5. Bentuk pemerintahan Negara Vietnam adalah ....
  - a. kerajaan konstitusi
  - b. republik
  - c. republik sosialis
  - d. monarki
6. Suku Burma adalah penduduk asli Negara ....
  - a. Myanmar
  - b. Kamboja
  - c. Laos
  - d. Thailand
7. Secara geografis, wilayah Asia Tenggara terletak di antara dua samudra, yaitu ....
  - a. Samudra Atlantik dan Samudra Pasifik
  - b. Samudra Hindia dan Samudra Pasifik
  - c. Samudra Atlantik dan Samudra Artik
  - d. Samudra Hindia dan Samudra Atlantik
8. Dua pulau terbesar yang ada di Filipina adalah ....
  - a. Pulau Luzon dan Pulau Mindanao
  - b. Pulau Luzon dan Pulau Sentosa
  - c. Pulau Mindanao dan Pulau Lingitan
  - d. Pulau Mindanao dan Pulau Sentosa
9. Candi Angkor Wat dan Angkot Thom terdapat di Negara ....
  - a. Laos
  - b. Thailand
  - c. Kamboja
  - d. Vietnam
10. Negara yang terletak paling utara di Asia Tenggara adalah ....
  - a. Filipina
  - b. Vietnam
  - c. Myanmar
  - d. Malaysia

11. Negara di Asia Tenggara yang tidak pernah dijajah, yaitu ....
  - a. Thailand
  - b. Filipina
  - c. Indonesia
  - d. Malaysia
12. Ibu kota Vietnam adalah ....
  - a. Jakarta
  - b. Bangkok
  - c. Hanoi
  - d. Kualalumpur
13. Sungai terpanjang di Malaysia adalah Sungai ....
  - a. Pahang
  - b. Mekong
  - c. Musi
  - d. Mahakam
14. Gunungapi tertinggi di Negara Filipina adalah ....
  - a. Gunung Apo
  - b. Gunung Merapi
  - c. Gunung Kinabalu
  - d. Gunung Semeru
15. Negara terkaya di Asia Tenggara, yaitu ....
  - a. Singapura
  - b. Malaysia
  - c. Brunei Darussalam
  - d. Indonesia
16. Mata uang Thailand adalah ....
  - a. Ringgit
  - b. Dollar
  - c. Bath
  - d. Peso
17. Kerja sama antara negara-negara di kawasan Asia Tenggara adalah ....
  - a. APEC
  - b. AFTA
  - c. ASEAN
  - d. MEE
18. Negara termiskin di kawasan Asia Tenggara adalah ....
  - a. Vietnam
  - b. Kamboja
  - c. Laos
  - d. Brunei Darussalam
19. Bentuk pemerintahan Singapura adalah ....
  - a. kerajaan
  - b. republik
  - c. monarki
  - d. republik sosialis
20. Lagu kebangsaan Negara Indonesia adalah ....
  - a. Negaraku
  - b. Indonesia Raya
  - c. *Pleng Chard*
  - d. *Our Country*

## B. Isilah titik-titik berikut dengan benar.

1. Negara Bagian Malaysia yang terdapat di Pulau Kalimantan adalah ....
2. Negara kepulauan di Asia Tenggara, yaitu ..., ..., dan....
3. Lagu kebangsaan Brunei Darussalam adalah ....
4. Negara di Asia Tenggara yang tidak pernah dijajah bangsa Eropa adalah ....
5. Negara penghasil beras utama di kawasan Asia Tenggara adalah ....
6. Dua pulau besar di Filipina, yaitu ..., ....
7. Negara termiskin di Asia Tenggara adalah ..., ....

8. Mata uang Negara Kamboja adalah ....
9. Patung Marlion terdapat di kota ....
10. Mata pencaharian utama penduduk di kawasan Asia Tenggara adalah ....

### C. Jawablah pertanyaan berikut.

1. Terangkan tiga sumber mata pencaharian utama penduduk Singapura.
2. Tuliskan batas wilayah Negara Brunei Darussalam.
3. Terangkan 3 (tiga) persamaan Indonesia dengan negara-negara tetangga.
4. Mengapa Negara Singapura dijuluki Macan Asia?
5. Lengkapi tabel berikut.

No	Negara	Bentuk Pemerintahan	Kepala Negara
1.	Malaysia		
2.	Laos		
3.	Filipina		
4.	Myanmar		
5.	Indonesia		


6. Tuliskan tokoh-tokoh yang terlibat pendirian ASEAN.
7. Tuliskan kota-kota penting di Indonesia yang kamu ketahui.
8. Terangkan iklim yang terjadi di Indonesia.
9. Gambarlah bendera-bendera negara anggota ASEAN.
10. Sebutkan tujuan didirikannya ASEAN sesuai dengan yang tercantum dalam Deklarasi Bangkok.



### Ayo, Kerjakan

Untuk mengembangkan kemandirian kamu dalam belajar, buatlah peta Asia Tenggara bersama teman kelompok kalian. Di setiap negara, gambarlah bendera negara tersebut dan tuliskan ibu kota negaranya. Presentasikan peta yang kalian buat di depan kelas. Kemudian, hasilnya kumpulkan kepada gurumu.

# Bab 3



Sumber: *Ensiklopedi Geografi*, 2007

## Benua-Benua di Dunia

### Apa Manfaat Bagiku?

Dengan mempelajari bab ini, kamu dapat mengidentifikasi nama-nama benua di dunia, ciri khas utama setiap benua, dan menunjukkan benua-benua di dunia melalui peta/atlas.

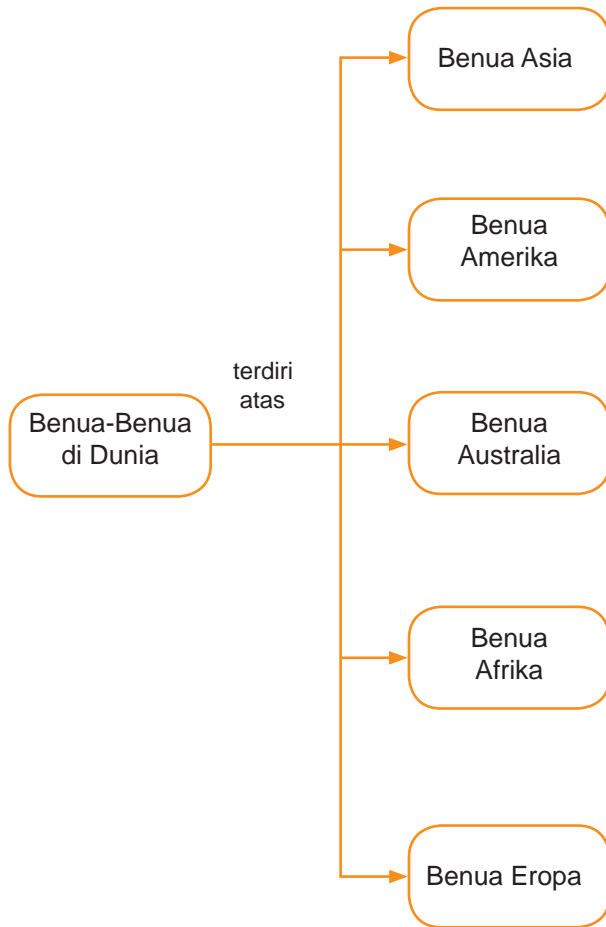
### Kata Kunci

Benua Asia, Benua Amerika, Benua Eropa, Benua Afrika, Benua Australia, dan letak geografis.

### Pendahuluan

Di dunia terdapat enam benua, yaitu Benua Asia, Benua Afrika, Benua Eropa, Benua Amerika, Benua Australia, dan Benua Antartika. Tentunya, kamu sudah sering menggunakan peta untuk mencari keterangan bentuk fisik sebuah permukaan bumi, bukan? Informasi apa saja yang dapat kamu peroleh dari pengamatan sebuah peta? Dengan mengamati sebuah peta dunia, kamu dapat mengetahui letak gunung, sungai, pulau, laut, selat, danau, dan samudra, serta ciri dari beberapa negara di dunia. Hal ini dapat kamu ketahui setelah mempelajari materi tentang benua-benua di dunia.

- A** Benua Asia
- B** Benua Amerika
- C** Benua Afrika
- D** Benua Eropa
- E** Benua Australia





# A Benua Asia

## 1. Wilayah Benua Asia

Benua merupakan daratan yang sangat luas. Bagian daratan di permukaan bumi ini hanya 30%, sisanya adalah lautan. Bumi ini terbagi menjadi enam benua, lima benua berpenghuni dan satu benua tidak berpenghuni, yaitu Benua Antartika. Keenam benua tersebut, yaitu sebagai berikut.

1. Benua Asia (44.000.000 km<sup>2</sup>)
2. Benua Amerika (42.195.000 km<sup>2</sup>)
3. Benua Afrika (30.177.000 km<sup>2</sup>)
4. Benua Eropa (10.500.000 km<sup>2</sup>)
5. Benua Australia (7.682.300 km<sup>2</sup>)
6. Benua Antartika (13.000.000 km<sup>2</sup>)

Sekarang, marilah kita bahas benua-benua tersebut satu per satu.



Ayo,  
Jawab

Diskusikan dengan teman sebangkumu. Apa yang menjadi ciri khas suatu benua?



Sumber: Atlas Indonesia Baru, 2000

Peta 3.1

Wilayah Benua Asia





Sumber: [www.wikipedia.org](http://www.wikipedia.org)

### Gambar 3.1

Tembok Besar Cina salah satu keajaiban dunia di Benua Asia.

Benua Asia dijuluki Ibu Benua karena merupakan benua paling luas di dunia. Letak astronomis Benua Asia adalah  $11^{\circ}$  LS- $77^{\circ}$  LU dan  $26^{\circ}$  BT- $169^{\circ}$  BT.

Adapun batas-batas Benua Asia adalah sebagai berikut.

- Sebelah utara : Laut Arktik
- Sebelah timur : Samudra Pasifik
- Sebelah barat : Pegunungan Ural dan Laut Kaspia
- Sebelah selatan : Samudra Hindia

Secara geografi, Asia Utara (wilayah Serbia) termasuk benua Asia. Namun, secara administratif merupakan wilayah Rusia yang masuk ke dalam Benua Eropa. Penduduk Asia terdiri atas rumpun Mongoloid, Eropid, dan Negroid. Keajaiban dunia di Asia, yaitu *The Great Wall* (Cina).

## 2. Ketampakan Alam Benua Asia

### a. Pegunungan dan Gunung

Benua Asia memiliki banyak pegunungan tinggi dan besar. Pegunungan Himalaya merupakan pegunungan terbesar di Asia. Pegunungan di Asia terdiri atas gunungapi aktif dan tidak aktif. Gunungapi tertinggi di Benua Asia adalah Gunung Klyuchevskaya (4.750 m) di Siberia.

Adapun gunungapi tidak aktif tertinggi di Benua Asia adalah Mount Everest, disebut juga Gauri Sangkar (8.848 m). Puncak Everest ini berada di Negara Nepal dan puncaknya diliputi salju abadi.

### b. Sungai

Wilayah Asia memiliki banyak sungai karena memiliki banyak gunung. Sungai terpanjang di Asia adalah Sungai Yangtze (5.797 m). Mata airnya berasal dari Dataran Tinggi Tibet dan bermuara di Laut Cina Timur.



Sumber: [www.wikipedia.org](http://www.wikipedia.org)

### Gambar 3.2

Pegunungan terbesar di Asia dengan puncaknya yang bernama Everest.



Sumber: [www.wikipedia.org](http://www.wikipedia.org)

Gambar 3.3

Sungai terpanjang di Benua Asia.

### c. Dataran Tinggi

Dataran tinggi memiliki ketinggian lebih dari 200 meter di atas permukaan laut. Dataran Tinggi Tibet merupakan dataran paling tinggi dan paling luas di dunia sehingga dijuluki Atap Benua.

### d. Danau

Danau adalah genangan air yang luas dan dikelilingi daratan. Danau Kaspia merupakan danau terluas di dunia sehingga sering disebut Laut. Danau ini terletak di perbatasan Benua Asia dan Benua Eropa.

### e. Gurun


Gurun pasir besar di Asia, di antaranya Gurun Gobi membentang dari Mongolia sampai Cina. Selain Gurun Gobi, ada juga Gurun Rub'al-khali di bagian tenggara Jazirah Arab.

## 3. Negara-Negara di Benua Asia

Benua Asia memiliki jumlah negara paling banyak jika dibandingkan dengan benua lainnya. Namun, negara yang akan dijelaskan hanya dua, yaitu India dan Jepang.

### a. India

India terletak pada  $8^{\circ}$  LU- $37^{\circ}$  LU dan  $68^{\circ}$  BT- $92^{\circ}$  BT. India beribu kota New Delhi. Di India mengalir Sungai Gangga, Indus, dan Brahmaputra yang ketiganya bermuara ke Teluk Bengala.



Sumber: [www.eregistry.com](http://www.eregistry.com)

Gambar 3.4

Taj Mahal salah satu bangunan keajaiban dunia, terdapat di India.

Di utara membentang Pegunungan Himalaya. Masyarakat India mengenal sistem kasta, seperti kasta Brahmana, Ksatria, Waisa, dan Sudra. Agama yang banyak dianut adalah Hindu. Di Kota Agra terdapat bangunan salah satu keajaiban dunia, yaitu Taj Mahal.

## b. Jepang



Sumber: [www.wikipedia.org](http://www.wikipedia.org)

### Gambar 3.5

Gunung Fuji adalah gunung yang dianggap keramat bagi rakyat Jepang.

Jepang adalah negara termaju perekonomiannya di Asia sehingga dijuluki Macan Asia. Jepang terletak pada  $30^{\circ}$  LU- $47^{\circ}$  LU dan  $128^{\circ}$  BT- $146^{\circ}$  BT, dengan luas wilayah  $377.819 \text{ km}^2$ . Jepang terdiri atas empat pulau besar, yaitu Pulau Hokkaido, Pulau Honchu, Pulau Sikoku, dan Pulau Kyushu.

Gunung tertinggi di Jepang adalah Fujiyama ( $3.776 \text{ m}$ ). Puncaknya selalu diselimuti salju abadi. Jepang sering mengalami gempa bumi karena Jepang memiliki 77 gunungapi aktif. Penduduk asli Jepang adalah Suku Ainu dan Suku Ateja. Agama yang banyak dianut adalah agama Shinto.

## Benua Amerika

### 1. Wilayah Benua Amerika

Benua Amerika merupakan benua terluas kedua di dunia. Benua Amerika ditemukan oleh Cristhoper Columbus (Spanyol, 1492). Nama Amerika diambil dari nama pelaut Italia, yaitu Amerigo Vespucci. Luas benua ini  $42.053.526 \text{ km}^2$ . Letak astronomis Benua Amerika adalah  $83^{\circ}$  LU- $56^{\circ}$  LS dan  $170^{\circ}$  BB- $35^{\circ}$  BB.

Adapun batas-batas Benua Amerika adalah sebagai berikut.

- Sebelah utara : Laut Arktik
- Sebelah timur : Samudra Atlantik
- Sebelah barat : Samudra Pasifik
- Sebelah selatan : Samudra Atlantik

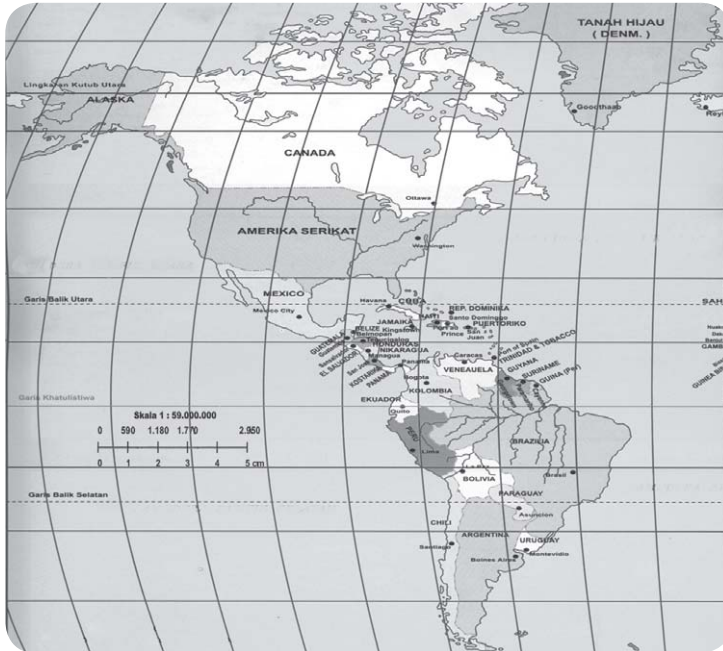
Di Benua Amerika terdapat Terusan Panama yang menghubungkan Samudra Pasifik dan Samudra Atlantik. Di ujung selatan Amerika terdapat padang rumput yang sangat luas disebut Patagonia. Penduduk asli Benua Amerika adalah Suku Indian, Aztec, dan Inca.



Sumber: *Esiklopedia Geografi*, 2007

### Gambar 3.6

Terusan Panama digunakan sebagai lalu lintas perdagangan.



Sumber: *Atlas Indonesia dan Dunia*, 2006

### Peta 3.2

Kawasan Benua Amerika

## 2. Ketampakan Alam Benua Amerika

### a. Pegunungan dan Gunung

Dua pegunungan besar di Benua Amerika adalah Pegunungan Rocky (Amerika Utara) dan Pegunungan Andes (Amerika Selatan). Aconcagua (6.959 m) adalah gunung tertinggi di Benua Amerika. Aconcagua merupakan puncak dari Pegunungan Andes. Gunungapi tertinggi di Amerika adalah Gunung Guallatiri (6.060 m).

### b. Sungai

Sungai terpanjang di Amerika adalah Sungai Amazon (6.400 km). Adapun Sungai Mississippi yang mengalir di Amerika Serikat dijuluki Bapak

Sungai karena memiliki banyak anak-anak sungai. Selain Sungai Mississippi, ada juga Sungai Kolorado yang mengalir di Mexico. Aliran Sungai Kolorado membentuk *Grand Canyon of Colorado* (Kanyon Besar Kolorado). Kanyon adalah lembah sempit yang dalam dengan tepi yang terjal disertai sungai yang melewatinya.



Sumber: [www.amazon.com](http://www.amazon.com)

**Gambar 3.7**  
Sungai Amazon merupakan sungai terpanjang di Amerika.

### c. Danau

Danau terbesar di Benua Amerika adalah Danau Superior (82.000 km<sup>2</sup>). Benua Amerika juga memiliki danau tertinggi di dunia, yaitu Danau Titicaca karena letaknya ± 400 m/dpl. Danau Michigan terdapat di Amerika Serikat. Di tengah danau yang luasnya 57.800 km<sup>2</sup> ini terdapat Pulau Ometepe, Zapatera, dan Solentiname. Chicago merupakan kota yang terletak di tepi Danau Michigan. Danau Ontario dan Danau Erie yang terletak di antara Kanada dan Amerika Serikat dan merupakan danau besar di Benua Amerika.



### Let's Learn

Benua	= <i>Continent</i>
Danau	= <i>Lake</i>
Gurun	= <i>Desert</i>
Gunung	= <i>Mountain</i>
Peta	= <i>Map</i>
Sungai	= <i>River</i>

### d. Gurun

Gurun banyak terdapat di bagian tengah dan barat Amerika. Gurun terluas adalah Gurun Cekung Besar (492.000 km<sup>2</sup>) membentang di Amerika Serikat. Gurun Chihuahuan dengan luas 450.000 km<sup>2</sup> membentang di Meksico.



### e. Air Terjun

Air terjun *Angel Fall* yang terletak di Venezuela adalah air terjun tertinggi di dunia. Ketinggian air terjun ini mencapai 979 m. Di antara Danau Ontario dan Danau Erie terdapat air terjun yang terkenal di Amerika, yaitu Air Terjun Niagara.

## 3. Negara-Negara di Benua Amerika

Sama seperti Benua Asia, Benua Amerika juga memiliki banyak negara. Namun, yang dijelaskan hanya dua, yaitu Amerika Serikat dan Kanada.

### a. Amerika Serikat

Nama resmi negara ini adalah *United State of America*. Amerika merupakan negara republik federal (serikat) dengan kepala negara seorang presiden. Ibu kota Amerika Serikat adalah Washington DC. Luas wilayah negara ini mencapai 9.372.610 km<sup>2</sup>. Hasil pertanian dan pertambangan Amerika, di antaranya gandum, jagung, terigu, kedelai, batu bara, minyak bumi, gas alam, tembaga, dan bijih besi.



Ayo,  
Jawab

Diskusikan dengan teman sebangkumu. Mengapa Amerika Serikat disebut Negara Super Power atau Negara Adidaya?



Sumber: *Esiklopedia Geografi*, 2007

Gambar 3.8

Gedung Putih di Washington DC yang aslinya dikenal sebagai *Exsecutive Mansion*. Gedung ini didesain arsitek Amerika keturunan Irlandia yang bernama James Hoban.

### b. Kanada

Kanada merupakan negara terluas kedua di dunia setelah Rusia. Luas wilayahnya mencapai 9.976.140 km<sup>2</sup>. Bentuk pemerintahannya adalah



demokrasi parlementer. Oleh karena Kanada negara persemakmuran Inggris, negara ini dipimpin oleh Ratu Inggris. Adapun kepala pemerintahannya dipimpin seorang perdana menteri. Ibu kota Kanada adalah Ottawa dan Kota Toronto merupakan pusat pendidikan di Kanada.

## C Benua Afrika

### 1. Wilayah Benua Afrika

Benua Afrika dijuluki Benua Koloni dan Benua Hitam. Wilayahnya terletak di antara  $37^{\circ}$  LU- $34^{\circ}$  LS dan  $17^{\circ}$  BB –  $51^{\circ}$  BT. Luas Benua Afrika mencapai  $30.177.000 \text{ km}^2$ .

Batas-batas Benua Afrika, yaitu sebagai berikut.

- Sebelah utara : Laut Tengah, Selat Gibraltor
- Sebelah timur : Samudra Hindia, Laut Merah
- Sebelah barat : Samudra Atlantik
- Sebelah selatan : Samudra Hindia



Sumber: Atlas Indonesia dan Dunia, 2006

Peta 3.3  
Kawasan Benua Afrika

Benua Afrika memiliki Terusan Suez yang menghubungkan Laut Tengah dan Laut Merah. Terusan Suez memiliki fungsi mempendek jarak tempuh dari Asia ke Eropa. Terusan Suez dirancang Ferdinand De Lesseps dari Prancis. Penduduk asli Benua Afrika adalah Suku Negro.

## 2. Keadaan Alam Benua Afrika

### a. Pegunungan dan Gunung

Pegunungan utama di Afrika adalah Pegunungan Atlas dan Pegunungan Drakensberg. Pegunungan Atlas membentang dari Maroko sampai Tunisia dengan panjang 2000 km. Adapun Pegunungan Drakensberg dengan panjang 1.125 km membentang di Afrika Selatan bagian tenggara.


Gunung di Afrika terdiri atas gunungapi aktif dan gunungapi tidak aktif. Gunung Kilimanjaro merupakan gunung tertinggi di Afrika sekaligus merupakan gunung tertinggi di dunia. Gunung Kilimanjaro memiliki ketinggian 5.895 m, yang berada di Negara Tanzania.

### b. Sungai

Sungai Nil merupakan sungai terkenal di Mesir. Selain karena keindahannya, Sungai Nil merupakan sungai terpanjang di Benua Afrika dan di dunia. Sungai Nil bermuara di Laut Tengah dan mengalir melewati tiga negara (Mesir, Sudan, dan Ethiopia). Selain Sungai Nil, ada juga Sungai Kongo dengan panjang 4700 m yang mengalir di Negara Kongo. Sungai Kongo bermuara di Samudra Atlantik.

### c. Dataran Tinggi

Dataran tinggi adalah wilayah yang bentuknya datar, bergelombang, dan berbukit-bukit. Dataran tinggi (plato) yang luas dan terkenal di Afrika adalah Dataran Tinggi Ethiopia.



Sumber: *Esiklopedia Geografi*, 2007

### Gambar 3.9

Terusan Suez sebagai jalur perdagangan di Benua Afrika.

#### d. Danau

Di Afrika terdapat banyak danau alam maupun danau buatan (bendungan). Danau alam terluas di Afrika adalah Danau Victoria. Danau ini membentang di tiga negara, yaitu Tanzania, Uganda, dan Kenya. Luas Danau Victoria mencapai 69.485 km<sup>2</sup>.



Sumber: [www.mccullagh.org](http://www.mccullagh.org)

#### Gambar 3.10

Gurun Sahara merupakan gurun terluas di dunia.

#### e. Gurun

Gurun pasir merupakan ketampakan alam yang paling luas di Afrika. Gurun pasir menutupi sepertiga bagian Benua Afrika. Gurun pasir terluas di Afrika adalah Gurun Sahara. Gurun ini membentang dari ujung barat Afrika (Negara Sahara Barat) sampai ujung timur Afrika (Mesir). Luas Gurun Sahara 8.600.000 km<sup>2</sup>. Gurun Sahara juga dikenal sebagai gurun pasir terluas di dunia. Di bagian selatan Benua Afrika membentang Gurun Kalahari yang luasnya 930.000 km<sup>2</sup>.

### 3. Negara-Negara di Benua Afrika

Negara-negara di Benua Afrika banyak jumlahnya. Namun, negara yang akan dijelaskan hanya Mesir dan Afrika Selatan.

#### a. Mesir

Mesir terletak di tepi Laut Tengah dan Laut Merah. Ibu kota Mesir adalah Kairo. Luas wilayah negara ini mencapai 997.739 km<sup>2</sup>. Sungai Nil berperan penting dalam kehidupan masyarakat Mesir. Para petani memanfaatkan lahan di sepanjang Sungai Nil untuk bercocok tanam. Bendungan Aswan adalah bendungan terbesar di Mesir yang dimanfaatkan untuk irigasi, pelayaran, dan pembangkit listrik.

Piramida dan Spinx merupakan dua bangunan yang menjadi objek wisata terkenal di Mesir. Di Kota Kairo terdapat Universitas Islam tertua, yaitu Al Azhar University.



Sumber: *Esiklopedia Geografi*, 2007



Sumber: *Esiklopedia Geografi*, 2007

## b. Afrika Selatan

Afrika Selatan terletak di ujung selatan Benua Afrika yang disebut Tanjung Harapan. Luas wilayah negara ini mencapai 1.224. 691 km<sup>2</sup>. Afrika Selatan memiliki tiga ibu kota dengan fungsi yang berbeda, yaitu Pretoria untuk fungsi administratif, Capetown untuk fungsi legislatif, dan Bloemfontein untuk fungsi yudikatif.

Pada 1800-an, ditemukan tambang emas di Afrika Selatan sehingga banyak penduduk yang berdatangan dari negara-negara lain. Tambang emas terbesar di Afrika Selatan terdapat di Johannesburg. Afrika Selatan memiliki keragaman etnis yang terdiri atas ras kulit hitam, kulit putih, kulit berwarna (Asia). Kota pelabuhan teramai di Afrika Selatan adalah Capetown.

## Gambar 3.11

- a) Piramid adalah kuburan raja-raja Mesir kuno.
- b) Sphinx adalah sebuah patung singa yang berkepala manusia.

# D Benua Eropa

## 1. Wilayah Benua Eropa

Benua Eropa memiliki luas 10.500.000 km<sup>2</sup>. Secara astronomis, Benua Eropa terletak pada 36<sup>0</sup> LU-71<sup>0</sup> LU dan 9<sup>0</sup> BB-66<sup>0</sup> BT. Benua Eropa berbatasan langsung dengan Benua Asia dan hanya dipisahkan Pegunungan Ural dan Danau Kaspia.

 **Peta 3.4**  
Kawasan Benua Eropa



Sumber: Atlas Indonesia dan Dunia, 2006

Adapun batas-batas Benua Eropa, yaitu sebagai berikut.

- Sebelah utara : Laut Barent dan Laut Arktik
- Sebelah timur : Pegunungan Ural dan Danau Kaspia
- Sebelah barat : Samudra Atlantik
- Sebelah selatan : Laut Tengah dan Selat Gibraltor

Penduduk Benua Eropa terdiri atas bangsa Slavia, bangsa Nordik, dan bangsa Alpen. Negara terluas di Eropa, yaitu Rusia dengan luas  $\pm 3.955.818 \text{ km}^2$ . Adapun negara terkecil, yaitu Vatikan dengan luas  $\pm 44 \text{ km}^2$ .

## 2. Keadaan Alam Benua Eropa

### a. Pegunungan dan Gunung

Pegunungan-pegunungan besar di Benua Eropa, yaitu Pegunungan Pyrenea dengan panjang 2000 km. Pegunungan ini membentang di Eropa Selatan. Selain Pegunungan Pyrenea, ada juga Pegunungan



Alpen dengan panjang 1.200 km. Pegunungan ini membentang dari Prancis sampai ke Yugoslavia. Pegunungan Kaukasus Besar membentang di antara Laut Hitam dan Danau Kaspia dengan panjang 1.200 km. Puncak Pegunungan Kaukasus adalah Gunung Elbrus yang merupakan gunung tertinggi di Benua Eropa. Puncak Gunung Elbrus berada di Rusia dengan ketinggian 5.642 m.

### b. Sungai

Beberapa sungai yang ada di Eropa, di antaranya Sungai Volga, Sungai Thames, dan Sungai Rhein. Sungai Volga adalah sungai terpanjang di Eropa (5.550 km).

### c. Semenanjung

Semenanjung adalah daratan yang menjorok ke laut. Berikut beberapa semenanjung yang ada di Eropa.

- Di Semenanjung Skandinavia, ini terdapat tiga negara, yaitu Finlandia, Swedia, dan Norwegia.
- Di Semenanjung Iberia, ini terdapat Negara Spanyol, Portugal, dan Prancis.
- Di Semenanjung Balkan, ini terdapat Negara Yunani, Albania, dan negara-negara Balkan.

### d. Danau

Finlandia dijuluki Negara Seribu Danau karena memiliki banyak danau alam. Ladoga adalah danau terluas di Eropa, luasnya mencapai 17.678 km<sup>2</sup>. Danau ini terdapat di Negara Rusia.

## 3. Negara-Negara di Benua Eropa

Terdapat banyak negara di Benua Eropa, tetapi hanya dua negara yang akan dijelaskan, yaitu Prancis dan Jerman.



Sumber: [www.jewishcontent.com](http://www.jewishcontent.com)

Gambar 3.12

Sungai Thames mengalir di wilayah Inggris Raya.





Sumber: [www.wired2theworld.co](http://www.wired2theworld.co)

**Gambar 3.13**

Menara Eiffel ciri khas Negara Prancis.

### a. Prancis

Prancis memiliki luas wilayah 557.670 km<sup>2</sup>. Negara beribu kota Paris ini memiliki bentuk pemerintahan republik. Kepala negaranya dipimpin seorang presiden. dan kepala pemerintahan dipimpin perdana menteri.

Prancis adalah negara penghasil baja terbesar di dunia. Sektor industri dan perdagangan merupakan sektor perekonomian utama. Menara Eiffel merupakan bangunan yang menjadi ciri khas Prancis.

### b. Jerman

Jerman memiliki luas wilayah 356.910 km<sup>2</sup>. Bentuk pemerintahannya adalah republik. Kepala negara dan kepala pemerintahan dipimpin Kanselir. Sebelumnya, Jerman terpisah menjadi Jerman Barat dan Jerman Timur, kemudian bersatu pada 9 November 1989. Penyatuan Jerman Barat dan Jerman Timur ditandai dengan runtuhnya Tembok Berlin.

## E Benua Australia

### 1. Wilayah Benua Australia

Australia adalah negara yang menempati satu wilayah benua. Luas Negara Australia sekitar 7.682.300 km<sup>2</sup>. Secara astronomis, Australia terletak pada 113<sup>0</sup> BT-153<sup>0</sup> BT dan 10<sup>0</sup>LS-44<sup>0</sup> LS.

Batas wilayah Australia, yaitu sebagai berikut.

- Sebelah utara : Laut Timor dan Laut Arafuru
- Sebelah barat : Samudra Hindia
- Sebelah Selatan : Samudra Hindia
- Sebelah timur : Samudra Pasifik

Australia memiliki tiga iklim, yaitu tropis di wilayah Australia bagian utara, subtropis di wilayah Queensland, dan iklim gurun di wilayah Australia bagian barat. Adapun Pulau Tasmania mengalami hujan sepanjang tahun.



Sumber: *Esiklopedia Geografi*, 2007

**Gambar 3.14**

Salah satu pemandangan di kota Sydney, Australia.



Peta 3.5

Kawasan Negara Australia

Sumber: Atlas Indonesia dan Dunia, 2006

Penduduk asli Australia adalah Suku Aborigin dengan senjata khasnya bumerang. Hasil utama Australia adalah gandum, tebu, wol, dan sapi perah.

## 2. Keadaan Alam Benua Australia

### a. Pegunungan dan Gunung

Pegunungan Pemisah Besar adalah pegunungan terpanjang (3.700 km) di Australia. Pegunungan ini membentang melalui Pantai Queensland, New South Wales sampai Victoria. Pegunungan Snowy dengan panjang 2.100 km membentang di bagian tenggara New South Wales. Puncak Pegunungan Snowy adalah Gunung Kosciusko, terdapat di New South Wales.

### b. Sungai

Sungai terpanjang di Australia adalah Sungai Murray Darling dengan panjang 3.750 km.

### c. Gurun

Gurun pasir di Australia, yaitu Gurun Victoria Besar (Australia Barat-Territorial Utara) dengan luas 647.000 km<sup>2</sup>. Gurun Tanami terdapat di Australia Utara.



Sumber: Esiklopedia Geografi, 2007

Gambar 3.15

Suku Aborigin merupakan penduduk asli Benua Australia.



## Sumber Ilmu

Berikut beberapa tokoh yang berjasa dalam menemukan Benua Australia.

1. William Janed, menemukan Teluk Carpetaria ( Tahun 1606).
2. Abel Tasman, menemukan Selandia Baru (Tahun 1642).
3. Abel Tasman, menemukan Pulau Tasmania (Tahun 1644).
4. James Cook, menemukan Pantai Timur Australia (Tahun 1770).



## Ringkasan

1. Dunia terdiri atas lima benua berpenghuni, yaitu Benua Asia, Benua Amerika, Benua Afrika, Benua Eropa, Benua Australia.
2. Benua Asia merupakan benua paling luas di dunia dengan luas wilayah 44.000.000 km<sup>2</sup>. Letak astronomis Benua Asia adalah 11° LU-77° LU dan 26° BT-169° BT.
3. Benua Amerika merupakan benua terluas kedua di dunia. Luas benua ini 42.053.526 km<sup>2</sup>. Letak astronomis Benua Amerika adalah 83° LU-56° LU dan 17° BB-35° BB.
5. Benua Eropa memiliki luas 10. 500. 000 km<sup>2</sup>. Secara astronomis terletak pada 36° LU-71° LU dan 9° BB-66° BT.
6. Australia adalah negara yang menempati satu wilayah benua. Luas Negara Australia sekitar 7.682.300 km<sup>2</sup>. Secara astronomis, Australia terletak pada 113° BT-153° BT dan 10° LU-44° LU.
7. Benua Afrika dijuluki Benua Hitam, terletak di antara 37° LU-34° LU dan 17° BB – 51° BT. Luas Benua Afrika mencapai 30.177.000 km<sup>2</sup>.

## Ayo, Renungkan

Setelah mempelajari benua-benua di dunia, masih adakah materi yang belum kamu pahami? Jika ada, buatlah beberapa catatan singkat mengenai materi yang belum kamu pahami tersebut. Pelajaran apa yang dapat kamu ambil dari ketampakan alam dunia? Dapatkah kamu mengenal ciri khusus setiap benua yang ada di dunia ini?.

## Evaluasi Bab 3

**Ayo, Kerjakan pada buku tugasmu.**

### **A. Pilihlah jawaban yang paling tepat.**

1. Batas alam antara Benua Asia dan Benua Afrika adalah ....
  - a. Pegunungan Ural
  - b. Laut Merah
  - c. Laut Bering
  - d. Selat Gibraltor
2. Danau terluas di dunia adalah Danau ....
  - a. Kaspia
  - b. Victoria
  - c. Superior
  - d. Saimaa
3. Sungai yang dianggap suci di India adalah ....
  - a. Sunfai Yangtze
  - b. Sungai Gangga
  - c. Sungai Nil
  - d. Sungai Murray
4. Teritorial Australia beribu kota ....
  - a. Canberra
  - b. Hobart
  - c. Sidney
  - d. Adelaide
5. Ibu kota Tasmania adalah ....
  - a. Adelaide
  - b. Brisbane
  - c. Hobart
  - d. Perth
6. Tokoh yang menemukan Teluk Carpentaria ialah ....
  - a. James Cook
  - b. William Janed
  - c. Abel Tasman
  - d. Christoper Columbus
7. Bendungan terbesar yang berada di Mesir adalah ....
  - a. Karibia
  - b. Aswan
  - c. Akosombo
  - d. Lower Usuma
8. Danau terbesar di Benua Afrika adalah Danau ....
  - a. Chad
  - b. Victoria
  - c. Nyasa
  - d. Tanganyilka
9. Benua Afrika dan Benua Eropa dibatasi ....
  - a. Laut Merah
  - b. Laut Hitam
  - c. Laut Tengah
  - d. Laut Artik
10. Negara terluas di dunia, yaitu ....
  - a. Amerika Serikat
  - b. India
  - c. Rusia
  - d. Kanada
11. Negeri Seribu Danau julukan untuk Negara ....
  - a. Norwegia
  - b. Swedia
  - c. Belanda
  - d. Finlandia
12. Negara terkecil di Eropa adalah ....
  - a. Inggris
  - b. Italia
  - c. Jerman
  - d. Vatikan

13. Negara Amerika Serikat beribu kota di ....
  - a. Havana
  - b. Washington DC
  - c. Kingston
  - d. Santo Domingo
14. Terusan Panama merupakan terusan yang menghubungkan ....
  - a. Samudra Arktik dengan Samudra Pasifik
  - b. Samudra Pasifik dengan Samudra Atlantik
  - c. Samudra Arktik dengan Samudra Atlantik
  - d. Samudra Arktik dengan Selat Davis
15. Danau terluas di Amerika adalah ....
  - a. Danau Ontario
  - b. Danau Erie
  - c. Danau Superior
  - d. Danau Titicaca
16. Sungai terpanjang di dunia yang terdapat di Benua Afrika adalah ....
  - a. Sungai Amazon
  - b. Sungai Yangtze
  - c. Sungai Nil
  - d. Sungai Murray
17. Gunungapi tertinggi di dunia terdapat di Benua ....
  - a. Asia
  - b. Amerika
  - c. Afrika
  - d. Eropa
18. Negara yang dilalui Sungai Nil, selain Mesir adalah Negara ....
  - a. Libya dan Aljazair
  - b. Sudan dan Chad
  - c. Aljazair dan Maroko
  - d. Libya dan Tunisia
19. Negara-negara yang terletak di kawasan Asia Timur, antara lain ....
  - a. Jepang, Korea Selatan, dan Cina
  - b. India, Pakistan, dan Sri Lanka
  - c. Indonesia, Malaysia, dan Singapura
  - d. Iran, Irak, dan Arab Saudi
20. Gunung tertinggi di Benua Afrika, yaitu Gunung ....
  - a. Mount Everest
  - b. Kilimajaro
  - c. Kosciusko
  - d. Fujiyama

## B. Isilah titik-titik berikut dengan benar.

1. Pegunungan tertinggi di dunia terdapat di Negara ....
2. Bangunan keajaiban dunia yang terdapat di Negara Prancis adalah ....
3. Penduduk asli Benua Amerika adalah suku ..., ..., dan ....
4. Ibu kota Negara Jepang adalah ....
5. Sungai terpanjang di Benua Asia adalah ....
6. Benua Amerika ditemukan oleh ....
7. Sungai terkenal di Negara Mesir adalah ....
8. Penduduk Benua Eropa merupakan bangsa ..., ..., dan ....
9. Negara yang dijuluki Negara Seribu Danau adalah Negara ....
10. Orang yang berjasa menemukan Benua Australia ialah ..., ..., dan ....

### C. Jawablah pertanyaan berikut.

1. Tuliskan batas-batas wilayah Benua Amerika.
2. Uraikan tiga negara di kawasan Semenanjung Skandinavia.
3. Tuliskan negara-negara yang dilalui Sungai Nil.
4. Apa nama karang yang memanjang di Pantai Timur Queensland?
5. Tuliskan tiga sungai yang bermuara di Teluk Bengala.
6. Terangkan tiga ibu kota Afrika Selatan beserta fungsinya.
7. Tuliskan macam-macam semenanjung (daratan yang menjorok ke laut) di Benua Eropa.
8. Mengapa Jepang dijuluki sebagai negara "Macan Asia"?
9. Uraikan pembagian wilayah Asia Barat beserta ibu kotanya.
10. Tuliskan keajaiban dunia yang berada di setiap benua.



### Ayo, Kerjakan

Untuk mengembangkan wawasan ke bhinekaan dan kontekstual kamu lengkapi tabel berikut.

Benua	Sungai Terpanjang	Gunung Tertinggi	Danau Terluas	Gurun Pasir Terluas	Jumlah Negara	Penduduk Asli
Asia						
Eropa						
Amerika						
Australia						
Afrika						





# Evaluasi Semester 1



**Ayo, Kerjakan pada buku tugasmu.**

## **A. Pilihlah jawaban yang paling tepat.**

- Negara Indonesia saat ini terdiri atas ... provinsi.
  - 31
  - 30
  - 32
  - 33
- Ibu kota Sumatra Utara adalah ...
  - Medan
  - Padang
  - Lampung
  - Banda Aceh
- Batas Provinsi Jawa Tengah sebelah barat adalah ...
  - Jawa Barat
  - Laut Jawa
  - Jawa Timur
  - DI Yogyakarta
- Ibukota Provinsi Kalimantan Barat adalah ...
  - Pontianak
  - Samarinda
  - Makassar
  - Palangkaraya
- Provinsi Bangka Belitung berdiri tahun 2000, sebelumnya termasuk Provinsi ...
  - Riau
  - Jambi
  - Lampung
  - Sumatra Selatan
- Danau terluas di Benua Afrika adalah ...
  - Danau Chad
  - Danau Saimaa
  - Danau Victoria
  - Danau Eyre
- Negara-negara Asia Tenggara berikut yang menggunakan bahasa Melayu adalah ...
  - Indonesia, Malaysia, Vietnam
  - Indonesia, Malaysia, Kamboja
  - Indonesia, Malaysia, Filipina
  - Indonesia, Malaysia, Brunei Darussalam.
- Batas alam yang memisahkan Benua Asia dan Benua Afrika adalah ...
  - Laut Tengah
  - Laut Merah
  - Pegunungan Ural
  - Selat Gibraltar
- Penemu pantai timur Australia pada tahun 1770 ialah ...
  - Willem Janed
  - Abel Tasman
  - James Cook
  - Cristhoper Colombus
- Ibu kota Portugal yang sekaligus merupakan kota tertua di Eropa adalah ...
  - Lisabon
  - Madrid
  - Athena
  - Amsterdam
- Pegunungan di dunia:
  1. Elbrus
  2. Himalaya
  3. Hindustan
  4. Alpen
  5. Rocky
  6. KalimantanDari daftar tersebut, pegunungan yang terdapat di India ditunjukkan nomor ...
  - 6 dan 2
  - 3 dan 4
  - 2 dan 3
  - 4 dan 5
- Titik tertinggi dan terluas di dunia adalah ...
  - Gunung Kosciusko dan Laut Mati
  - Gunung Fuji dan Laut Mati
  - Mount Everest dan Laut Mati
  - Mount Everest dan Laut Kaspia

13. Pelopor berdirinya ASEAN adalah negara-negara ....
  - a. Indonesia, Filipina, Vietnam, dan Brunei Darussalam
  - b. Malaysia, Filipina, Indonesia, Singapura, dan Thailand
  - c. Thailand, Indonesia, Malaysia, Brunei Darussalam, dan Filipina
  - d. Singapura, Thailand, Indonesia, Malaysia, dan Brunei Darussalam
14. Letak Benua Asia diapit oleh dua samudra, yaitu Samudra ....
  - a. Atlantik dan Pasifik
  - b. Hindia dan Pasifik
  - c. Atlantik dan Hindia
  - d. Atlantik dan Arktik
15. Gurun Sahara merupakan gurun terluas di Benua ....
  - a. Asia
  - b. Afrika
  - c. Eropa
  - d. Australia
16. Timor-Timur memisahkan diri dari wilayah Indonesia tahun ....
  - a. 1997
  - b. 1998
  - c. 1999
  - d. 2000
17. Sidang ke-2 PPKI pada 1945 menetapkan pembagian wilayah Indonesia menjadi ... provinsi.
  - a. 6
  - b. 8
  - c. 10
  - d. 12
18. Potensi daerah pariwisata Danau Toba berada di Provinsi ....
  - a. Sumatra Barat
  - b. Sumatra Selatan
  - c. Sumatra Utara
  - d. Lampung
19. Jalur laut Indonesia seluas 200 mil yang diukur dari garis pangkal laut wilayah Indonesia disebut ....
  - a. laut teritorial
  - b. batas landas kontinen
  - c. perairan Nusantara
  - d. zona ekonomi eksklusif
20. Berikut manfaat laut bagi manusia, yaitu ....
  - a. penghasil ikan
  - b. objek wisata
  - c. jalur transportasi
  - d. budidaya ikan
21. Angin yang bertiup bergantian arah setiap setengah tahun sekali disebut angin ....
  - a. topan
  - b. muson
  - c. bahorok
  - d. puting beliung
22. Negara industri termaju di kawasan Asia Tenggara adalah ....
  - a. Malatsia
  - b. Singapura
  - c. Thailand
  - d. Brunei Darussalam
23. Mata uang Myanmar adalah ....
  - a. peso
  - b. bath
  - c. dong
  - d. kyat
24. Palung laut terdalam di Asia Tenggara berada di Negara ....
  - a. Vietnam
  - b. Indonesia
  - c. Filipina
  - d. Thailand
25. Ottawa adalah ibu kota dari Negara ....
  - a. Selandia Baru
  - b. Papua Nugini
  - c. Australia
  - d. Kanada
26. Mata pencarian utama negara-negara Asia Tenggara adalah ....
  - a. pertanian
  - b. perdagangan
  - c. industri
  - d. pertambangan

27. Genangan air yang luas yang dikelilingi oleh daratan disebut ....
- sungai
  - laut
  - danau
  - bendungan
28. Air terjun *Angel Fall* merupakan air terjun tertinggi di dunia, berada di Negara ....
- Brasil
  - Kanada
  - Venezuela
  - Mexico City
29. Sungai terpanjang di dunia adalah Sungai ....
- Amazon
  - Mississippi
  - Nil
  - Yangtze
30. Wilayah Eropa yang paling maju industrinya adalah ....
- Prancis
  - Jerman
  - Inggris
  - Italia

## B. Jawablah pertanyaan berikut.

- Tuliskan batas wilayah Provinsi Sumatra Selatan.
- Apakah yang dimaksud dengan kebudayaan nasional?
- Apa pendapatmu tentang adanya pemekaran provinsi yang terjadi di Indonesia?
- Tuliskan isi dari Deklarasi Djuanda tentang perairan laut Indonesia.
- Tuliskan provinsi-provinsi yang baru berdiri di wilayah Indonesia.
- Bagaimana keadaan iklim wilayah Asia Tenggara?
- Apa nama karang yang memanjang di sepanjang Pantai Queensland dan apa fungsi karang tersebut?
- Terangkan persamaan dan perbedaan yang dimiliki Indonesia dan negara-negara tetangga.
- Uraikan masalah-masalah sosial yang sering terjadi di kawasan Asia Tenggara.
- Terangkan ciri-ciri geografis wilayah Asia Tenggara.
- Tuliskan tiga negara yang dilalui Sungai Nil.
- Tuliskan nama-nama gurun yang terdapat di Benua Afrika.
- Berikan contoh lima negara yang terletak di wilayah Eropa Barat.
- Tuliskan bangunan keajaiban dunia yang berada di Benua Asia dan sebutkan pula negaranya.
- Terangkan danau-danau yang ada di Benua Amerika.

# Bab 4



Sumber: [www.angelinasondakh.blogspot.com](http://www.angelinasondakh.blogspot.com)

## Gejala Alam di Indonesia dan Negara Tetangga

### Apa Manfaat Bagiku?

Dengan mempelajari bab ini, kamu dapat mengetahui macam-macam bencana alam dan cara-cara menanggulangnya.

### Kata Kunci

Gejala alam, klimatologis, geologis, ekstraterrestrial, dan mitigasi.

### Pendahuluan

Beberapa tahun terakhir (2004–2008), di Indonesia sering terjadi bencana alam, seperti gempa bumi, tsunami, dan tanah longsor. Masih ingatkah kamu, tsunami yang terjadi di penghujung Desember 2004? Akibat tsunami tidak hanya dirasakan di Indonesia, tetapi juga sampai ke beberapa negara tetangga, seperti Sri Lanka, Thailand, dan India. Tahukah kamu, mengapa tsunami bisa terjadi? Selain tsunami, adakah bencana lainnya? Kemudian, bagaimana cara-cara menanggulangi bencana tersebut? Pelajarilah materi di Bab 4 ini untuk menemukan jawabannya.

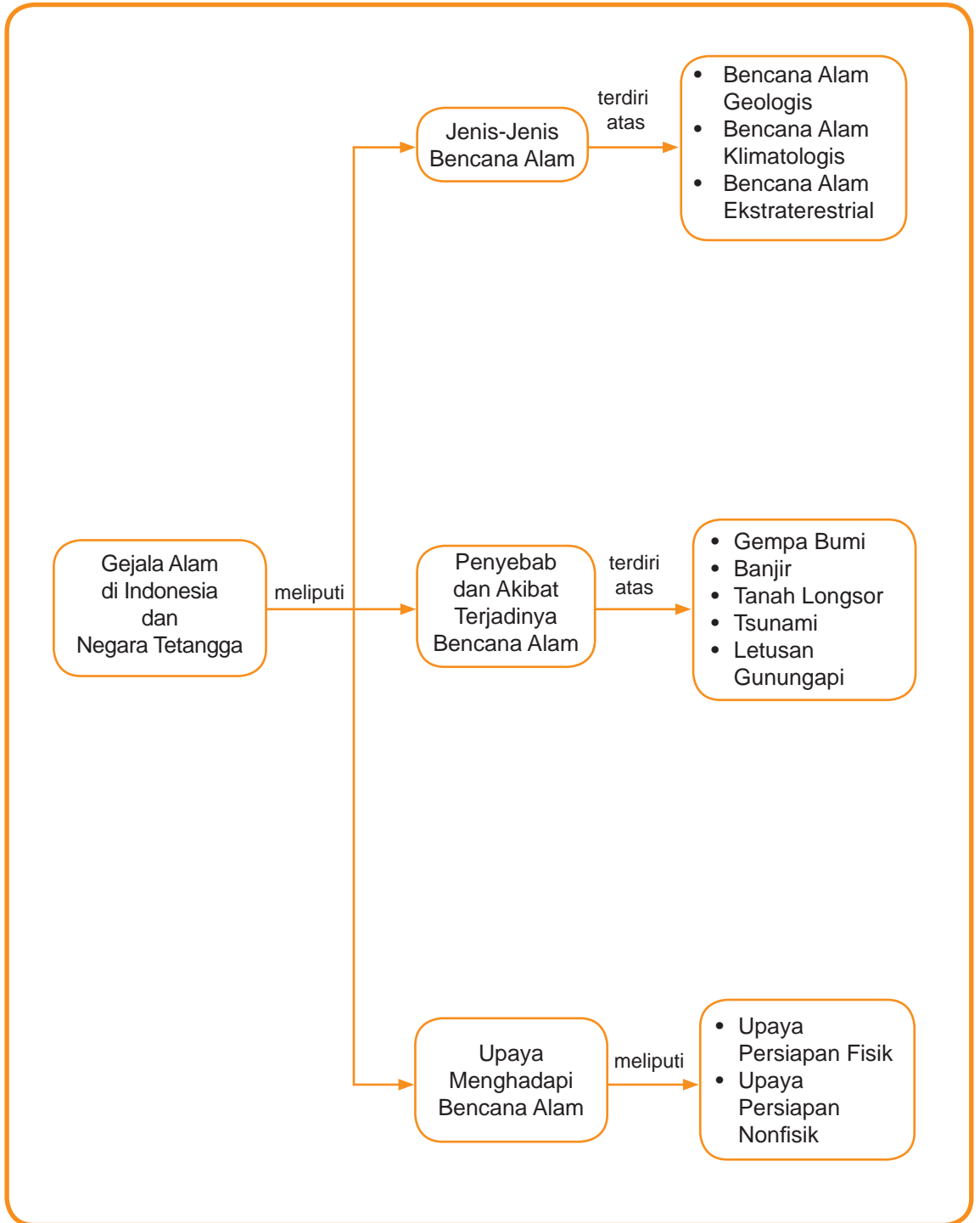
**A** Jenis-Jenis Bencana Alam

**B** Penyebab dan Akibat Bencana Alam

**C** Upaya Menghadapi Bencana Alam



## Peta Konsep





## Jenis-Jenis Bencana Alam

Indonesia merupakan salah satu negara yang sering mengalami bencana alam. Misalnya, gempa bumi, tsunami, atau tanah longsor. Masih ingatkah kamu, peristiwa tsunami yang terjadi di penghujung Desember 2004? Bagaimana dengan gempa bumi di Yogyakarta pada Mei 2006? Ribuan jiwa menjadi korban. Kerugian materi yang diderita tidak terhitung banyaknya akibat bencana tersebut.



Sumber: [www.angelinasondakh.blogspot.com](http://www.angelinasondakh.blogspot.com)

Sebagian besar bencana alam tidak dapat diduga terjadinya. Oleh karena itu, masyarakat harus selalu waspada terhadap bencana alam. Hal ini dilakukan untuk mengurangi risiko akibat bencana alam tersebut.

Tahukah kamu, mengapa di Indonesia sering terjadi bencana gempa bumi? Bencana gempa bumi sering terjadi karena Indonesia ada pada jalur patahan dan zona tumbukan antarlempeng. Patahan adalah retakan panjang dalam batuan, dimana batuan bergerak ke atas, ke bawah, atau ke samping. Adapun zona tumbukan antarlempeng merupakan daerah yang diakibatkan terjadinya tumbukan antarlempeng. Sewaktu-waktu lempeng tersebut bergeser patah sehingga menimbulkan gempa bumi. Selain itu, jika terjadi tumbukan antarlempeng dapat mengakibatkan tsunami. Misalnya, tsunami yang terjadi di Aceh pada 2004 lalu. Indonesia juga merupakan Jalur Cincin Api

Gambar 4.1

Gempa bumi dapat terjadi akibat bergesernya lempeng bumi atau tumbukan antarlempeng.



### Let's Learn

Bencana Alam =  
*Natural Disaster*

Gempa Bumi =  
*Earthquake*

Gunungapi = *Volcano*





## Ayo, Jawab

Mengapa daerah di sekitar letusan gunungapi merupakan daerah yang subur? Manfaat apa yang diperoleh bagi penduduk yang tinggal di sekitarnya. Tulis jawabanmu dalam buku tugas, kemudian kumpulkan kepada gurumu untuk dinilai.



Sumber: *faperta91unsrat.files*

### Gambar 4.2

Letusan gunungapi merupakan salah satu penyebab bencana alam.

Pasifik (*The Pasific Ring of Fire*). Jalur ini merupakan rangkaian gunungapi aktif di dunia. Indonesia memiliki gunungapi kurang lebih 240 gunungapi dan sekitar 70 buah masih aktif.

Bencana alam tidak hanya terjadi di Indonesia, tetapi juga di negara-negara lain. Gejala alam yang terjadi akan berpengaruh terhadap kehidupan masyarakat. Oleh karena itu, untuk menanggulangi setiap peristiwa alam yang terjadi diperlukan pengetahuan yang luas.

Bencana alam adalah bencana yang disebabkan gejala alam. Adapun gejala alam merupakan hal yang biasa terjadi di muka bumi.

Berdasarkan jenis penyebabnya, bencana alam dibedakan menjadi tiga jenis, yaitu bencana alam geologis, klimatologis, dan bencana alam ekstraterrestrial.

1. Bencana alam geologis adalah bencana alam yang disebabkan faktor-faktor di dalam bumi. Misalnya, gempa bumi, tsunami (gelombang pasang laut yang diakibatkan gempa bumi di dasar laut), letusan gunungapi, dan tanah longsor.
2. Bencana alam klimatologis adalah bencana alam yang disebabkan faktor cuaca. Misalnya, banjir, banjir bandang, badai, angin puting beliung, dan kekeringan.
3. Bencana alam ekstraterrestrial adalah bencana alam yang disebabkan hal-hal di luar bumi. Misalnya, hantaman (*impact*) meteor atau benda dari luar angkasa lainnya.

Bencana alam yang ditimbulkan oleh cuaca (klimatologis) dapat diperkirakan terjadinya. Selain itu, arah dan lokasi (daerah) yang akan dilanda juga dapat diperkirakan. Adapun bencana alam geologis, terutama gempa bumi sampai sekarang masih sulit untuk diperkirakan. Oleh karena itu, gejala alam ini seolah-olah selalu datang mendadak dan tidak teratur. Namun, pada dasarnya peristiwa alam memiliki ciri umum, yaitu gejala awal, gejala utama, dan gejala akhir. Dengan demikian, jika diketahui secara tepat gejala awal suatu bencana alam, kemungkinan besar akibat yang ditimbulkannya dapat dikurangi.



## Kegiatan Individu

Untuk melatih kemampuan berpikirmu jawablah pertanyaan berikut, kemudian tulis jawabanmu pada buku tugas.


1. Apakah semua gempa dapat menyebabkan tsunami?
  2. Apa yang akan terjadi ketika gelombang tsunami telah sampai di pantai atau daratan?
  3. Apa yang dimaksud dengan gempa tektonik dan gempa vulkanik?
- Kamu dapat membaca buku, membuka situs internet, atau bertanya untuk menjawab pertanyaan-pertanyaan tersebut. Selanjutnya, kumpulkan hasilnya kepada gurumu untuk dinilai.

## B

## Penyebab dan Akibat Bencana Alam

### 1. Gempa Bumi

Terjadinya gempa bumi disebabkan pergerakan atau pergeseran permukaan bumi secara tiba-tiba. Kekuatan gempa dapat diukur dengan menggunakan alat seismograf. Besarnya kekuatan gempa diukur dengan satuan skala Richter. Angka yang tercatat dalam alat ini berkisar dari 0–9. Semakin besar skala Richter, semakin besar kekuatan gempa.



Sumber: [www.upload.wikimedia.org](http://www.upload.wikimedia.org)

Gambar 4.3

Seismograf merupakan alat pengukur besarnya kekuatan gempa.

Gempa bumi yang disebabkan pergeseran antar-lempeng bumi disebut gempa tektonik. Adapun gempa yang disebabkan aktivitas gunungapi disebut gempa vulkanik. Beberapa gempa bumi yang terjadi di Indonesia, yaitu sebagai berikut.

**Tabel 4.1**  
**Peristiwa Gempa Bumi di Indonesia**

Tanggal	Daerah	Keterangan
1968	Sulawesi	Korban jiwa lebih kurang 200 orang.
1976	Bali	Korban jiwa 133 orang.
1992	Flores	Korban jiwa lebih dari 203 orang.
1994	Liwa (Lampung)	Korban jiwa 203 orang.
1995	Kerinci (Jambi)	Korban jiwa 45 orang.
26 Desember 2004	Aceh	Gempa bumi yang disertai tsunami dan merupakan gempa yang paling kuat dalam seabad terakhir korbannya sekitar 200 ribu orang.
27 Mei 2006	Yogyakarta	Gempa bumi tektonik yang merenggut lebih dari 6500 jiwa.

## Tokoh Kita

### Penemu Skala Richter

Charles F. Richter ialah penemu skala Richter. Ia seorang ilmuwan lulusan Institut Teknologi California (Caltech). Persamaan matematis untuk mengukur kekuatan gempa tersebut ditemukan pada 1935. Selanjutnya, kelemahan persamaan matematis ini disempurnakan oleh Dr. Beno Gutenberg.



Sumber: <http://id.wikipedia.org>

## 2. Banjir

Banjir merupakan peristiwa terbenamnya daratan yang biasanya kering. Penyebab terjadinya banjir, antara lain hujan besar yang terus-menerus, meluapnya air sungai, dan tidak mempunya tanah menyerap air. Bencana banjir yang terjadi di Jakarta pada Februari 2007 merupakan contoh banjir besar. Akibatnya, 60% wilayah Jakarta terendam. Banjir ini disebabkan hujan yang terjadi secara terus-menerus dan sistem pelepasan air (drainase) yang buruk.

Bencana banjir dapat juga disebabkan ulah manusia yang tidak menjaga lingkungan. Misalnya, penebangan hutan secara liar, membuang sampah ke aliran sungai, dan membangun perumahan di tempat resapan air. Daerah di Indonesia yang sering dilanda banjir, antara lain Jakarta, Kabupaten Bandung (Jawa Barat), Purworejo (Jawa Tengah).



Sumber: [www.wordpress.com](http://www.wordpress.com)

Gambar 4.4

Banjir dapat juga terjadi akibat ulah manusia yang tidak menjaga lingkungan.

### 3. Tanah Longsor

Tanah longsor terjadi akibat pergerakan tanah, seperti jatuhnya bebatuan atau gumpalan besar tanah. Penyebab utama terjadinya longsor, yaitu gravitasi (gaya tarik) yang memengaruhi suatu lereng yang curam. Faktor-faktor lainnya yang juga dapat menyebabkan terjadinya tanah longsor, yaitu sebagai berikut.

- a. Erosi yang disebabkan sungai-sungai atau gelombang laut.
- b. Lereng dari bebatuan dan tanah yang runtuh akibat hujan lebat.
- c. Gempa bumi yang menyebabkan tekanan sehingga mengakibatkan longsornya lereng.
- d. Gunungapi yang membawa material hasil erupsi (letusan).
- e. Getaran dari mesin, lalu lintas, penggunaan bahan-bahan peledak, dan petir.
- f. Berat yang terlalu berlebihan, seperti berkumpulnya hujan atau salju.



Sumber: [www.bakosurtanal.go.id](http://www.bakosurtanal.go.id)

Gambar 4.5

Permukiman penduduk yang berada di lereng gunung berisiko dilanda bencana tanah longsor.



Sumber: [www.safecom.org.au](http://www.safecom.org.au)

#### Gambar 4.6

Tsunami diawali dengan terjadinya gempa, surutnya air laut, dan kembalinya gelombang air laut ke daratan.

## 4. Tsunami

Tsunami adalah gelombang laut yang terjadi akibat gempa yang berpusat di dasar laut. Tsunami diawali dengan terjadinya gempa di laut. Setelah gempa, air laut menjadi surut, kemudian air laut kembali ke arah daratan dengan gelombang yang sangat besar. Inilah proses terjadinya tsunami. Namun, tidak setiap gempa bumi di laut menimbulkan tsunami.

Tsunami juga dapat terjadi akibat letusan gunungapi yang berada di dasar laut. Misalnya, letusan Gunung Krakatau pada 1883. Selain itu, tsunami juga dapat ditimbulkan oleh hantaman (*impact*) benda langit yang jatuh ke laut.

Beberapa peristiwa tsunami yang pernah terjadi di Indonesia, yaitu sebagai berikut.

**Tabel 4.2**  
**Peristiwa Tsunami di Indonesia**

Tanggal	Daerah	Skala Richter	Keterangan
1992	Flores	7.5	Gempa bumi disertai tsunami yang merenggut lebih dari 203 orang.
1994	Banyuwangi	-	Tsunami yang merenggut korban lebih kurang 215 orang.
1996	Biak (Papua)	8.2	Tsunami yang merenggut korban meninggal sekitar 100 orang.
26 Desember 2004	Aceh	8.9	Gempa disertai Tsunami yang merupakan gempa bumi paling kuat dalam seabad terakhir, korbannya sekitar 200 ribu orang.

Sumber: [www.wikipedia.org](http://www.wikipedia.org)

## 5. Letusan Gunungapi

Letusan gunungapi terjadi pada gunung yang masih aktif. Letusan gunungapi dapat mengancam banyak korban jiwa dan harta benda. Namun, muntahan gunungapi yang meletus dapat menyuburkan daerah di sekitarnya.

Bahaya yang terjadi ketika terjadi letusan gunungapi, di antaranya awan panas, hujan abu, lava, gas beracun, dan tsunami. Beberapa peristiwa gunung meletus yang terjadi di Indonesia, yaitu sebagai berikut.

**Tabel 4.3**  
**Peristiwa Gunung Meletus di Indonesia**

Tahun	Gunung	Daerah	Keterangan
1883	Krakatau	Selat Sunda	Letusan gunungapi ini sangat besar, korban jiwa yang meninggal lebih kurang 36.417 orang.
1982	Galunggung	Jawa Barat	Letusan gunungapi berlangsung selama hampir setahun.
10 Februari 1990	Kelud	Jawa Timur	Akibat letusan gunung ini 28 orang meninggal dunia.
1994	Merapi	Jawa Tengah	Korban jiwa yang meninggal lebih kurang 57 orang.

Sumber: [www.wikipedia.org](http://www.wikipedia.org)

Menurut Direktorat Vulkanologi dan Mitigasi Bencana Geologi (DVMBG) Departemen Energi dan Sumber Daya Mineral, di Indonesia terdapat 28 wilayah rawan gempa dan tsunami. Daerah-daerah tersebut, di antaranya Nanggroe Aceh Darussalam, Sumatra Utara, Sumatra Barat, Bengkulu, Lampung, Banten, Jawa Tengah, Daerah Istimewa Yogyakarta bagian selatan, Jawa Timur bagian selatan, Bali, Nusa Tenggara Barat, Nusa Tenggara Timur, Sulawesi Utara, Sulawesi Selatan, Sulawesi Tengah, Maluku Utara, Maluku Selatan, Biak, di Papua, serta Kalimantan Timur.

**Tabel 4.4**  
**Jenis Bencana Alam, Daerah Rawan, dan Gejala Awalnya**

Jenis Bencana Alam	Daerah Rawan	Gejala
Banjir	Dataran banjir, bantaran sungai, dan lekukan-lekukan di daratan.	Curahhujantinggi,hujanberlangsung lama, dan naiknya muka air sungai di stasiun pengamatan.
Banjir Bandang	Daerah bantaran sungai pada peralihan dataran ke pegunungan.	Daerah pegunungan gundul, batuan mudah longsor, curah hujan tinggi, hujan berlangsung lama, dan terjadi pembendungan di hulu sungai.
Longsor atau Gerakan Tanah	Daerah dengan batuan lepas, batu lempung, tanah tebal, dan lereng curam.	Curah hujan tinggi, hujan berlangsung lama, munculnya retak-retak pada tanah di lereng atas, dan tiang listrik, pohon, serta benteng menjadi miring.



Amblesan Tahan	Daerah <i>plateau karst</i> (dataran tinggi berbatu gamping) dan daerah dengan penyerapan air tanah yang tinggi.	Timbulnya lubang atau retakan pada permukaan tanah, dinding, tembok, dan lantai retak-retak.
Letusan Gunungapi	Lereng dan kaki gunungapi, terutama yang menghadap ke arah kawah sumbing ( <i>breached crater</i> ).	Naiknya suhu air kawah, perubahan suhu air dan gas di kawah, guguran kubah lava, adanya lindu atau lini, dan peningkatan getaran pada alat seismograf.

Sumber: [www.wikipedia.org](http://www.wikipedia.org)



## Kegiatan Bersama

Baca dan perhatikan petikan berita berikut.

### Lumpur Panas (*Hotmud*) Sidoarjo

Peristiwa menyemburnya lumpur panas di lokasi PT Lapindo Brantas di, Kabupaten Sidoarjo, Jawa Timur. Semburan lumpur ini terjadi sejak 29 Mei 2006. Semburan lumpur panas selama beberapa bulan ini menyebabkan tergenangnya kawasan pemukiman. Lumpur panas ini juga telah menenggelamkan lahan pertanian dan industri di tiga kecamatan di sekitarnya. Selain itu, akibat peristiwa ini telah memengaruhi aktivitas perekonomian di Jawa Timur.



Sumber: [www.wordpress.com](http://www.wordpress.com)

Lumpur panas menggenangi 12 desa di tiga kecamatan. Saat ini, bencana lumpur panas masih belum dapat dihentikan. Pemerintah telah melakukan berbagai upaya, tetapi belum terlihat hasilnya.

Untuk mengembangkan wawasan kontekstual kamu, diskusikan dengan kelompokmu mengenai hal-hal berikut.

1. Apa yang akan dilakukan jika tempat tinggalmu tergenang lumpur panas?
2. Usaha apa yang dilakukan untuk menanggulangi bencana tersebut?

Presentasikan hasil diskusi kelompokmu di kelas secara bergantian dengan kelompok lain. Kemudian, kumpulkan hasilnya kepada gurumu untuk dinilai.



## Upaya Menghadapi Bencana Alam

Upaya yang dilakukan dalam menghadapi bencana alam dikenal dengan istilah mitigasi. Mitigasi adalah usaha-usaha yang bersifat persiapan fisik dan nonfisik dalam menghadapi bencana alam. Persiapan fisik, berkaitan dengan penataan ruang kawasan bencana dan kode bangunan. Adapun persiapan nonfisik, berkaitan dengan pendidikan (penyuluhan) tentang bencana alam, mengenali gejala-gejala bencana alam, dan penanganan ketika dan setelah bencana terjadi.

Bencana alam dapat dikelompokkan menjadi beberapa bagian, yaitu:

1. Gempa Bumi
2. Banjir
3. Letusan gunungapi
4. Angin topan
5. Kebakaran hutan
6. Longsor.

Usaha yang dapat dilakukan untuk mengantisipasi bencana alam, yaitu sebagai berikut.

1. Pembangunan tembok atau tanggul di sepanjang sungai dan pantai.
2. Pembangunan waduk dan daerah resapan air.
3. Tidak membuang sampah dan limbah ke sungai.
4. Menghentikan penggundulan hutan di daerah resapan air.
5. Membuat terasering di daerah-daerah berlereng curam dan penghijauan.
6. Tidak mendirikan bangunan di daerah rawan longsor dan membuat tanggul penahan.
7. Tidak melakukan pembukaan lahan dengan cara membakar hutan dan melakukan penanaman kembali di daerah yang telah terbakar.
8. Kampanye pengendalian pembakaran lahan dan hutan.

Bencana alam klimatologis lebih mudah diduga kapan datangnya dan di daerah mana akan terjadi. Adapun gejala alam geologis datangnya tiba-tiba dan



Sumber: [www.balibutler.com](http://www.balibutler.com)

Gambar 4.7

Sawah yang terletak di lereng harus dibuat terasering agar tidak mudah longsor.



tidak terduga. Beberapa media yang berguna untuk menunjukkan gejala alam, yaitu sebagai berikut.

1. Foto udara, yaitu gambar permukaan bumi yang diambil dari atas. Foto udara diambil menggunakan pesawat udara atau balon udara. Foto udara dimanfaatkan untuk membuat peta kebakaran hutan dan pemetaan hutan.




 **Gambar 4.8**  
Contoh gambar hasil foto udara.

Sumber: [www.indosatm2.com](http://www.indosatm2.com)

2. Citra satelit, yaitu gambar atau foto permukaan bumi yang diambil menggunakan satelit. Citra satelit dapat dimanfaatkan untuk meramalkan cuaca.



 **Gambar 4.9**  
Contoh gambar hasil citra satelit.

Sumber: [www.sourceforge.net](http://www.sourceforge.net)

3. *Global Positioning System* (GPS), yaitu teknologi mutakhir yang bisa digunakan untuk menentukan posisi astronomis suatu wilayah.

Bencana alam datang tidak pernah terduga. Oleh karena itu, masyarakat harus selalu waspada. Bencana alam selalu menimbulkan korban jiwa dan harta. Banyak anak kehilangan orangtua, keluarga, dan harta benda. Mereka yang tidak tertimpa bencana harus memiliki kepedulian untuk membantu korban bencana. Banyak cara yang dapat dilakukan untuk membantu korban bencana alam. Misalnya, dengan memberikan bantuan berupa uang, pakaian layak pakai, makanan, dan obat-obatan.



## Ringkasan

1. Bencana alam adalah bencana yang disebabkan oleh gejala alam.
2. Gejala alam merupakan hal yang biasa terjadi di muka bumi dan ketika gejala alam ini merugikan manusia disebut bencana alam.
3. Berdasarkan jenis penyebabnya, bencana alam terdiri atas bencana alam geologis, bencana alam klimatologis, dan bencana alam ekstraterrestrial.
4. Bencana alam yang sering terjadi di Indonesia, antara lain gempa bumi, banjir, tanah longsor, dan tsunami.
5. Gempa bumi dapat dibedakan menjadi gempa bumi tektonik dan gempa bumi vulkanik.
  - a. Gempa bumi tektonik disebabkan bergesernya lempeng bumi.
  - b. Gempa bumi vulkanik disebabkan gunung meletus.
6. Tsunami adalah gelombang laut yang terjadi akibat gempa yang berpusat di laut. Tsunami diawali dengan terjadinya gempa di laut, air laut surut, kemudian air laut kembali ke arah daratan dengan gelombang yang sangat besar.
7. Beberapa media yang digunakan untuk menunjukkan gejala alam, antara lain foto udara, citra satelit, dan *global positioning system* (GPS).

## Ayo, Renungkan

Setelah mempelajari gejala alam di Indonesia dan negara tetangga, masih adakah materi yang belum kamu pahami? Jika ada, buatlah beberapa catatan singkat mengenai materi yang belum kamu pahami tersebut. Pelajaran apa yang dapat kamu ambil berkaitan dengan peristiwa yang terjadi? Sudahkah kamu menyadari betapa pentingnya menjaga keseimbangan alam agar tidak terjadi bencana? Perilaku apa yang telah kamu lakukan untuk menjaga keseimbangan alam tersebut.

## Evaluasi Bab 4

**Ayo, Kerjakan pada buku tugasmu.**

### **A. Pilihlah jawaban yang paling tepat.**

1. Tsunami di Nanggroe Aceh Darussalam terjadi pada ....
  - a. 22 Agustus 1995
  - b. 22 Maret 1987
  - c. 26 Desember 2006
  - d. 26 Desember 2004
2. Gempa yang disebabkan pergeseran lempeng bumi disebut gempa ....
  - a. tektonik
  - b. vulkanik
  - c. terban
  - d. tekto vulkanik
3. Berikut bukan penyebab terjadinya banjir, yaitu ....
  - a. penanaman hutan yang gundul
  - b. membuang sampah di aliran sungai
  - c. membangun perumahan di daerah resapan air
  - d. menebang hutan
4. Bencana alam yang disebabkan oleh faktor cuaca, seperti hujan disebut bencana alam ....
  - a. geologis
  - b. klimatologis
  - c. ekstrateresterial
  - d. vulkanologi
5. Berikut merupakan bencana alam klimatologi, yaitu ....
  - a. tsunami, badai, dan kekeringan
  - b. gempa bumi, tanah longsor, dan letusan gunungapi
  - c. banjir bandang, badai, dan hantaman meteor
  - d. banjir, kekeringan, dan badai
6. Gempa bumi termasuk jenis bencana alam ....
  - a. geologis
  - b. klimatologis
  - c. ekstrateresterial
  - d. vulkanologi
7. Gelombang laut yang terjadi akibat gempa bumi yang berpusat di laut disebut ....
  - a. gempa bumi
  - b. banjir
  - c. tsunami
  - d. gunung meletus
8. Tsunami berasal dari bahasa ....
  - a. Inggris
  - b. Jepang
  - c. Indonesia
  - d. Rusia
9. Membuang sampah dan limbah ke sungai dapat menyebabkan terjadinya bencana ....
  - a. letusan gunungapi
  - b. tanah longsor
  - c. badai
  - d. banjir
10. Berikut bukan penyebab terjadinya tanah longsor, yaitu ....
  - a. getaran mesin
  - b. penggunaan bahan peledak
  - c. erosi
  - d. membangun perumahan di daerah resapan air
11. Berikut merupakan daerah yang sering dilanda banjir, yaitu ....

- a. Papua
  - b. Jakarta
  - c. Magelang
  - d. Bali
12. Gunung Krakatau meletus pada ....
    - a. 2004
    - b. 2006
    - c. 1883
    - d. 1983
  13. Kekuatan gempa diukur dengan menggunakan satuan ....
    - a. centimeter
    - b. kilogram
    - c. skala Richter
    - d. meter
  14. Lumpur panas disebut juga ....
    - a. *hotmud*
    - b. *hotdog*
    - c. *hot plate*
    - d. *breache and crater*
  15. Berikut bukan ciri-ciri gejala awal terjadinya bencana banjir, yaitu ....
    - a. curah hujan tinggi
    - b. air laut surut
    - c. permukaan air di sungai naik
    - d. hujan berlangsung lama
  16. Gempa bumi yang terjadi di Yogyakarta pada 27 Mei 2006, termasuk jenis gempa ....
    - a. tektonik
    - b. vulkanik
    - c. terban
    - d. tekto vulkanik
  17. Jalur rangkaian gunungapi aktif di dunia disebut ....
    - a. *the atlantik ring of fire*
    - b. *the lord of the ring*
    - c. *the ring of fire*
    - d. *the pasicif ring of fire*
  18. Gempa bumi di Flores, Nusa Tenggara Timur terjadi pada ....
    - a. 1990
    - b. 1991
    - c. 1992
    - d. 1993
  19. Berikut bukan bahaya yang terjadi ketika gunung meletus, yaitu ....
    - a. awan panas
    - b. lava
    - c. gas racun
    - d. hujan asam
  20. Alat yang dapat digunakan untuk meramal cuaca adalah ....
    - a. GPS
    - b. foto udara
    - c. seismograf
    - d. citra satelit

## B. Isilah titik-titik berikut dengan benar.

1. Gelombang ombak besar adalah sebutan untuk bencana alam ....
2. Bencana alam yang disebabkan faktor-faktor di dalam bumi disebut bencana alam ....
3. Terasering merupakan salah satu cara untuk menghindari bencana ....
4. *Global Positioning system* (GPS) adalah teknologi canggih yang dapat digunakan untuk ....
5. Gunung Krakatau terletak di ....



6. Indonesia terletak di antara lempengan ....., ....., dan ....
7. Indonesia kurang lebih memiliki ... buah gunungapi.
8. Gejala alam yang terjadi dapat memengaruhi ... yang tinggal di daerah yang dilanda bencana.
9. Contoh bencana alam ekstraterrestrial, yaitu ....
10. Alat yang digunakan untuk mengukur kekuatan gempa, yaitu ....

### C. Jawablah pertanyaan berikut.

1. Tuliskan tiga jenis bencana alam dilihat berdasarkan penyebabnya.
2. Terangkan macam-macam gempa.
3. Uraikan media yang dapat digunakan untuk menunjukkan gejala alam.
4. Mengapa di Indonesia sering terjadi bencana alam?
5. Bagaimana proses terjadinya tsunami?
6. Mengapa masyarakat harus mengenal peristiwa atau gejala alam yang terjadi?
7. Tuliskan faktor-faktor penyebab terjadinya tanah longsor.
8. Tuliskan lima wilayah yang dinyatakan rawan gempa.
9. Uraikan lima usaha yang dilakukan untuk menghadapi bencana alam.
10. Bantuan apa yang akan kamu berikan untuk korban banjir?



## Ayo, Kerjakan

Untuk mengembangkan kemandirian kamu dalam belajar, buatlah sebuah poster. Poster tersebut berisi imbauan-imbauan untuk mencegah terjadinya bencana alam. Kamu dapat memilih salah satu tema berikut.

1. Pencegahan Banjir
2. Pencegahan Tanah Longsor
3. Penanggulangan Bencana Letusan Gunungapi
4. Reboisasi Hutan Gundul
5. Pencegahan Kebakaran Hutan

Lengkapi poster tersebut dengan gambar-gambar yang menarik. Mintalah bantuan gurumu jika kamu mengalami kesulitan. Selanjutnya, kumpulkan poster tersebut kepada gurumu untuk dinilai. Gurumu akan memilih tiga poster yang akan ditempel di kelas.

# Bab 5



Sumber: [www.pubs.nrc-cnrc.gc.ca](http://www.pubs.nrc-cnrc.gc.ca)

## Peran Indonesia di Era Globalisasi

### Apa Manfaat Bagiku?

Dengan mempelajari bab ini, kamu dapat menjelaskan pengetahuan globalisasi, mengidentifikasi dampak positif dan negatif globalisasi, serta menguraikan peran Indonesia di era globalisasi.

### Kata Kunci

Globalisasi, perubahan perilaku, dampak globalisasi, informasi, dan teknologi.

### Pendahuluan

Di Bab 4 telah dijelaskan berbagai bentuk gejala dan peristiwa alam. Peristiwa di negara lain dapat diketahui dengan mudah karena perkembangan teknologi komunikasi yang canggih. Di televisi, kamu dapat menyaksikan perang yang terjadi di Irak, bencana gempa yang terjadi di Peru, atau pertandingan sepakbola dari Inggris. Perkembangan teknologi tersebut akan memengaruhi segala aspek kehidupan. Apakah pengaruh tersebut bersifat positif atau negatif?

**A** Pengertian Globalisasi

**B** Dampak Globalisasi

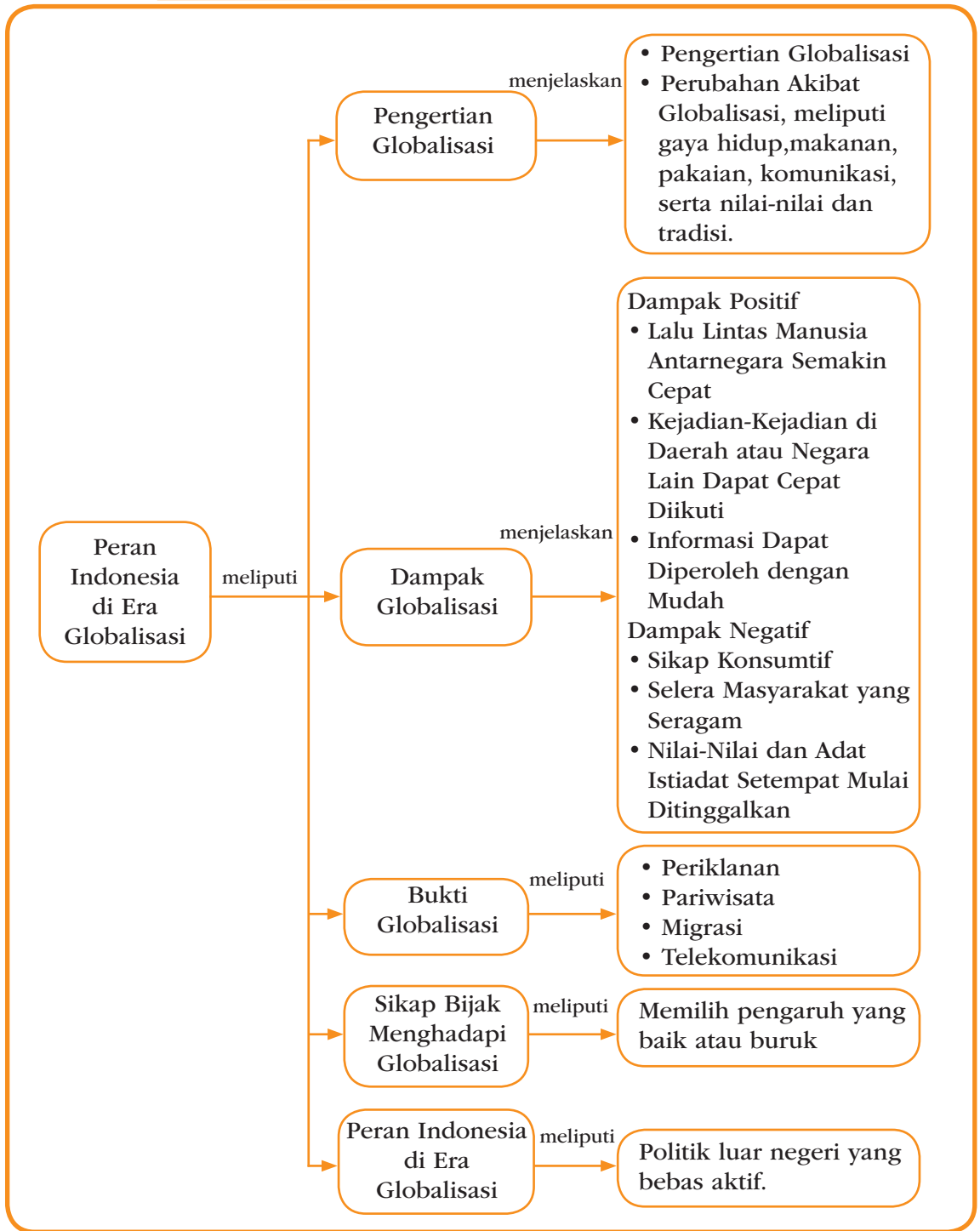
**C** Bukti Globalisasi

**D** Sikap Menghadapi Globalisasi

**E** Indonesia di Era Globalisasi



## Peta Konsep





## A Pengertian Globalisasi

Pernahkah kamu mendengar kata global, globe, atau globalisasi? Kata-kata tersebut saling berkaitan. Tentunya, ketika mendengar kata globe kamu pasti langsung membayangkan sebuah bola bulat seperti tiruan bumi. Kamu benar, globe adalah tiruan bumi. Bumi ini luas sehingga dibuat tiruan bumi dalam bentuk kecil. Tujuannya adalah agar bentuk bumi yang sebenarnya dapat diketahui. Selain itu, tempat-tempat di bumi dapat dipelajari dengan mudah.

Globalisasi berasal dari kata global yang berarti mendunia (universal). Oleh karena itu, globalisasi dapat diartikan sebagai proses menduniannya segala aspek kehidupan manusia. Misalnya, cara berpikir, tingkah laku, informasi, teknologi, gaya hidup, dan aspek lainnya. Proses globalisasi tidak dapat dipisahkan dari perkembangan teknologi, baik teknologi komunikasi maupun teknologi transportasi.

Dengan berkembangnya teknologi komunikasi, dunia yang begitu luas tidak menjadi penghalang untuk saling berhubungan. Misalnya, kamu dapat mengetahui keadaan temanmu yang berada di Jepang dengan cepat melalui teknologi internet. Selain itu, kamu juga dapat dengan mudah menemukan makanan khas dari Negara Jepang, Italia, atau India di restoran-restoran Indonesia.

Globalisasi terjadi seiring dengan semakin majunya teknologi, khususnya teknologi komunikasi, informasi, dan transportasi. Globalisasi yang terjadi membawa pengaruh besar bagi kehidupan masyarakat. Globalisasi dapat memberikan dampak positif dan negatif terhadap kehidupan masyarakat.

Perubahan perilaku masyarakat akibat globalisasi, di antaranya terjadi pada gaya hidup, makanan, pakaian, komunikasi, serta nilai-nilai dan tradisi.



### Let's Learn

Globalisasi =  
*Globalisation*

Informasi = *Information*

Komunikasi =  
*Communication*

Teknologi = *Technology*

Transportasi =  
*Transportation*



Sumber: [www.littleladyfoods.com](http://www.littleladyfoods.com)

### Gambar 5.1

Pizza merupakan makanan khas dari Italia yang sudah banyak dijual di Indonesia. Hal ini sebagai salah satu bukti globalisasi.



Sumber: [www.stbalia.net](http://www.stbalia.net)

### Gambar 5.2

Dengan adanya globalisasi, para orangtua berusaha menyekolahkan anak-anaknya sampai ke perguruan tinggi.

## 1. Gaya Hidup

Globalisasi memengaruhi gaya hidup masyarakat. Misalnya, masyarakat semakin menghargai pendidikan. Dampaknya, para orangtua berusaha menyekolahkan anaknya setinggi mungkin. Contoh lain, Masyarakat semakin menghargai waktu sehingga berusaha untuk tidak menyalahgunakan waktu. Masyarakat berusaha memanfaatkan waktu untuk hal yang berguna. Selain itu, masyarakat juga dituntut bersikap disiplin dan bekerja secara efektif dan efisien.

Namun, banyak masyarakat yang meniru gaya hidup bangsa lain yang tidak sesuai dengan kepribadian bangsa Indonesia. Misalnya, cara berpakaian yang kurang sopan, cara bicara yang kurang baik, bahkan perilaku anarkis (kekerasan). Oleh karena itu, diperlukan sikap bijak dalam memilih tindakan yang patut ditiru dan tidak patut ditiru.

## 2. Makanan

Pernahkah kamu makan spageti yang merupakan makanan khas Italia? Saat ini, tidak sulit untuk mencicipi masakan khas negara lain. Di Indonesia, banyak rumah makan yang menawarkan masakan khas dari berbagai negara. Bahkan, kamu juga dapat membuatnya sendiri. Aneka resep masakan tersebut dengan mudah ditemukan di majalah, surat kabar, atau internet.



Sumber: [www.victoriapacking.com](http://www.victoriapacking.com)

### Gambar 5.3

Spageti merupakan makanan khas Italia yang banyak ditawarkan di restoran-restoran Indonesia.

## 3. Pakaian

Coba amati pakaian orang-orang di sekitarmu. Masih adakah wanita yang memakai kebaya ke pasar atau ibu guru yang mengajar memakai kebaya?

Kebaya merupakan salah satu pakaian tradisional Indonesia. Saat ini, kebaya hanya dipakai pada acara tertentu saja. Misalnya, saat menghadiri resepsi pernikahan atau acara khusus tertentu.

Sekarang, perhatikan kembali pakaian yang digunakan teman-temanmu. Apakah model pakaian yang mereka pakai sama? Dengan adanya globalisasi,



gaya berpakaian masyarakat menjadi beragam. Blazer, celana jeans, atau *t-shirt* merupakan pakaian yang sering dipakai orang sehari-hari. Mungkin kamu juga memakainya. Dengan adanya globalisasi, pilihan mode dan merek pakaian menjadi beragam, baik pakaian buatan dalam negeri maupun luar negeri.

#### 4. Komunikasi

Perkembangan teknologi komunikasi menyebabkan jarak dan waktu tidak menjadi masalah untuk saat ini. Kamu dapat mengetahui kabar kakek yang tinggal di desa dengan menggunakan telepon. Kamu juga dapat mengetahui kabar paman yang sedang kuliah di Australia melalui internet.

Berkembangnya teknologi telepon seluler (*handphone*), memudahkan kamu berbicara dengan teman yang ada di Pontianak, baik dengan mengirim *Short Message Service* (SMS), *Multimedia Message Service* (MMS), atau *Third Generation Technology* (3G.). Dengan SMS, kamu dapat mengirim pesan berupa tulisan atau teks. Dengan MMS, kamu dapat mengirim pesan berupa tulisan atau gambar. Adapun dengan teknologi 3G, kamu dapat melihat wajah teman yang berbicara denganmu. Selain itu, kamu juga bisa mengetahui berita atau peristiwa yang terjadi di negara lain dengan cepat melalui televisi, internet, atau siaran radio.



Sumber: [www.ebizzasia.com](http://www.ebizzasia.com)



Sumber: [www.redbankantiques.com](http://www.redbankantiques.com)

Gambar 5.4

Dengan adanya globalisasi, pilihan mode dan merek pakaian menjadi beragam.

Gambar 5.5

Dengan layanan MMS, kamu dapat mengirim pesan berupa tulisan dan gambar kepada temanmu.





Sumber: [www.lpm.umm.ac.id](http://www.lpm.umm.ac.id)

### Gambar 5.6

Gotong royong merupakan tradisi luhur bangsa yang harus tetap dilestarikan.

## 5. Nilai-Nilai dan Tradisi

Tradisi di suatu daerah atau negara tentu berbeda dengan tradisi di daerah atau negara lain. Akan tetapi, di zaman globalisasi sulit membedakan tradisi (adat istiadat) asli suatu daerah dengan tradisi dari daerah lain. Biasa, tradisi yang ada telah bercampur dengan tradisi yang baru.

Tradisi merupakan aturan tidak tertulis, tetapi berlaku dan dihormati oleh anggota masyarakat. Tradisi yang datang dari luar tidak semuanya baik. Oleh karena itu, harus pandai memilih nilai (sesuatu yang dianggap baik di masyarakat) dan membuang tradisi yang buruk. Selain itu, tradisi dan nilai-nilai luhur bangsa, seperti gotong-royong dan musyawarah harus tetap dijaga dan jangan sampai ditinggalkan.



### Kegiatan Individu

Untuk mengembangkan kecakapan personal dan sosialmu, amatilah perubahan-perubahan masyarakat di sekitarmu sebagai akibat globalisasi. Perubahan perilaku yang kamu amati, di antaranya:

- a. sistem nilai dan budaya, seperti musyawarah dan gotong royong;
- b. pola kehidupan masyarakat, seperti pakaian dan cara berkomunikasi;
- c. pola kebiasaan, seperti makanan dan minum.

Tulis hasil pengamatanmu dalam buku tugas, kemudian kumpulkan kepada gurumu untuk dinilai.



## B Dampak Globalisasi

Globalisasi membawa dampak bagi kehidupan masyarakat. Dampak yang ditimbulkan bisa berupa dampak negatif dan dampak positif.

### 1. Dampak Positif Globalisasi

Dampak positif terjadinya globalisasi di masyarakat Indonesia pada umumnya berkaitan dengan hal-hal berikut.

### a. Perpindahan Manusia Antarnegara

Dahulu, jika ingin pergi haji ke Makkah, Saudi Arabia orang harus menggunakan kapal laut. Waktu yang diperlukan untuk sampai kurang lebih 40 hari. Sekarang, dengan adanya pesawat terbang, dari Indonesia ke Saudi Arabia dapat ditempuh hanya dalam waktu beberapa jam. Dengan adanya alat transportasi yang semakin canggih, kamu dapat bepergian ke daerah lain atau ke negara lain dengan cepat.

### b. Peristiwa di Daerah atau Negara Lain Lebih Cepat Diikuti

Dengan adanya teknologi satelit dan internet, berita dari daerah atau negara lain dapat diketahui dengan cepat. Selain itu, dengan kemajuan teknologi, kamu juga dapat menyaksikan siaran langsung pertandingan sepak bola di luar negeri, tanpa harus datang langsung.

### c. Informasi Mudah Diperoleh

Adanya kemajuan teknologi, memudahkan kamu memperoleh semua informasi. Misalnya, informasi mengenai buku-buku pelajaran buatan luar negeri melalui internet.

## 2. Dampak Negatif Globalisasi

Selain membawa dampak positif, globalisasi juga membawa dampak negatif. Oleh karena itu, orang harus bijaksana memilih dan menyaring setiap informasi maupun gaya hidup yang akan diterima. Beberapa dampak negatif globalisasi, berkaitan dengan hal-hal berikut.

### a. Sikap Konsumtif

Akibat pengaruh iklan, masyarakat dapat mengetahui berbagai produk yang ditawarkan produsen. Dengan iklan, masyarakat cenderung membeli berbagai barang yang sebenarnya tidak dibutuhkan.

### b. Selera Masyarakat yang Seragam

Adanya informasi yang mendunia, selera masyarakat menjadi seragam. Misalnya, peragaan busana di Milan, Prancis dapat disaksikan di Indonesia.



Sumber: [www1.istockphoto.com](http://www1.istockphoto.com)

#### Gambar 5.7

Pesawat merupakan alat transportasi antarnegara yang cepat dan nyaman.



Sumber: [www.pikiranrakyat.com](http://www.pikiranrakyat.com)

#### Gambar 5.8

Keinginan untuk membeli barang harus dikendalikan agar tidak berperilaku konsumtif.



## Ayo, Jawab

Globalisasi dapat menimbulkan dampak positif dan negatif terhadap kehidupan. Dampak positif dan negatif apa yang kamu rasakan sebagai pelajar dengan adanya globalisasi? Tulis jawabanmu dalam buku tugas, kemudian kumpulkan kepada gurumu untuk dinilai.

Akibatnya, banyak masyarakat yang mengikuti trend (kecenderungan) mode di Eropa tersebut. Dengan demikian, gaya berpakaian masyarakat Indonesia sama dengan gaya berpakaian masyarakat Eropa. Selain itu, selera makanan masyarakat dunia juga cenderung sama. Misalnya, makanan buatan Mc Donald yang bisa didapatkan di banyak negara, termasuk Indonesia.

### c. Pudarnya Budaya Daerah Setempat

Adanya globalisasi menjadikan masyarakat lebih terbuka terhadap budaya luar. Akibatnya, beberapa budaya dan nilai-nilai bangsa Indonesia mulai ditinggalkan. Dahulu, anak-anak biasa bermain bersama di lapangan atau halaman rumah. Sekarang, anak-anak cenderung asyik dengan mainannya sendiri di rumah. Misalnya, main *play station* (PS), menonton acara televisi, atau bermain *game* yang ada di komputer.



## C

## Bukti Globalisasi

Mungkin kamu bertanya, apa benar telah terjadi globalisasi di dunia ini? Apakah bukti Indonesia telah terpengaruh arus globalisasi? Bukti telah terjadinya globalisasi, antara lain dapat diamati dari hal-hal berikut.

### 1. Periklanan

Ketika kamu asyik menonton acara favoritmu (yang paling disenangi) di televisi, tiba-tiba acara tersebut terpotong iklan. Mungkin, kamu akan merasa kesal. Sekarang, olehmu perhatikan iklan-iklan tersebut. Apakah kamu menemukan iklan yang menawarkan produk yang berasal dari luar negeri? Banyak sekali iklan yang menawarkan produk-produk dari luar negeri, bukan? Ada mobil buatan Jepang, *handphone* buatan Korea, motor buatan Cina, atau restoran cepat saji dari Amerika.



## Let's Learn

Dunia = *World*  
Iklan = *Advertisement*  
Mobil = *Car*  
Pantai = *Beach*  
Sepeda Motor = *Motorcycle*

Iklan memiliki peranan penting dalam memperkenalkan sebuah produk. Oleh karena itu, penjual berlomba-lomba membuat iklan yang menarik. Penjual berharap, masyarakat akan membeli produk mereka. Dengan teknologi, iklan dapat dibuat menarik dan disebarakan dengan cepat melalui berbagai media, seperti televisi, radio, internet, maupun surat kabar.



## Sumber Ilmu

### Kertas Elektronik

Seorang ilmuwan Jepang dari Fujitsu Electronic memperkenalkan penemuan barunya berupa kertas elektronik. Kertas elektronik ini lentur dan bisa dibengkokkan. Kertas ini cocok digunakan untuk iklan karena gambar yang ditempatkan bisa berganti-ganti. Kertas elektronik ini membutuhkan daya listrik yang sedikit. Kelebihan kertas ini, di antaranya meskipun dibengkokkan atau dilipat gambar yang dihasilkan tidak akan rusak dan warnanya tetap menyala. Selain itu, kertas ini juga dapat menampilkan banyak gambar karena memiliki fungsi penyimpanan gambar (*image memory function*). Dengan adanya kertas elektronik ini tidak diperlukan lagi biaya untuk mengganti iklan secara periodik. Kertas ini diujicobakan di Jepang pada akhir Maret 2007.

## 2. Pariwisata

Indonesia terkenal dengan julukan Jamrud Khatulistiwa. Indonesia memiliki banyak tempat-tempat indah yang dapat dijadikan objek wisata. Dari Sabang sampai Merauke tersebar berbagai objek wisata yang menarik, baik wisata laut, pantai, pegunungan, maupun wisata budaya. Setiap tahun, jutaan wisatawan dari mancanegara datang mengunjungi Indonesia. Bali merupakan salah satu tujuan wisata utama di Indonesia. Keindahan Pulau Dewata ini terkenal sampai ke penjuru dunia.

Pemerintah memanfaatkan teknologi informasi untuk menyebarkan informasi tentang pariwisata di Indonesia. Oleh karena itu, banyak wisatawan yang tertarik datang ke Indonesia. Selain itu, dengan kemajuan transportasi para wisatawan dapat dengan mudah dan cepat mengunjungi Indonesia.



Sumber: [www.asiagrace.com](http://www.asiagrace.com)

### Gambar 5.9

Wisatawan mancanegara banyak yang tertarik oleh keindahan alam Indonesia, terutama wisata Tanah Lot, Bali.

### 3. Migrasi

Migrasi adalah perpindahan penduduk dari suatu daerah ke daerah lain. Tentu saja tidak mudah untuk menjadi penduduk di suatu daerah atau negara. Ada syarat-syarat yang harus dipenuhi untuk menjadi penduduk suatu negara.

Apakah kamu pernah melihat warga negara asing yang menjadi warga negara Indonesia atau sebaliknya warga negara Indonesia yang menjadi warga negara asing? Di era globalisasi, perpindahan penduduk menjadi mudah karena ditunjang sarana transportasi yang semakin baik dan cepat.

### 4. Telekomunikasi

Teknologi satelit yang canggih memengaruhi perkembangan alat-alat komunikasi. Masyarakat dengan mudah berkomunikasi dengan orang yang berada jauh dari tempatnya. Jarak tidak menjadi hambatan untuk berkomunikasi dengan teman-teman yang jauh. Akibatnya, dunia terasa semakin sempit dan jarak terasa dekat.

Dengan adanya *handphone*, kamu bisa berbicara dengan temanmu yang berjauhan. Kamu juga bisa mengirim surat melalui *e-mail* (surat elektronik) atau *chatting* di internet.



## Kegiatan Bersama

Untuk melatih kemandirianmu dalam belajar, kerjakan tugas berikut secara berkelompok

1. Buatlah tulisan tentang bukti globalisasi dalam bidang periklanan, pariwisata, migrasi, dan telekomunikasi.
2. Bahan pembuatan tulisan dapat dicari di majalah, internet, surat kabar, dan buku.
3. Presentasikan tulisan hasil kelompokmu di kelas secara bergantian dengan kelompok lain. Kemudian, kumpulkan hasilnya kepada gurumu untuk dinilai.



## D Sikap Menghadapi Globalisasi

Masyarakat tidak dapat menghindari dari globalisasi karena jika menghindari akan tertinggal. Masyarakat memiliki pendapat berbeda terhadap globalisasi. Ada masyarakat yang mendukung karena yakin globalisasi akan membawa kemajuan. Namun, ada juga yang tidak setuju karena globalisasi menyebabkan terjadinya kesenjangan antara negara kaya dan negara miskin.

Globalisasi yang memberikan dampak positif dan negatif bagi masyarakat harus dihadapi dengan bijak. Dengan demikian, masyarakat harus pandai memilih pengaruh yang baik dan menjauhi pengaruh negatif dari globalisasi.

Apa yang harus dilakukan agar terhindar dari pengaruh buruk globalisasi? Beberapa upaya yang dapat dilakukan dalam menghadapi pengaruh buruk globalisasi, yaitu sebagai berikut.

1. Meningkatkan ilmu pengetahuan, iman, dan takwa.
2. Terbuka dan hati-hati terhadap setiap perubahan yang terjadi.
3. Meningkatkan sumber daya manusia.
4. Mengandalkan kemampuan bangsa sendiri dan tidak bergantung pada negara lain.

### Tokoh Kita

#### Bill Gates

William Henry Gates III atau lebih dikenal sebagai Bill Gates ialah pendiri sekaligus mengepalai pembuatan perangkat lunak komputer (*software*) pada Microsoft. Ia lahir pada 28 Oktober 1955. *Microsoft Corporation* yang didirikannya merupakan perusahaan paling sukses di dunia dan memimpin industri perangkat lunak komputer.

Sumber: <http://id.wikipedia.org>







## Indonesia di Era Globalisasi

Sebagai negara kepulauan, keberadaan Indonesia cukup diperhitungkan di tingkat internasional. Sesuai dengan politik luar negeri, yaitu bebas aktif, Indonesia turut aktif menjaga perdamaian dunia. Oleh karena itu, Indonesia selalu menjaga hubungan baik dengan negara lain. Hal ini dilakukan karena masyarakat sebuah negara tidak bisa hidup sendiri. Oleh karena itu, masyarakat suatu negara harus bekerja sama dengan negara lain. Dengan kerja sama, masyarakat dapat memenuhi kebutuhannya.

Indonesia bergabung dalam berbagai organisasi Internasional. Bahkan, menjadi pelopor berdirinya beberapa organisasi, seperti ASEAN (*Association of South East Asian Nation*), Konferensi Asia Afrika, dan pelopor APEC (*Asian Pasifik Economic Cooperation*) merupakan Organisasi Ekonomi Negara-Negara Asia Pasifik.

Pada 2006 lalu, Indonesia terpilih menjadi anggota tidak tetap dewan keamanan PBB periode 2007–2008 dan anggota Dewan HAM PBB periode 2006–2007. Selain itu, Indonesia juga berpartisipasi dalam mengatasi krisis di Libanon. Indonesia mengirimkan pasukan perdamaian Garuda XXIII.



 **Gambar 5.10**  
Persiapan Pasukan Garuda XXIII

Sumber: [www.mediaindonesia.com](http://www.mediaindonesia.com)





## Ringkasan

1. Globalisasi berarti proses menduniannya segala aspek kehidupan.
2. Perubahan perilaku masyarakat akibat globalisasi, di antaranya terjadi pada:
  - a. gaya hidup,
  - b. makanan,
  - c. komunikasi,
  - d. perjalanan, dan
  - e. nilai-nilai tradisi.
3. Dampak positif globalisasi, yaitu sebagai berikut.
  - a. Perpindahan manusia antarnegara.
  - b. Kejadian-kejadian di daerah dan negara lain dapat cepat diikuti.
  - c. Informasi dapat diperoleh dengan mudah lewat internet dan *e-mail*.
4. Dampak negatif globalisasi, di antaranya:
  - a. sikap konsumtif;
  - b. selera masyarakat yang seragam dalam gaya hidup;
  - c. nilai-nilai dan adat istiadat budaya setempat mulai ditinggalkan;
  - d. budaya luar yang tidak sesuai mudah diserap masyarakat.
5. Bukti-bukti globalisasi yang dapat dirasakan dalam kehidupan sehari-hari, di antaranya dalam bidang:
  - a. periklanan,
  - b. pariwisata,
  - c. migrasi, dan
  - d. telekomunikasi.

## Ayo, Renungkan

Setelah mempelajari peran Indonesia di era globalisasi, masih adakah materi yang belum kamu pahami? Jika ada, diskusikanlah materi tersebut bersama teman-teman dengan bimbingan guru. Sikap apa yang kamu ambil dalam menghadapi era globalisasi? Sudahkah kamu menyerap informasi yang baik dari globalisasi? Bagaimana peran kamu di sekolah, terutama berkaitan dengan perilaku di era globalisasi?

## Evaluasi Bab 5

**Ayo, Kerjakan pada buku tugasmu.**

### A. Pilihlah jawaban yang paling tepat.

- Globalisasi berasal dari kata global yang berarti ....
  - menyempit
  - mendunia
  - memajukan
  - mengembangkan
- Proses globalisasi berjalan seiring dengan perkembangan ....
  - kesenian
  - bahasa
  - budaya
  - teknologi
- Berikut bukan perubahan perilaku masyarakat sebagai dampak dari globalisasi, yaitu ....
  - hidup bertetangga lebih baik
  - munculnya warung internet
  - dapat berkomunikasi dengan menggunakan telepon
  - adanya pakaian seragam kerja
- Pesan singkat berupa tulisan yang dikirim melalui telepon selular disebut ....
  - MMS
  - SMS
  - 3G
  - kamera
- Indonesia tidak menjadi pelopor berdirinya organisasi berikut, yaitu ....
  - PBB
  - ASEAN
  - APEC
  - Gerakan NonBlok
- Berikut bukan tujuan produsen membuat iklan, yaitu ....
  - memperkenalkan produknya kepada masyarakat
  - menawarkan produknya kepada masyarakat
  - mempromosikan produknya
  - memperbesar kerugian perusahaan
- Banyaknya orang yang makan di restoran cepat saji. Hal ini membuktikan telah terjadi perubahan dalam ....
  - sifat masyarakat
  - gaya hidup
  - perilaku
  - status
- Perpindahan penduduk dari suatu daerah ke daerah lain disebut ....
  - reboisasi
  - erosi
  - transportasi
  - migrasi
- Berikut bukan upaya yang dilakukan untuk menghadapi terjadinya globalisasi, yaitu ....
  - meningkatkan ilmu pengetahuan dan teknologi
  - terbuka dan hati-hati terhadap perubahan
  - memanfaatkan sumber daya manusia secara tepat
  - membuang sampah ke tempatnya
- Sikap tidak bisa mengendalikan keinginan sehingga membeli berbagai barang yang tidak diperlukan disebut ....

- a. konsumtif
  - b. produktif
  - c. inovatif
  - d. kooperatif
11. Berikut merupakan alat transportasi cepat antarnegara, yaitu ....
- a. mobil
  - b. pesawat
  - c. kereta api
  - d. bus
12. Berikut adalah salah satu tempat tujuan wisata yang ada di Bali, yaitu ....
- a. Pantai Pangandaran
  - b. Pantai Carita
  - c. Pantai Kuta
  - d. Pantai Pelabuhan Ratu
13. Berikut bukan media untuk menyebarkan iklan, yaitu ....
- a. televisi
  - b. radio
  - c. internet
  - d. buku pelajaran
14. Berikut bukan pakaian tradisional Indonesia, yaitu ....
- a. kebaya
  - b. ulos
  - c. baju bodo
  - d. kain sari
15. Alasan sebagian masyarakat menentang globalisasi, yaitu ....
- a. globalisasi akan memajukan suatu bangsa
  - b. globalisasi berasal dari Barat
  - c. globalisasi akan membawa kemajuan teknologi
  - d. globalisasi akan menciptakan kesenjangan antara negara kaya dan negara miskin
16. Berikut bukan dampak globalisasi yang terjadi di masyarakat, yaitu ....
- a. pakaian dengan mode yang sama banyak dipakai orang di berbagai bagian dunia
  - b. pergerakan orang dan barang semakin cepat dan mudah
  - c. tradisi dari luar memberikan dampak positif bagi budaya asli
  - d. masyarakat mudah mendapatkan produk dari luar negeri
17. Indonesia terpilih menjadi anggota tidak tetap Dewan Keamanan PBB untuk periode ....
- a. 2006–2007
  - b. 2007–2008
  - c. 2008–2009
  - d. 2009–3000
18. Pasukan perdamaian Garuda XIII-A dikirim untuk menjaga perdamaian di Negara ....
- a. Palestina
  - b. Irak
  - c. Libanon
  - d. Pakistan
19. Nama produk makan yang berasal dari luar negeri adalah ....
- a. pempek, kerupuk, dan spageti
  - b. sushi, soto, dan keripik pisang
  - c. sushi, spageti, dan rendang
  - d. pizza, spageti, dan hamburger
20. Salah satu contoh globalisasi di bidang ekonomi adalah ....
- a. kebebasan berjualan di pasar
  - b. arus informasi yang mendunia
  - c. pertukaran pelajar antarnegara
  - d. perdagangan dunia yang terbuka

## B. Isilah titik-titik berikut dengan benar.

1. Globalisasi dapat diartikan sebagai ....
2. Perilaku gemar membeli barang yang tidak dibutuhkan disebut ....
3. Iklan di media cetak atau elektronik berguna untuk ....
4. Arus informasi yang mendunia merupakan contoh globalisasi di bidang ....
5. Perpindahan penduduk dari suatu daerah ke daerah lain disebut ....
6. SMS kepanjangan dari ....
7. Nilai-nilai luhur bangsa Indonesia, di antaranya ....
8. Berita dari daerah atau negara lain dapat diketahui dengan cepat dengan adanya ... dan ....
9. Surat elektronik disebut juga ....
10. Organisasi negara-negara Asia Tenggara disebut ....

## C. Jawablah pertanyaan berikut.

1. Uraikan empat perubahan perilaku masyarakat akibat globalisasi.
2. Bagaimana cara menyikapi globalisasi?
3. Uraikan faktor-faktor yang mendorong terjadinya globalisasi.
4. Uraikan peran Indonesia dalam era globalisasi.
5. Tuliskan tiga dampak positif globalisasi.
6. Tuliskan tiga dampak negatif globalisasi.
7. Uraikan politik luar negeri yang dianut Indonesia.
8. Apa fungsi satelit dalam bidang telekomunikasi?
9. Tuliskan manfaat globalisasi yang dirasakan keluargamu.
10. Mengapa globalisasi tidak dapat dipisahkan dengan kemajuan teknologi?



## Ayo, Kerjakan

Tuliskan dalam tabel berikut perubahan perilaku teman kelasmu akibat globalisasi, kemudian analisis perubahan tersebut berpengaruh positif atau negatif.

No.	Aspek Perubahan	Bentuk Perubahan	Positif	Negatif	Saran
1.	Gaya hidup				
2.	Pakaian				
3.	Makanan				
4.	Komunikasi				
5.	Nilai-nilai tradisi				

# 6

## BAB



Sumber: [www.sporgarageruch.ch](http://www.sporgarageruch.ch)

## Kegiatan Ekonomi Antarbangsa

### Apa Manfaat Bagiku?

Dengan mempelajari bab ini, kamu dapat mengetahui pentingnya kegiatan ekspor dan impor sebagai kegiatan ekonomi antarbangsa.

### Kata Kunci

Kebutuhan masyarakat, perdagangan internasional, ekspor, dan impor.

### Pendahuluan

Di zaman modern, kebutuhan manusia semakin banyak dan beragam. Tidak hanya kebutuhan sandang, tetapi kebutuhan pangan dan papan. Kamu mungkin pernah mengunjungi atau melihat di televisi aktivitas bongkar muat barang di pelabuhan. Kapal-kapal besar yang membawa berbagai barang dari luar negeri. Tahukah kamu, untuk apa barang-barang tersebut harus dikirim? Apakah keuntungan yang diperoleh dari kegiatan tersebut? Kemudian, apa dampak dari adanya kegiatan ekonomi tersebut? Pertanyaan-pertanyaan tersebut akan kamu temukan jawabannya setelah mempelajari bab ini.

**A** Perdagangan Internasional

**B** Ekspor

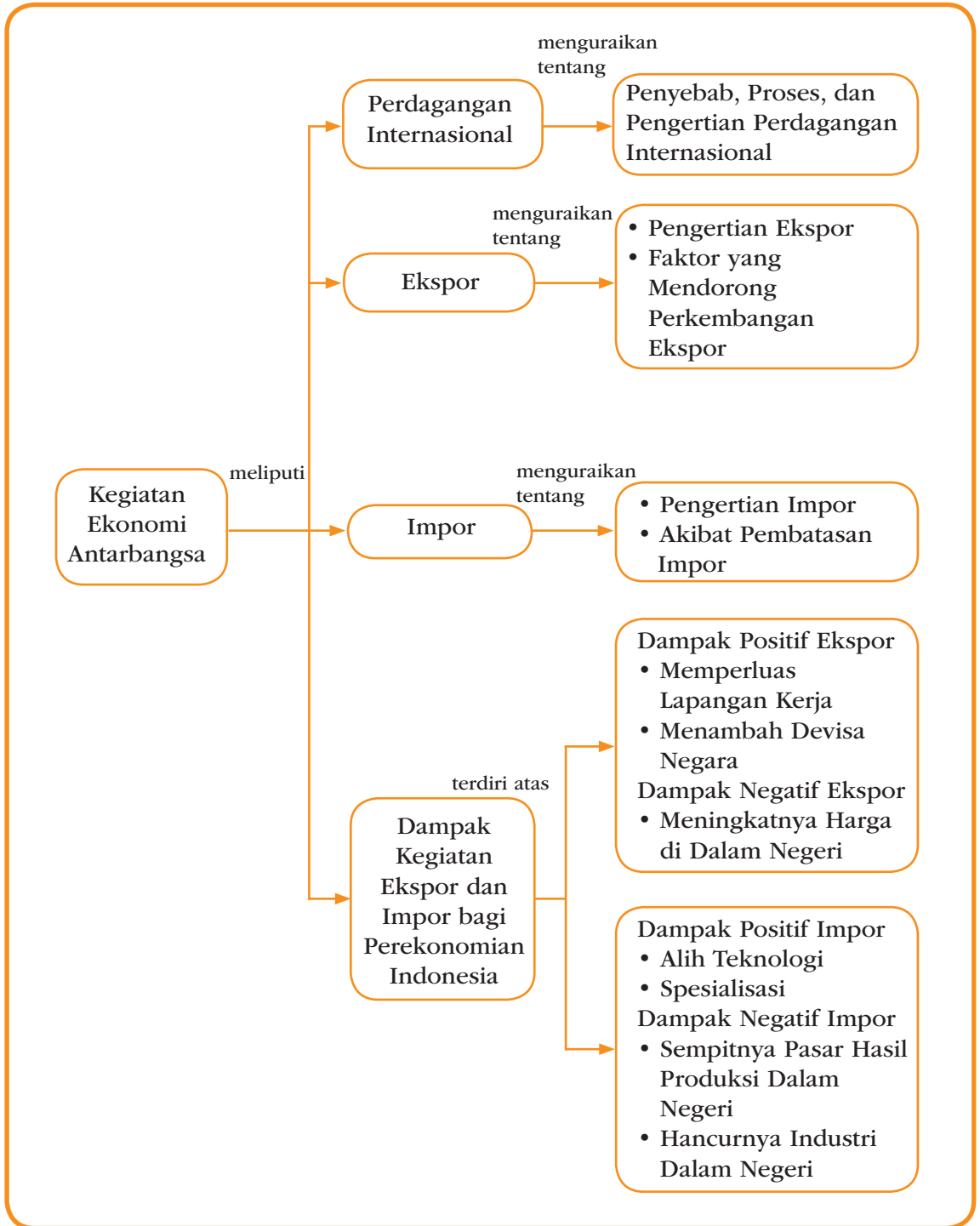
**C** Impor

**D** Dampak Kegiatan Ekspor dan Impor





# Peta Konsep

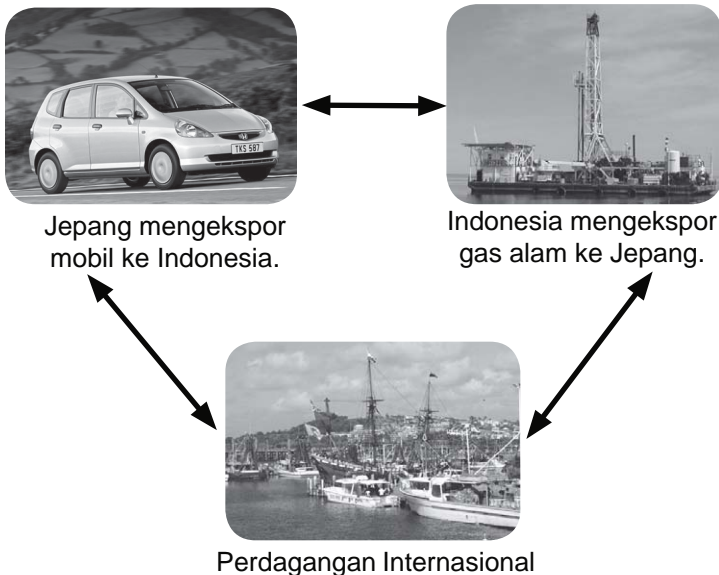




## Perdagangan Internasional

Indonesia merupakan salah satu negara yang kaya bahan tambang. Akan tetapi, Indonesia tidak memiliki keahlian dan teknologi untuk membuat mobil. Bagaimana caranya agar masyarakat Indonesia dapat memiliki mobil? Untuk memenuhi kebutuhan masyarakat terhadap mobil, pemerintah menjalin kerja sama perdagangan dengan Jepang. Dengan demikian, masyarakat Indonesia dapat membeli mobil yang diimpor dari Jepang.

Jepang dengan kecanggihannya, ternyata membutuhkan juga kerja sama perdagangan dengan Indonesia. Untuk menjalankan industrinya, Jepang membutuhkan gas alam. Oleh karena itu, Jepang membeli gas alam dari Indonesia. Inilah yang dimaksud dengan perdagangan internasional. Dengan demikian, perdagangan internasional dapat diartikan sebagai kegiatan jual beli barang atau jasa antara dua negara atau lebih untuk memenuhi kebutuhan bersama.



Gambar 6.1

Dalam memenuhi kebutuhannya, sebuah negara dapat bekerja sama dengan negara lain, seperti yang dilakukan Indonesia dengan Jepang.



## Ayo, Jawab

Selain mengimpor barang-barang dari luar negeri, Indonesia juga mengekspor beberapa barang. Tuliskan dalam buku tugasmu, barang yang diimpor dan diekspor Indonesia beserta negara pengimpor dan negara tujuan ekspor Indonesia.

Perdagangan internasional melibatkan beberapa negara. Akan tetapi, setiap negara memiliki mata uang yang berbeda. Alat pembayaran apa yang digunakan untuk membeli barang dari suatu negara? Apakah Indonesia harus membayar mobil yang dibeli dari Jepang dengan yen, rupiah, atau alat pembayaran lain? Hal ini bergantung kesepakatan dua negara tersebut. Oleh karena itu, sebelum terjadi transaksi jual beli, negara-negara yang bekerja sama membuat kesepakatan terlebih dahulu. Dalam kegiatan perdagangan internasional, setiap negara membutuhkan devisa. Apakah devisa itu?

Devisa adalah alat pembayaran luar negeri yang dapat ditukarkan dengan uang luar negeri. Ketika Indonesia membeli barang atau jasa dari luar negeri, Indonesia harus mengeluarkan devisa. Sebaliknya, ketika Indonesia menjual barang atau jasa ke luar negeri, Indonesia akan mendapatkan devisa.

Berdasarkan uraian tersebut dapat disimpulkan, dalam perdagangan internasional terdapat dua kegiatan utama. Pertama, kegiatan membeli barang atau jasa dari luar negeri. Kedua, kegiatan menjual barang atau jasa ke luar negeri. Kegiatan menjual dan membeli barang atau jasa dari luar negeri disebut kegiatan ekspor dan impor.



## Kegiatan Bersama

Diskusikan dengan kelompokmu tentang manfaat dari kegiatan perdagangan internasional. Bacakan hasil diskusi kelompokmu secara bergantian di kelas. Kemudian, kumpulkan hasilnya kepada gurumu untuk dinilai.



## B Ekspor

Ekspor dapat diartikan sebagai kegiatan menjual barang atau jasa ke luar negeri. Orang atau perusahaan yang menjual barang atau jasa ke luar negeri disebut eksportir. Biasanya, harga barang

yang dijual ke luar negeri lebih mahal dibandingkan harga barang di dalam negeri. Dengan demikian, kegiatan ekspor menghasilkan keuntungan yang disebut devisa. Semakin banyak negara melakukan kegiatan ekspor, semakin banyak devisa yang diterima negara tersebut.

Ada dua jenis barang yang diekspor pemerintah Indonesia, yaitu minyak dan gas. Selain itu, Indonesia juga mengekspor barang nonmigas, seperti barang hasil pertanian, hasil hutan, hasil perkebunan, hasil industri, dan hasil kerajinan. Ekspor migas memberikan pendapatan paling besar bagi negara. Hal ini disebabkan, Indonesia salah satu negara yang memiliki sumber daya alam yang melimpah.



Sumber: [www.tpk.co.id](http://www.tpk.co.id)

Ada beberapa faktor yang mendorong perkembangan ekspor suatu negara, di antaranya kondisi pasar luar negeri, dukungan pemerintah, kegigihan eksportir, menambah variasi barang ekspor, dan mengadakan kerja sama dengan perjanjian internasional.

## 1. Kondisi Pasar Luar Negeri

Banyaknya negara yang membutuhkan suatu barang, menyebabkan harga produk akan naik (mahal). Misalnya, banyak negara yang memerlukan gas alam. Keadaan ini akan menguntungkan negara yang memiliki banyak sumber gas alam. Untuk itu, negara penghasil meningkatkan ekspor gas lama ke negara tujuan.



### Let's Learn

Devisa = *Foreign Exchange*  
Harga = *Price*  
Keuntungan = *Profit*  
Mahal = *Expensive*  
Pemerintah = *Government*

Gambar 6.2

Selain mengekspor minyak bumi, Indonesia juga mengekspor hasil hutan berupa kayu.



**Ayo,  
Jawab**

Apa yang dilakukan pemerintah Indonesia dalam mendukung kegiatan ekspor? Tulis jawabanmu dalam buku tugas, kemudian kumpulkan kepada gurumu untuk dinilai.

## 2. Dukungan Pemerintah

Pengusaha yang melakukan kegiatan ekspor membutuhkan dukungan pemerintah. Dukungan tersebut berupa kemudahan izin yang diberikan pemerintah. Misalnya, kemudahan prosedur ekspor, biaya ekspor barang-barang tertentu, dan bantuan fasilitas dalam memproduksi barang ekspor.

## 3. Kegigihan Eksportir

Untuk dapat bersaing, eksportir harus gigih dalam mengembangkan ekspornya. Ia harus pandai mencari peluang ekspor dari barang-barang yang menjadi unggulan.



Sumber: [www.mnr.gov.on.ca](http://www.mnr.gov.on.ca)



**Gambar 6.3**

Minyak bumi merupakan barang ekspor yang memiliki harga tinggi di pasaran dunia.


## 4. Variasi Barang Ekspor

Suatu negara dapat menambah variasi produk ekspornya. Misalnya, selama ini negara hanya mengekspor kain hasil tekstil. Kemudian, negara tersebut mulai menambah produk ekspornya menjadi kain, kopi, dan karet.

## 5. Mengadakan Kerja Sama Internasional

Beberapa bentuk kerja sama yang dilakukan oleh negara-negara di dunia dalam menunjang kebutuhan suatu negara, yaitu sebagai berikut.

- a. Kerja sama bilateral adalah kerja sama yang dilakukan antara dua negara. Misalnya, kerja sama perdagangan antara Indonesia dan Jepang.
- b. Kerja sama multilateral adalah kerja sama yang dilakukan antara beberapa negara. Misalnya, kerja sama antarnegara-negara pengekspor minyak yang tergabung dalam *Organization of Petroleum Exporter Countries* (OPEC). Negara pendiri OPEC, di antaranya Iran, Irak, Kuwait, Arab Saudi, dan Venezuela.
- c. Kerja sama regional adalah kerja sama yang dilakukan antarnegara di kawasan tertentu. Misalnya, kerja sama ekonomi antara negara-negara di kawasan Asia dan Pasifik yang tergabung dalam *Asia Pasific Economic Cooperation* (APEC). Negara anggota APEC, yaitu Amerika Serikat, Kanada, Jepang, Korea Selatan, Taiwan, Hongkong, Indonesia, Malaysia, Filipina, Thailand, Meksiko, dan Australia.



Sumber: [www.exhibitionhalltime.imag.fr](http://www.exhibitionhalltime.imag.fr)

#### Gambar 6.4

Pameran merupakan salah satu cara memperkenalkan suatu barang atau produk.

## 6. Promosi Dagang di Luar Negeri

Agar produk-produk Indonesia bisa dikenal di luar negeri, perlu diadakan kegiatan promosi. Misalnya, mengadakan pameran di luar negeri atau mendirikan pusat promosi dagang Indonesia di luar negeri. Tujuan pameran adalah untuk memperkenalkan produk-produk ekspor Indonesia.



### Kegiatan Individu

Untuk melatih kemampuan dalam berpikir kritis, jawablah pertanyaan berikut.

1. Apa yang dimaksud dengan ekspor dan eksportir?
2. Apa yang dimaksud dengan impor dan importir?
3. Uraikan manfaat ekspor bagi suatu negara.
4. Tuliskan barang hasil perkebunan yang diekspor Indonesia.
5. Apakah semua negara dapat menjadi eksportir?

Tulis jawabanmu dalam buku tugas, kemudian kumpulkan kepada gurumu untuk dinilai.



## C Impor



Sumber: [www.hpmightytter.com](http://www.hpmightytter.com)

### Gambar 6.5

*Handphone* yang digunakan di Indonesia banyak diimpor dari luar negeri. Misalnya, impor *handphone* dari Korea, Jerman, dan Finlandia.

Kegiatan membeli barang atau jasa dari luar negeri disebut impor. Orang atau perusahaan yang membeli barang atau jasa disebut importir. Negara akan mengimpor barang dari luar negeri jika negara tersebut tidak dapat memproduksinya. Selain itu, impor dilakukan karena biaya pembuatan barang di dalam negeri lebih mahal dibandingkan dengan mengimpor dari negara lain. Dalam kondisi seperti itu, negara lebih memilih mengimpor barang daripada membuat sendiri.

Kegiatan impor dapat mengurangi devisa negara karena barang yang diimpor dibayar dengan devisa. Impor yang berlebihan dapat merugikan pengusaha-pengusaha dalam negeri. Oleh karena itu, pemerintah membatasi impor barang-barang tertentu. Tujuannya, untuk melindungi pengusaha-pengusaha dalam negeri.

Akibat dari pembatasan impor oleh pemerintah, yaitu sebagai berikut.

1. Industri dalam negeri dapat berkembang karena tidak banyak bersaing dengan barang impor.
2. Mengurangi kebergantungan terhadap produk luar negeri.
3. Menanamkan rasa cinta pada produk dalam negeri.



## Sumber Ilmu

### Cina Kuasai Produk Impor Indonesia

Badan Pusat Statistik (BPS) mencatat mulai September 2006, produk impor dari Cina menguasai 12,86% atau mayoritas pangsa pasar Indonesia. Namun, dari sisi ekspor Indonesia ke Cina nilainya masih kecil atau menempati urutan keempat. Barang impor dari Cina, di antaranya mesin, radio, televisi, bahan kimia, sayur-sayuran, dan buah-buahan.



# Dampak Kegiatan Ekspor dan Impor

## 1. Manfaat Perdagangan Internasional

Perdagangan internasional memberikan manfaat bagi negara-negara yang melakukannya, yaitu sebagai berikut.

- Setiap negara dapat memenuhi kebutuhannya dengan biaya yang lebih murah.
- Setiap negara dapat memperoleh devisa.
- Setiap negara dapat mendorong kemajuan produksi dalam negerinya.
- Setiap negara dapat mendorong kemajuan ilmu pengetahuan dan teknologi (Iptek).
- Setiap negara dapat mempererat hubungan kerja sama antarnegara.

Kegiatan ekspor dan impor memberikan dampak atau pengaruh bagi Indonesia. Dampak kegiatan ekspor dan impor tersebut bisa positif maupun negatif.

## 2. Dampak Kegiatan Ekspor dan Impor bagi Indonesia

Kegiatan ekspor bagi Indonesia memberikan dampak positif dan negatif, yaitu sebagai berikut.

### a. Dampak Positif dan Negatif Kegiatan Ekspor

#### 1) Memperluas Lapangan Kerja

Kegiatan ekspor dan impor dapat memperluas lapangan kerja. Misalnya, perusahaan akan meningkatkan jumlah produksinya jika ekspornya meningkat. Untuk meningkatkan jumlah produksi, produsen menambah tenaga kerja.

#### 2) Menambah Devisa Negara

Meningkatnya jumlah barang yang diproduksi memungkinkan perusahaan menambah jumlah barang ekspor. Peningkatan ekspor akan menambah devisa negara.



Ayo,  
Jawab

Apakah kamu lebih suka menggunakan barang-barang buatan dalam negeri atau barang-barang buatan luar negeri? Uraikan alasannya. Tulis jawabanmu dalam buku tugas, kemudian kumpulkan kepada gurumu untuk dinilai.



Sumber: [www.pikiranrakyat.com](http://www.pikiranrakyat.com)

Gambar 6.6

Eksportir membutuhkan tenaga kerja untuk membuat barang yang akan diekspor.

Adapun dampak negatif kegiatan ekspor adalah meningkatnya harga-harga di dalam negeri. Meningkatnya harga dapat merugikan konsumen dalam negeri. Namun disisi lain, produsen diuntungkan dengan meningkatnya harga, yaitu meningkatnya keuntungan yang diterima.

### **b. Dampak Positif dan Negatif Kegiatan Impor**

Kegiatan impor bagi Indonesia menimbulkan dampak positif dan negatif, yaitu sebagai berikut.

#### **1) Dampak Positif Impor**

##### **a) Alih Teknologi**

Dengan adanya impor, barang-barang berteknologi canggih masuk ke Indonesia, seperti komputer. Masuknya komputer mendorong masyarakat mempelajari cara menggunakan komputer, memperbaiki, dan merakitnya. Perusahaan-perusahaan juga terbantu dengan adanya komputer karena pekerjaan lebih mudah.



**Gambar 6.7**

Masuknya komputer ke Indonesia akan menuntut masyarakat untuk belajar tentang komputer.

Sumber: [www.komputerbudi.insan.co.id](http://www.komputerbudi.insan.co.id)

##### **b) Spesialisasi**

Spesialisasi, artinya setiap negara akan fokus (terpusat) memilih kegiatan produksi sesuai dengan sumber daya yang dimiliki.

## 2) Dampak Negatif Impor

a) Sempitnya Pasar Hasil Produksi Dalam Negeri  
Kegiatan impor berarti memberi peluang barang luar negeri masuk ke Indonesia. Masuknya barang impor, menyebabkan produsen dalam negeri harus bersaing. Persaingan yang tidak sehat menyebabkan pasar hasil produksi dalam negeri menjadi sempit.

b) Hancurnya Industri Dalam Negeri

Produk yang tidak dapat bersaing dengan produk luar negeri, mengakibatkan perusahaan akan bangkrut. Akibatnya, perusahaan asing akan menguasai pasar dalam negeri. Misalnya, kebijakan impor beras yang diambil pemerintah, dapat merugikan petani. Masyarakat lebih banyak membeli beras impor daripada beras lokal karena harganya lebih murah. Jika keadaan ini terus berlanjut akan merugikan petani dalam negeri.



Sumber: [www.sinarharapan.co.id](http://www.sinarharapan.co.id)

### Gambar 6.8

Barang buatan dalam negeri harus mampu bersaing dengan barang buatan luar negeri, baik kualitas maupun harganya.

## Tokoh Kita

### Aburizal Bakrie

Ir. H. Aburizal Bakrie atau akrab dipanggil Ical ialah seorang pengusaha sukses Indonesia. Ia lahir di Jakarta pada 15 November 1946. Sekarang, ia menjadi Komisaris Utama (*Chairman*) Kelompok Usaha Bakrie. Pada Kabinet Indonesia Bersatu ia menjadi Menteri Koordinator Kesejahteraan Rakyat. Sebelumnya, ia juga pernah menjadi menteri koordinator perekonomian dalam kabinet yang sama.



Sumber: [www.wikipedia.co.id](http://www.wikipedia.co.id)



## Ringkasan

1. Perdagangan internasional adalah kegiatan jual beli barang atau jasa antara dua negara.
2. Devisa adalah alat pembayaran luar negeri yang dapat ditukarkan dengan uang luar negeri.
3. Ekspor adalah kegiatan menjual barang atau jasa ke luar negeri.
4. Orang atau perusahaan yang menjual barang atau jasa ke luar negeri disebut eksportir.
5. Kegiatan membeli barang atau jasa dari luar negeri disebut impor.
6. Orang atau perusahaan yang membeli barang atau jasa disebut importir.
7. Bentuk kerja sama antarnegara, di antaranya:
  - a. kerja sama bilateral,
  - b. kerja sama multilateral, dan
  - c. kerja sama regional.
8. Akibat pembatasan impor oleh pemerintah, yaitu sebagai berikut.
  - a. Industri dalam negeri dapat berkembang karena tidak banyak bersaing dengan barang impor.
  - b. Mengurangi kebergantungan terhadap produk luar negeri.
  - c. Menanamkan rasa cinta pada produk dalam negeri.
9. Dampak positif kegiatan ekspor bagi Indonesia, yaitu memperluas lapangan kerja dan menambah devisa negara.  
Dampak negatif kegiatan ekspor, yaitu meningkatnya harga-harga barang di dalam negeri.
10. Dampak positif kegiatan impor bagi Indonesia, yaitu adanya alih teknologi dan spesialisasi.  
Dampak negatifnya, yaitu sempitnya pasar hasil produksi dalam negeri serta menurunnya industri dalam negeri.

## Ayo, Renungkan

Setelah mempelajari kegiatan ekonomi antarbangsa, masih adakah materi yang belum kamu pahami? Jika ada, diskusikanlah materi tersebut bersama teman-teman dengan bimbingan guru. Dengan adanya kegiatan ekspor dan impor, banyak barang dari luar negeri masuk ke Indonesia. Bagaimana sikapmu dengan semakin banyaknya barang luar negeri yang masuk ke dalam pasar dalam negeri? Apakah kamu tetap mencintai barang buatan dalam negeri?

## Evaluasi Bab 6

**Ayo, Kerjakan pada buku tugasmu.**

### **A. Pilihlah jawaban yang paling tepat.**

1. Kegiatan jual beli barang atau jasa antara dua negara atau lebih disebut perdagangan ....
  - a. lokal
  - b. domestik
  - c. internasional
  - d. pasar
2. Berikut bukan pendorong terjadinya kegiatan perdagangan internasional, yaitu ....
  - a. perbedaan penguasaan teknologi setiap negara
  - b. perbedaan sumber daya alam setiap negara
  - c. negara dapat memenuhi semua kebutuhan masyarakatnya
  - d. perbedaan geografis disetiap negara
3. Istilah yang tepat untuk alat pembayaran luar negeri ialah ....
  - a. devisa
  - b. devaluasi
  - c. dolar
  - d. uang
4. Salah satu barang yang diimpor Indonesia dari Jepang, yaitu ....
  - a. beras
  - b. mobil
  - c. gas alam
  - d. kopi
5. Berikut bukan barang ekspor non-migas, yaitu ....
  - a. kayu
  - b. kopi
  - c. gas alam
  - d. karet
6. Orang atau perusahaan yang menjual barang atau jasanya ke luar negeri disebut ....
  - a. importir
  - b. eksportir
  - c. distributor
  - d. produsen
7. Orang atau perusahaan yang membeli barang atau jasa dari luar negeri disebut ....
  - a. eksportir
  - b. importir
  - c. distributor
  - d. produsen
8. Bentuk tindakan pemerintah dalam mendukung terjadinya kegiatan ekspor, yaitu ....
  - a. mencari peluang ekspor
  - b. menambah produk ekspor
  - c. mengembangkan ekspor
  - d. memberikan kemudahan prosedur ekspor
9. Pandai mencari peluang ekspor merupakan kemampuan yang harus dimiliki oleh ....
  - a. eksportir
  - b. importir
  - c. konsumen
  - d. distributor
10. Organisasi kerja sama negara-negara pengekspor minyak, yaitu ....
  - a. ASEAN
  - b. OPEC
  - c. APEC
  - d. PBB



11. Salah satu negara anggota APEC adalah ....
  - a. Arab Saudi
  - b. Iran
  - c. Venezuela
  - d. Amerika Serikat
12. Salah satu upaya yang dilakukan untuk mempromosikan produk Indonesia, yaitu ....
  - a. mengadakan pameran di luar negeri
  - b. menaikkan pajak
  - c. membatasi produk yang masuk
  - d. meningkatkan jumlah produksi dalam negeri
13. Berikut bukan negara pemrakarsa berdirinya OPEC, yaitu ....
  - a. Iran
  - b. Arab Saudi
  - c. Venezuela
  - d. Hongkong
14. Kegiatan impor akan mengurangi devisa negara karena ....
  - a. importir mengambil devisa
  - b. eksportir mengambil devisa
  - c. eksportir menjual barangnya
  - d. barang yang diimpor dibayar dengan devisa
15. Kerja sama perdagangan antara Indonesia dan Jepang, termasuk bentuk kerja sama ....
  - a. bilateral
  - b. multilateral
  - c. regional
  - d. internasional
16. Berikut bukan dampak positif kegiatan ekspor impor, yaitu ....
  - a. menambah devisa negara
  - b. menghancurkan industri dalam negeri
  - c. memperluas lapangan kerja
  - d. alih teknologi
17. Kerja sama ekonomi antara negara-negara di kawasan Asia dan Pasifik, yaitu ....
  - a. ASEAN
  - b. APEC
  - c. OPEC
  - d. MEE
18. Berikut bukan negara anggota APEC, yaitu ....
  - a. Brunei Darussalam
  - b. Malaysia
  - c. Thailand
  - d. Filipina
19. Berikut merupakan bentuk kerja sama multilateral, yaitu ....
  - a. Indonesia dengan Malaysia
  - b. ASEAN
  - c. Masyarakat Uni Eropa
  - d. OPEC
20. Jika Indonesia membeli mobil dari Jepang, kegiatan ini disebut ....
  - a. impor
  - b. ekspor
  - c. perdagangan multilateral
  - d. perdagangan bilateral

## B. Isilah titik-titik berikut dengan benar.

1. Kegiatan menjual barang ke luar negeri disebut ....
2. Alat pembayaran luar negeri yang dapat ditukarkan dengan uang luar negeri disebut ....
3. Kerja sama antara negara-negara di kawasan tertentu disebut kerja sama ....
4. Barang-barang ekspor yang terdiri atas minyak dan gas alam disebut barang ekspor ....

5. Dua kegiatan utama perdagangan internasional, yaitu ... dan ....
6. Akibat pembatasan impor oleh ... industri dalam negeri dapat berkembang.
7. Salah satu manfaat perdagangan internasional, yaitu ....
8. Dampak positif kegiatan impor adalah ... dan ....
9. Dampak negatif kegiatan ekspor Indonesia, yaitu meningkatnya ... barang di dalam negeri.
10. Negara pengekspor bijih besi, yaitu ..., ..., ..., ..., dan ....

### C. Jawablah pertanyaan berikut.

1. Apakah yang dimaksud dengan ekspor dan impor?
2. Mengapa impor dapat mengurangi devisa?
3. Uraikan dampak positif kegiatan ekspor bagi Indonesia.
4. Uraikan akibat pembatasan impor oleh pemerintah bagi pengusaha-pengusaha Indonesia.
5. Uraikan tiga bentuk kerja sama antarnegara.
6. Apa yang harus dilakukan agar produk Indonesia terkenal di luar negeri?
7. Apa dampak positif masuknya barang-barang berteknologi canggih bagi warga Indonesia?
8. Upaya apa yang harus dilakukan agar produk Indonesia dapat bersaing dengan produk luar negeri?
9. Apa yang akan terjadi jika produk Indonesia tidak dapat bersaing dengan produk luar negeri?
10. Apa yang harus dilakukan Indonesia untuk meningkatkan devisanya?



### Ayo, Kerjakan

Diskusikan dengan kelompok kalian dampak positif dan negatif luasnya wilayah Indonesia. Hasilnya, kamu tulis pada buku tugas, kemudian kumpulkan untuk dinilai

No.	Dampak Positif	No.	Dampak Negatif
1.		1.	
2.		2.	
3.		3.	
4.		4.	
5.		5.	



## Evaluasi Semester 2



**Ayo, Kerjakan pada buku tugasmu.**

### A. Pilihlah jawaban yang paling tepat.

1. Cincin Api Pasifik (*The Pasific Ring of Fire*) adalah ....
  - a. perdagangan dunia
  - b. lalu lintas aman di dunia
  - c. gunungapi aktif di dunia
  - d. lautan di dunia
2. Letusan gunungapi adalah contoh bencana alam ....
  - a. biologis
  - b. ekstraterrestrial
  - c. klimatologis
  - d. geologis
3. Bencana alam klimatologis adalah bentuk bencana alam yang disebabkan oleh ....
  - a. faktor-faktor di dalam bumi
  - b. hal-hal di luar bumi
  - c. faktor cuaca
  - d. hantaman meteor
4. Satuan mengukur gempa, yaitu ....
  - a. skala Richter
  - b. kilogram
  - c. celcius
  - d. derajat
5. Berikut merupakan penyebab terjadinya banjir, yaitu ....
  - a. getaran mesin
  - b. berat yang terlalu berlebihan
  - c. musim kemarau yang panjang
  - d. hujan besar yang terus-menerus
6. Penemu skala Richter ialah ....
  - a. Charles F. Richter
  - b. Luca Pacioli
  - c. Adam Smith
  - d. Aristoteles
7. Berikut merupakan daerah rawan banjir bandang, yaitu ....
  - a. daerah dengan batuan lepas
  - b. lereng dan kaki gunungapi
  - c. pantai yang berhadapan dengan palung tektonik
  - d. daerah bantaran sungai
8. Gejala awal terjadinya bencana tsunami, yaitu ....
  - a. curah hujan tinggi dan berlangsung lama
  - b. lantai retak-retak
  - c. terjadi gempa bumi dan air laut surut
  - d. naiknya permukaan air sungai
9. Gambar atau foto permukaan bumi yang diambil menggunakan satelit disebut ....
  - a. foto digital
  - b. citra satelit
  - c. foto udara
  - d. *global positioning system*
10. Berikut bukan usaha yang dilakukan untuk menghadapi bencana alam, yaitu ....
  - a. tidak mendirikan bangunan di bantaran sungai
  - b. membuat tanggul penahan
  - c. melakukan penghijauan
  - d. menebang hutan secara besar-besaran
11. Proses menduniannya segala aspek kehidupan disebut ....
  - a. modernisasi
  - b. westernisasi
  - c. reboisasi
  - d. globalisasi

12. Berikut bukan contoh media komunikasi di era globalisasi, yaitu ....
  - a. telepon selular
  - b. internet
  - c. *e-mail*
  - d. kentungan
13. Berikut merupakan dampak positif globalisasi, yaitu ....
  - a. sikap konsumtif
  - b. selera masyarakat yang seragam
  - c. nilai-nilai luhur budaya setempat ditinggalkan
  - d. informasi dapat diperoleh dengan mudah
14. Orang yang konsumtif cenderung bersikap ....
  - a. hemat
  - b. rajin
  - c. boros
  - d. malas
15. Iklan berguna untuk ....
  - a. membeli barang
  - b. memperkenalkan barang
  - c. membuat barang
  - d. mengelola barang
16. Berikut bukan media yang dapat digunakan untuk iklan, yaitu ....
  - a. televisi
  - b. internet
  - c. surat kabar
  - d. buku tulis
17. Alat transportasi antarnegara yang paling cepat adalah ....
  - a. kapal laut
  - b. pesawat terbang
  - c. mobil
  - d. kereta api
18. Migrasi adalah ....
  - a. proses perubahan masyarakat
  - b. perpindahan penduduk dari tempat yang padat penduduk ke tempat yang masih jarang penduduknya
  - c. perpindahan penduduk dari satu daerah ke daerah lain
  - d. perpindahan penduduk dari desa ke kota
19. Organisasi kerja sama negara-negara Asia Tenggara, yaitu ....
  - a. APEC
  - b. OPEC
  - c. OCEAN
  - d. ASEAN
20. Dalam menghadapi globalisasi, Indonesia harus ....
  - a. menutup diri dari perubahan
  - b. memanfaatkan sumber daya manusia dengan cara yang boros
  - c. meningkatkan ilmu pengetahuan, iman, dan takwa
  - d. memanfaatkan sumber daya manusia secara tepat
21. Perdagangan yang melibatkan beberapa negara disebut ....
  - a. perdagangan domestik
  - b. perdagangan dalam negeri
  - c. perdagangan internasional
  - d. perdagangan lokal
22. Alat pembayaran luar negeri yang dapat dilakukan dengan uang luar negeri disebut ....
  - a. dividen
  - b. devisa
  - c. laba
  - d. keuntungan
23. Kegiatan utama perdagangan internasional adalah ....
  - a. pembelian dan penjualan
  - b. pengolahan dan pemasaran
  - c. ekspor dan impor
  - d. kerja sama dan persahabatan
24. Orang atau perusahaan yang membeli barang dari luar negeri disebut ....
  - a. importir
  - b. eksportir
  - c. perdagangan
  - d. *salesman*
25. Berikut merupakan faktor yang menyebabkan terjadinya perdagangan internasional, yaitu ....

- a. sempitnya pasar hasil produksi
  - b. hancurnya industri dalam negeri
  - c. harga barang dalam negeri mahal
  - d. kondisi pasar luar negeri
26. Tindakan fokus dalam memilih kegiatan produksi sesuai dengan sumber daya yang dimiliki disebut ....
- a. produksi
  - b. konsumsi
  - c. spesialisasi
  - d. distribusi
27. Berikut ini merupakan dampak negatif dari kegiatan impor bagi Indonesia, yaitu ....
- a. sempitnya pasar hasil produksi
  - b. terjadinya alih teknologi
  - c. menambah devisa negara
  - d. memperluas lapangan kerja
28. Berikut ini bukan manfaat dilakukannya perdagangan internasional, yaitu ....
- a. menambah pengangguran
  - b. mendapatkan devisa
  - c. mendorong kemajuan produksi dalam negeri
  - d. mempererat hubungan antar-bangsa
29. Manfaat pembatasan impor yang dilakukan pemerintah, yaitu ....
- a. mengurangi kebergantungan terhadap produk luar negeri
  - b. menghancurkan industri dalam negeri
  - c. mengurangi devisa negara
  - d. menambah produk luar negeri
30. Jika suatu negara tidak dapat memproduksi barang yang dibutuhkan di dalam negeri, negara tersebut akan .... barang yang dibutuhkan
- a. mengimpor
  - b. menjual
  - c. mengekspor
  - d. mengolah

## B. Jawablah pertanyaan berikut.

1. Uraikan jenis-jenis bencana alam berdasarkan penyebabnya.
2. Apa yang dimaksud dengan *the Pacific Ring of Fire*?
3. Uraikan faktor-faktor yang menyebabkan terjadinya tanah longsor.
4. Apa yang dimaksud mitigasi?
5. Uraikan usaha-usaha yang dilakukan untuk menghadapi bencana alam.
6. Uraikan media yang digunakan untuk mengetahui gejala alam yang terjadi.
7. Terangkan perubahan perilaku masyarakat akibat globalisasi.
8. Uraikan dampak positif globalisasi dalam bidang transportasi.
9. Apa yang dimaksud dengan konsumtif?
10. Tuliskan bukti adanya globalisasi dalam bidang periklanan.
11. Apa yang mendorong sebuah negara melakukan perdagangan internasional?
12. Mengapa kondisi pasar luar negeri dapat mendorong perkembangan ekspor sebuah negara?
13. Apa tujuan dilakukannya promosi dagang di luar negeri?
14. Mengapa kegiatan ekspor dapat memperluas lapangan kerja?
15. Apa yang dimaksud dengan alih teknologi?



## Evaluasi Akhir Tahun



**Ayo, Kerjakan pada buku tugasmu.**

### **A. Pilihlah jawaban yang paling tepat.**

1. Pulau Sulawesi terdiri atas ... provinsi.
  - a. 3
  - b. 4
  - c. 5
  - d. 6
2. Ibu kota Provinsi Nusa Tenggara Barat, yaitu ....
  - a. Lombok
  - b. Denpasar
  - c. Mataram
  - d. Kupang
3. Selat yang berada di antara Pulau Sumatra dan Pulau Jawa, yaitu ....
  - a. Selat Bali
  - b. Selat Madura
  - c. Selat Malaka
  - d. Selat Sunda
4. Timor Timur memisahkan diri dari wilayah Indonesia pada ....
  - a. 1998
  - b. 1999
  - c. 2000
  - d. 2001
5. Potensi pariwisata Danau Singkarak berada di Provinsi ....
  - a. Sumatra Utara
  - b. Sumatra Barat
  - c. Sumatra Selatan
  - d. Lampung
6. Negara terluas di Asia Tenggara adalah ....
  - a. Filipina
  - b. Singapura
  - c. Indonesia
  - d. Jepang
7. Pelabuhan transit teramai di kawasan Asia Tenggara berada di Negara ....
  - a. Malaysia
  - b. Indonesia
  - c. Singapura
  - d. Thailand
8. Sungai yang mengalir di Negara Kamboja dan Laos adalah ....
  - a. Sungai Mekong
  - b. Sungai Irawadi
  - c. Sungai Saiwan
  - d. Sungai Menom
9. Penduduk asli di wilayah Asia Tenggara adalah suku bangsa ....
  - a. Cina
  - b. India
  - c. Melayu
  - d. Arab
10. *Negaraku* adalah lagu kebangsaan Negara ....
  - a. Indonesia
  - b. Singapura
  - c. Malaysia
  - d. Brunei Darussalam
11. Satuan mata uang Negara Filipina adalah ....
  - a. bath
  - b. dollar
  - c. dong
  - d. peso
12. Negara yang memiliki julukan Gajah Putih adalah Negara ....



- a. Thailand
  - b. Singapura
  - c. Filipina
  - d. Malaysia
13. Candi Angkor Wat berada di Negara ....
- a. Kamboja
  - b. Thailand
  - c. Malaysia
  - d. Indonesia
14. Deklarasi Bangkok kali pertama di-cetuskan pada ....
- a. 8 Agustus 1967
  - b. 10 Agustus 1967
  - c. 12 Agustus 1967
  - d. 16 Agustus 1967
15. Benua yang membentang dibelahan bumi utara dan selatan, yaitu ....
- a. Benua Asia
  - b. Benua Australia
  - c. Benua Amerika
  - d. Benua Eropa
16. Berikut bukan rumpun penduduk Asia, yaitu ....
- a. Mongoloid
  - b. Eropid
  - c. Negroid
  - d. Nordik
17. Danau terbesar di Benua Amerika adalah ....
- a. Danau Eitica
  - b. Danau Michigan
  - c. Danau Superior
  - d. Danau Ontario
18. Pegunungan di Afrika yang membentang dari Maroko sampai Tunisia adalah ....
- a. Pegunungan Drakensberg
  - b. Pegunungan Atlas
  - c. Pegunungan Andes
  - d. Pegunungan Himalaya
19. Semenanjung Scandinavia berada di Negara ....
- a. Prancis
  - b. Spanyol
  - c. Finlandia
  - d. Yunani
20. Orang yang menemukan Pantai Timur Australia ialah ....
- a. William Laned
  - b. Abel Tasioan
  - c. James Cook
  - d. Cristhoper Colombus
- 21.



Sumber: [www.wordpress.com](http://www.wordpress.com)



Jenis bencana alam yang tampak pada gambar tersebut, yaitu ....

- a. banjir
  - b. angin puting beliung
  - c. letusan gunungapi
  - d. tsunami
22. Sebagian besar bencana alam tidak dapat diduga terjadinya. Oleh karena itu, masyarakat harus ....
- a. malas
  - b. waspada
  - c. lalai
  - d. tidak peduli
23. Jalur rangkaian gunungapi aktif dunia disebut juga jalur ....
- a. gunungapi pasifik
  - b. cincin api pasifik
  - c. gunung dunia
  - d. meteor dunia
24. Bencana alam yang terjadi akibat pergerakan atau pergeseran permukaan bumi secara tiba-tiba, yaitu ....

- a. kekeringan
  - b. banjir
  - c. letusan gunungapi
  - d. gempa bumi
25. Seismograf adalah alat yang digunakan untuk mengukur kekuatan ....
- a. gempa
  - b. ombak
  - c. ledakan
  - d. pukulan
26. Citra satelit digunakan untuk ....
- a. mengurangi bencana
  - b. meramalkan cuaca
  - c. membuat peta
  - d. membantu korban bencana
27. Teknologi mutakhir yang digunakan untuk menentukan posisi astronomis suatu wilayah, yaitu ....
- a. foto udara
  - b. peta
  - c. GPS
  - d. citra satelit
28. Proses menduniannya segala aspek kehidupan manusia disebut ....
- a. globalisasi
  - b. reboisasi
  - c. transformasi
  - d. telekomunikasi
29. Globalisasi terjadi seiring dengan ....
- a. bertambahnya penduduk
  - b. berpindahnya penduduk
  - c. berkembangnya teknologi
  - d. bertambahnya pendapatan
30. Globalisasi harus disikapi secara bijak, maksudnya ....
- a. semua budaya luar yang masuk harus ditiru
  - b. memilih pengaruh yang patut ditiru dan tidak patut ditiru
  - c. tradisi lama harus ditinggalkan
  - d. masyarakat harus kaya
31. Berikut merupakan contoh makanan tradisional Indonesia, yaitu ....
- a. *pizza*
  - b. *hamburger*
  - c. dodol
  - d. spageti

32. Alat komunikasi jarak jauh, yaitu ....
- a. telepon selular
  - b. majalah
  - c. buku
  - d. surat kabar
33. Berikut bukan nilai atau tradisi bangsa Indonesia yang harus dijaga, yaitu ....
- a. gotong royong
  - b. malas
  - c. kekeluargaan
  - d. musyawarah
34. Dampak positif dari adanya globalisasi, yaitu ....
- a. konsumtif
  - b. selera masyarakat yang seragam
  - c. adat istiadat ditinggalkan
  - d. informasi diperoleh dengan mudah

35.



Komoditas ekspor Indonesia ditunjukkan oleh gambar nomor ....

- a. 1
  - b. 2
  - c. 3
  - d. 4
36. Berikut bukan upaya yang dilakukan untuk menghadapi pengaruh buruk globalisasi, yaitu ....
- a. tertutup dan tidak peduli terhadap segala perubahan
  - b. terbuka dan hati-hati terhadap perubahan
  - c. mengandalkan kemampuan bangsa sendiri dan bergantung kepada bangsa lain
  - d. meningkatkan ilmu pengetahuan, iman, dan takwa

37. Tujuan dilakukannya perdagangan internasional, yaitu ....
- memenuhi kebutuhan bersama
  - memaksa bangsa lain
  - mengancam bangsa lain
  - membeli barang atau jasa dengan harga murah
38. Tindakan pemerintah dalam mendukung kegiatan ekspor, yaitu ....
- mempersulit prosedur ekspor
  - mempermudah prosedur ekspor
  - memberikan bantuan peralatan produksi
  - tidak mengenakan biaya ekspor
39. Berikut bukan manfaat dilakukannya perdagangan internasional, yaitu ....
- memenuhi kebutuhan dengan harga yang murah
  - memperoleh devisa
  - mempererat hubungan kerja sama antar negara
  - menghancurkan usaha dalam negeri
40. Lahan sawah tersebut dibuat dengan cara ....
- irigasi
  - terasering
  - reboisasi
  - penghijauan

## B. Jawablah pertanyaan berikut.

- Tuliskan potensi-potensi daerah yang dimiliki Provinsi Sumatra Barat.
- Apa yang dimaksud dengan laut teritorial?
- Terangkan manfaat adanya terumbu karang.
- Tuliskan tempat wisata penting yang ada di kawasan Asia Tenggara.
- Tuliskan persamaan sosial yang dimiliki negara-negara di kawasan ASEAN.
- Tuliskan letak astronomi Asia Tenggara.
- Mengapa Cina disebut sebagai Negara Tirai Bambu?
- Siapakah orang-orang yang berjasa menemukan Benua Australia?
- Tuliskan dua gurun yang berada di Benua Afrika.
- Mengapa Amerika disebut Negara *Super Power* (Adidaya)?
- Uraikan bencana alam berdasarkan jenis penyebabnya.
- Uraikan usaha yang dilakukan untuk menghadapi bencana alam.
- Uraikan perubahan perilaku masyarakat akibat globalisasi.
- Mengapa masyarakat tidak dapat menghindari dari globalisasi?
- Uraikan dampak positif dan negatif globalisasi.
- Mengapa dalam menghadapi globalisasi perlu ditingkatkan ilmu pengetahuan, iman, dan takwa?
- Uraikan proses terjadinya perdagangan internasional.
- Apa yang dimaksud dengan kerja sama internasional?
- Uraikan manfaat dilakukannya perdagangan internasional bagi suatu negara.
- Mengapa kegiatan ekspor dapat memperluas lapangan kerja?

## Daftar Pustaka

### A. Sumber Lain:

- Belen. S. 2003. *Portofolio dan Penilaian Dalam Pelaksanaan KBK*. Jakarta: Tingkat Pusat Kurikulum.
- Badan Standar Nasional Pendidikan. 2006. *Standar Isi Kompetensi Dasar Mata Pelajaran Ilmu Pengetahuan Sosial SD/MI*. Jakarta: Depdiknas.
- Chaldun. Ahmad. 2000. *Atlas Indonesia dan Dunia*. Surabaya: Karya Pembina Swajaya.
- Departemen Pendidikan Nasional. 2005. *Teknik Analisis Butir Sosial Instrumen Tes dan Non Tes*. Jakarta: Asosiasi Pengawas Sekolah Indonesia.
- Hasan, Said Hamid. (1996). *Pendidikan Ilmu Sosial*. Jakarta: Direktorat Jendral Depdikbud.
- Mudzakir Arief. 2006. *RPUL Global*. Semarang: Aneka Ilmu.
- Riley. Peter. 2005. *100 Pengetahuan Tentang Planet Bumi*. Jakarta: Intan Sejati.
- Sigar, Edi. 2007. *Buku Pintar Indonesia*. Jakarta: Delapratasa Publishing.
- Tim Penyusun. 2006. *Atlas: Indonesia dan dunia 33 Provinsi*. Jakarta: Oi Mori.
- Tim Penyusun. 2007. *Enslikopedia Geografi: Enslikopedia Geografi Dunia Untuk Pelajaran dan Umum*. Jakarta: Centra Abadi.
- 2007. *Enslikopedia IPTEK: Bumi Ruang dan Waktu*. Jakarta: Centra Abadi.

### B. Sumber Lain:

- |  |  |
|--|--|
| <a href="http://www.deptan.com">www.deptan.com</a>                 | <a href="http://www.wikipedia.org">www.wikipedia.org</a>     |
| <a href="http://www.usm.com">www.usm.com</a>                       | <a href="http://www.serambinews.com">www.serambinews.com</a> |
| <a href="http://www.indoneem.com">www.indoneem.com</a>             | <a href="http://www.amajaya.ic.id">www.amajaya.ic.id</a>     |
| <a href="http://www.globalgeografi.com">www.globalgeografi.com</a> | <a href="http://www.indomedia.com">www.indomedia.com</a>     |

## Glosarium

Bencana geologis	: bencana alam yang disebabkan faktor–faktor di dalam bumi.
Danau	: genangan air yang sangat luas, dikelilingi daratan.
Devisa	: alat pembayaran luar negeri yang dapat ditukarkan dengan uang luar negeri.
Eksplorasi	: penjelajahan dengan tujuan memperoleh pengetahuan tentang sumber daya alam yang terdapat di tempat itu.
Ekspor	: kegiatan menjual barang atau jasa ke luar negeri.
Ekstraterrestrial	: bencana alam yang disebabkan hal–hal di luar bumi.
Globalisasi	: menduniannya segala aspek kehidupan manusia.
Iklim	: keadaan rata-rata cuaca di suatu tempat yang luas, dalam jangka waktu yang lama dan bersifat tetap.
Impor	: kegiatan membeli barang atau jasa dari luar negeri.
Konsumtif	: perilaku mengonsumsi barang atau jasa secara berlebih-lebihan.
Laut	: kumpulan air asin (dalam jumlah banyak dan luas) yang menggenangi dan membagi daratan atas benua atau pulau.
Letak Astronomis	: letak suatu negara berdasarkan garis bujur dan garis lintang.
Mitigasi	: usaha-usaha yang bersifat persiapan fisik dan nonfisik dalam menghadapi bencana alam.
Negara Federal	: negara yang terdiri atas beberapa negara bagian.
Semenanjung	: daratan yang menjorok ke laut.
Sungai	: aliran air yang besar (biasanya buatan alam).
Tsunami	: gelombang pasang laut yang diakibatkan gempa bumi di dasar laut.







ISBN 978-979-068-618-2 (nomor jilid lengkap)

ISBN 978-979-068-624-3

Buku ini telah dinilai oleh Badan Standar Nasional Pendidikan (BSNP) dan telah dinyatakan layak sebagai buku teks pelajaran berdasarkan Peraturan Menteri Pendidikan Nasional Republik Indonesia Nomor 69 Tahun 2008 Tanggal 7 November 2008 tentang Penetapan Buku Teks Pelajaran yang Memenuhi Syarat Kelayakan untuk Digunakan dalam Proses Pembelajaran.

Harga Eceran Tertinggi (HET ) Rp7.476,-